

名前

学習した日
月 日

学習のポイント

1. 日本国憲法

- ① 3つの原則…国民主権、基本的人権の尊重、平和主義
- ② 義務…教育を受けさせる、勤労、納税
- ③ 改正…各議院の総議員の3分の2以上の賛成で発議
→国民投票で過半数の賛成→天皇が公布

2. 政党政治と選挙

- ① 政党政治…政党中心の政治、与党・野党
- ② 選挙…満20歳以上に選挙権、衆議院→小選挙区比例代表並立制、参議院→選挙区選挙と比例代表制

3. 選挙の原則…普通、秘密、平等、直接選挙

3. 国会・内閣・裁判所

- ① 国会…立法権、法律の制定、予算議決、内閣総理大臣指名、条約の承認、衆議院の優越
- ② 内閣…行政権、内閣総理大臣と国务大臣、条約を結ぶ、天皇の国事行為に助言と承認
- ③ 裁判所…司法権、民事裁判・刑事裁判、三審制、最高裁判所裁判官の国民審査
- ④ 三権分立…国会・内閣・裁判所が監視しあう

7] 日本国憲法について、次の問いに答えなさい。 1つ5 [50点]


- ① 次のア～ウは、あとの日本国憲法のあ～うのどの原則について説明したものです。記号で答えなさい。
- ア 人が生まれながらにもつ権利を大切に。
- イ 戦力を持たず、2度と戦争をしない。
- ウ 政治の主人公は国民である。

[あ 基本的人権の尊重 い 国民主権 う 平和主義]

- ② 次のア～エから、①のあ～うの原則について述べたものをそれぞれ選んで、記号で答えなさい。
- ア 日本は、戦争による唯一の被爆国として、非核三原則を決めている。
- イ 天皇は国民統合の象徴として、国事行為を行う。
- ウ 国民は、国会議員や地方議会の議員を選挙することができる。
- エ 人間らしく生きるための、おかすことのできない永久の権利とされている。

あ い う

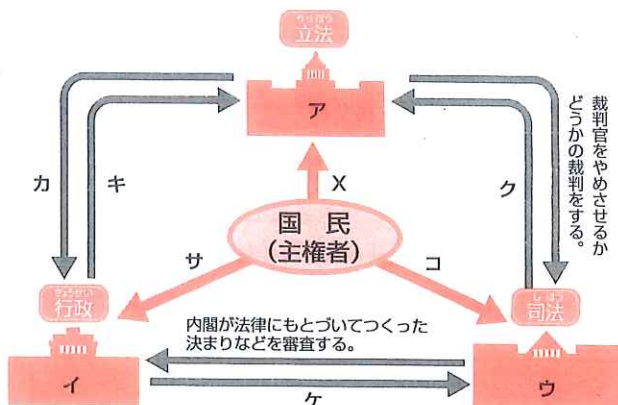
□ ③ 次の絵にあてはまる国民の権利・義務をあとのア～クからそれぞれ選び、記号で答えなさい。



- ア 裁判を受ける権利 イ 言論・出版の自由
- ウ 団結する権利 エ 居住・移転の自由
- オ 納税の義務 カ 信教の自由
- キ 教育を受ける権利 ク 働く権利・義務

2] 政治のしくみについて、あとの問いに答えなさい。

1つ5 [50点]



- ① 上の図中のア～ウから、国権の最高機関を選んで、記号で答えなさい。
- ② 図中のXは、右の写真の様子を表しています。何をしていますか。()



- ③ アの立法、イの行政、ウの司法を担当する国の権力は何ですか。それぞれ答えなさい。
- ア 立法 () イ 行政 ()
- ウ 司法 ()
- ④ 次のA～Eにあてはまるものを図中のカ～サからそれぞれ選び、記号で答えなさい。
- A 最高裁判所の裁判官が裁判官として適しているかどうかの国民審査を行う。
- B 内閣の行う政治に対する、国民のまとまった意見のことである。
- C 法律が憲法に違反していないかどうかを判断する。
- D 最高裁判所の長官を指名し、その他の裁判官を任命する。
- E 内閣総理大臣を指名する。

名前 _____

学習した日 _____ 月 _____ 日 _____

_____ 点

★答えは138ページ

1 日本国憲法について、次の問いに答えなさい。 1つ5 [25点]

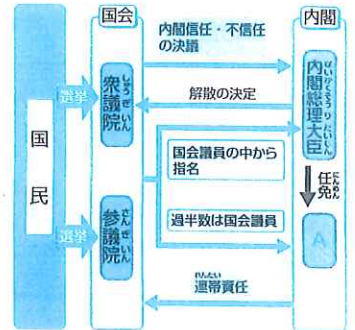
- 日本国憲法が公布されたのは、何年何月何日ですか。
(年 月 日)
- 日本国憲法の3つの原則のうち、次の文の権利を尊重することを何といいますか。
「人間らしく生きるために、生まれながらに持っている権利で、おかしことのできない永久の権利」
() の尊重
- 日本国憲法の改正の手続きについて、次の問いに答えなさい。
A 憲法改正の発議をするためには、衆議院と参議院の総議員の()以上の賛成が必要です。()にあてはまるものを次から選んで、記号で答えなさい。
ア 3分の1 イ 3分の2
ウ 2分の1 エ 4分の3
B 憲法改正のためには、発議ののち、()で有効投票の過半数の賛成が必要です。()にあてはまる手続きを答えなさい。
C 日本国憲法で平和主義を唱える日本は、ただ1つの被爆国でもあります。このため核兵器を「持たず、つくらず、持ちこませず」という方針を持っています。この方針を何といいますか。

2 国会について、次の問いに答えなさい。 1つ5 [25点]

- 国会は、衆議院と参議院で成り立っています。このような制度を何とよんでいますか。()
- 毎年1回、1月中に召集され、予算を審議して決める国会を、次から選び、記号で答えなさい。
ア 特別会(特別国会)
イ 臨時会(臨時国会)
ウ 常会(通常国会)
エ 緊急集会
- 国会のおもな仕事は、内閣が提出した国の予算を審議して決めることや、国民が守るべき決まりを決めることがあります。この国民が守るべき決まりを何といいますか。()
- 国会には、罪をおかしたと思われ、やめさせたほうがよいとして訴えられた裁判官を裁判する権限があります。このような裁判を何とよんでいますか。()
- 衆議院は、参議院に比べて権限が強く、これを衆議院の優越とよんでいます。次のア～エから衆議院の優越にあたらないものを選んで、記号で答えなさい。
ア 予算を先に審議する。
イ 内閣の信任・不信任を決議する。
ウ 国政調査権を行使する。
エ 外国と結んだ条約を承認する。

3 内閣について、次の問いに答えなさい。 1つ5 [25点]

- 右の図は、内閣が国会から生まれ国会の信任の上に成り立っているため、内閣は国会に対して連帯して責任を負うというしくみを表しています。このしくみを何といいますか。()
- 右の図のAの過半数は国会議員から選ばれ、各省の長となります。Aの役職をまとめて何とよんでいますか。()
- 内閣は、衆議院と参議院のどちらかを解散することができます。内閣が解散できるのはどちらの院ですか。()
- 内閣の仕事の1つとして、()の長官の指名があります。()にあてはまる組織の名前を答えなさい。()
- 内閣は、憲法と法律に基づいて、実際に政治を行うための決まりを定めることができます。この決まりを次から選んで、記号で答えなさい。
ア 条例 イ 国事行為
ウ 世論 エ 政令



4 裁判所について、次の問いに答えなさい。 1つ5 [25点]

- 右の図は、裁判所の判決に不服がある場合、第一審をふくめて3回まで裁判を受けられることを表しています。このしくみを何といいますか。()
- 右の図のaは、高等裁判所から最高裁判所に訴えることです。これを何といいますか。次から選んで、記号で答えなさい。
ア 上告 イ 起訴
ウ 控訴 エ 調停
- 最高裁判所の裁判官は、任命されると、最初の衆議院議員総選挙のとき、また、その後10年たつてからの総選挙のときに、適任かどうかの投票が行われます。この制度を何といいますか。()
- 犯罪をおかした疑いのある者に対する裁判は、民事裁判・刑事裁判のどちらですか。()
- 立法・行政・司法の3つの機関が分担して政治を行い、政治の権力が1つの機関に集まり過ぎないようにして、おさえあっているしくみを何といいますか。()

