

28 東北地方

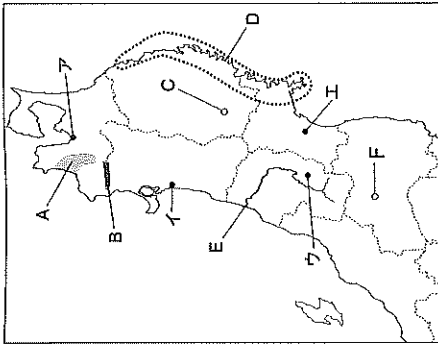
クラス _____ 番号 _____

得点 /100

次の問いに答えなさい。

- (1) 右の地図を見て、次の問いに答えなさい。
 - ① Aの平野の説明としてあてはまるものを、次から1つ選びなさい。
ア りんごの生産が盛んな果樹平野である。
イ りんごの生産が盛んな秋田平野である。
ウ みかんの生産が盛んな津軽平野である。
エ みかんの生産が盛んな秋田平野である。
 - ② Bの山地は、ぶなの原生林が広がり、世界自然遺産に登録されている。この山地の名称を答えなさい。
 - ③ Cは、世界文化遺産として登録された金色堂で有名な寺院の位置を示している。この寺院の名称を答えなさい。
 - ④ Dの海岸の南部は、根柢に入り組んだリアス海岸となっている。この海岸の名称を答えなさい。
 - ⑤ Eの河川の説明としてあてはまるものを、次から1つ選びなさい。
ア 下流域に庄内平野が広がる北上川である。
イ 下流域に庄内平野が広がる最上川である。
ウ 下流域に仙台平野が広がる北上川である。
エ 下流域に仙台平野が広がる最上川である。
 - ⑥ Fの都市で生産が盛んな伝統的工芸品を、次から1つ選びなさい。
ア 置賜織 イ 南部銃罫 ウ 雄勝織 エ 会津塗
 - ⑦ 毎年夏に竿燈まつりが行われる都市の位置を、地図中のア～エから1つ選びなさい。
- (2) 東北地方の太平洋は、世界有数の漁場となっている。この地域が好漁場となっている理由を、「暖流」「寒流」という語句を用いて、簡単に答えなさい。
- (3) 東北地方の太平洋側では、夏に冷たい北東風が吹き、冷害が発生することがある。この風を何というか、答えなさい。
- (4) 東北地方は昔から馬の飼育が盛んで、特に岩手県は「蒲駒」とよばれる馬の産地として知られてきた。岩手県では、右の図のような、居間と馬廄が結ばれた伝統的な形の民家が見られる。このような民家を何というか、漢字4字で答えなさい。

(10点×10)



①	_____
②	_____
③	_____
④	_____
⑤	_____
⑥	_____
⑦	_____
(1)	_____
(2)	_____
(3)	_____
(4)	_____

29 北海道地方


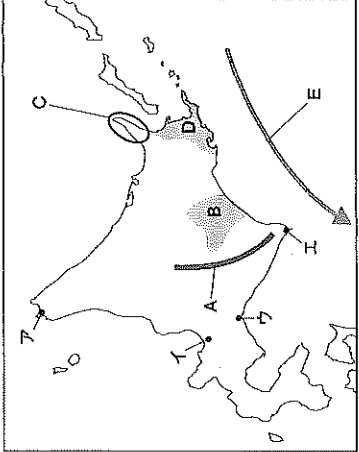
クラス _____ 番号 _____

得点 /100

次の問いに答えなさい。

- (1) 右の地図を見て、次の問いに答えなさい。
 - ① Aの山脈の名称を答えなさい。
 - ② Bの平野では畑作中心の農業が行われている。北海道が全国の生産量の100%を占める。北海道が全国の生産物の、次から1つ選りなさい。
ア てんさい イ あずき
ウ ジャガイモ エ たまねぎ
 - ③ Cは世界自然遺産に登録されている半島である。この半島を、次から1つ選りなさい。
ア 秋丹半島 イ 根室半島
ウ 知床半島 エ 渡島半島
 - ④ Dの地域の説明としてあてはまるものを、次から1つ選びなさい。
ア 酪産が盛んな石狩平野である。 イ 酪産が盛んな根釧台地である。
ウ 稲作が盛んな石狩平野である。 エ 稲作が盛んな根釧台地である。
 - ⑤ Eの海流が南下する北海道の沿岸部では、暖かい空気が海面で冷やされて、夏に霧が発生しやすくなる。□□にあてはまる語句を、漢字2字で答えなさい。
 - ⑥ アイヌ語の「ヤムワッカナイ（冷たい水の川）」という言葉由来する地名の位置を、地図中のア～エから1つ選りなさい。
- (2) 明治時代になると、北海道に開拓使という官庁がおかれ、兵士も兼ねた□□が組織的な開拓を行った。□□にあてはまる語句を答えなさい。
- (3) 右のグラフは、農家一戸 農家一戸当たりの耕地面積を示している。北海道の農家一戸当たりの耕地面積は全国平均の約何倍か、小数第一位を四捨五入して、整数で答えなさい。
- (4) 北海道ではかつては北洋漁業が盛んであったが、現在はふるわなく、母国主義とはどのような考えか、「産卵する川」という語句を用いて、簡単に答えなさい。
- (5) 「とる漁業」が行きまわったことから、北海道では「□□漁業」への転換が図られ、栽培漁業や養殖が行われている。□□にあてはまる語句を答えなさい。

(10点×10)



①	_____
②	_____
③	_____
④	_____
⑤	_____
⑥	_____
(1)	_____
(2)	_____
(3)	約 _____ 倍
(4)	_____
(5)	_____

19 欧米の進出と日本の開国①

右の年表を見て、次の問いに答えなさい。

- (1) aの[]にあてはまる、スペインから独立して、ヨーロッパの貿易や金融の中心となっていた国はどこか。
- (2) bのビュリータン革命を指導した、議会派の人物はだれか。
- (3) bのビュリータン革命によって、イギリスではどのような政治になったか。「王政」、「共和制」の語句を用いて簡単に答えなさい。
- (4) cについて、フランスの絶対王政の下で、免税などの特権を持っていた身分とは、貴族ともう一つは何か。
- (5) dのところに活躍した啓蒙思想家とその主張の正しい組み合わせを、次から1つ選びなさい。
ア ロック-社会契約説 イ モンテスキュー-社会契約説
ウ ロック-三権分立 エ ルソー-三権分立
- (6) dの名譽革命の後のイギリスの様子にあてはまるものを、次から1つ選びなさい。
ア 軍専力でヨーロッパの大部分を従わせた。
イ 憲法が制定され、大統領制の国になった。
ウ 立憲君主制と議会政治が確立した。
エ 国王が強い権力をふるった。
- (7) eについて述べた次の文中の()にあてはまる語句を、それぞれ答えなさい。
「北アメリカに作られた13の植民地が、本国(①)からの独立を求め、(②)を軍最高司令官として独立戦争を起こした。」
- (8) fのフランス革命に際して発表された人権宣言の内容を、次から1つ選びなさい。
ア 議会の同意なしに、国王の権限によって法律とその効力を停止することは違法である。
イ 人は生まれながらに、自由で平等な権利を持つ。社会的な区別は、ただ公共の利益に関係のある場合にしか認められてはならない。
ウ 我々は以下のことを自明の真理であると信じる。人間はみな平等に創られ、ゆずりわたすことのできない権利を神によってあたえられていること、その中には、生命、自由、幸福の追求がふくまれていること、である。
エ 国王大権と称して、議会の承認なく、国王の使用のために税金を課すことは、違法である。
- (9) ナポレオンが皇帝となったのはいつか。最も近い時期に起きたできごとを、年表中のb, d, e, fから選びなさい。

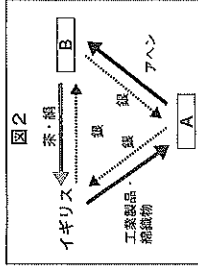
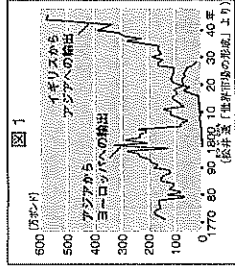
年代	できごと
1602	[]が東インド会社を設立…a
1640	イギリスでビュリータン革命…b
1661	ルイ14世の絶対王政が始まる…c
1688	イギリスで名誉革命が起こる…d
1775	アメリカ独立戦争が始まる…e
1789	フランス革命が起こる…f

(1)	
(2)	
(3)	
(4)	
(5)	
(6)	
(7)	
(8)	
(9)	

20 欧米の進出と日本の開国②

右の年表を見て、次の問いに答えなさい。

- (1) 図1は、Xの時期のアジアとイギリスの綿織物の輸出額を示したものである。イギリスの綿織物の輸出が大きいのは理由を、「蒸気機関」の語句を用いて簡単に答えなさい。
- (2) aのアヘン戦争の背景を示した右の図2の[] A・Bにあてはまる国・地域名を、それぞれ答えなさい。
- (3) aのアヘン戦争の結果として結ばれた条約を何というか。
- (4) bについて述べた次の文中の()にあてはまる語句を、それぞれ答えなさい。
「この本の中で、マルクス、エンゲルスは、生産の元手を持つ者が労働者やとい、利潤を目的に生産を行う(①)主義を批判し、生産に必要な手段を共有する(②)主義の考えを説いた。」
- (5) cの[]にあてはまる、洪秀全を指導者とする社会をつくらうとした組織を何というか。
- (6) dのころ、皇帝の専制政治が続けられていたある国は、南下政策をもって各国と衝突した。この国はどこか。次から1つ選びなさい。
ア ロシア イ フランス ウ イタリア エ スペイン
- (7) eの南北戦争のさい、北部の州はどのような主張をしたか。次から1つ選びなさい。
ア 奴隷制の廃止と自由貿易 イ 奴隷制の存続と自由貿易
ウ 奴隷制の廃止と保護貿易 エ 奴隷制の存続と保護貿易
- (8) fのドイツで富国強兵政策を進め、「鉄血宰相」と呼ばれたのはだれか。次から1つ選びなさい。
ア ナポレオン イ クロムウェル
ウ リンカン エ ビスマルク



年代	できごと
1769	ワットが蒸気機関を改良する ↑ X
1840	アヘン戦争が起こる…a
1848	「共産党宣言」が出される…b
1851	[]の乱が起こる…c
1857	インド大反乱が起こる…d
1861	アメリカで南北戦争が起こる…e
1871	ドイツ帝国が成立する…f

(1)	
(2)	A
(3)	B
(4)	①
(5)	②
(6)	
(7)	
(8)	

21

欧米の進出と日本の開国③

クラス	番号	得点
氏名		100

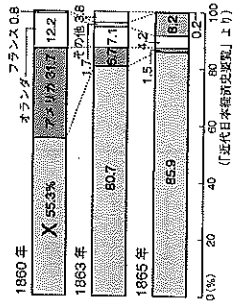
(10点×10)

右の年表を見て、次の問いに答えなさい。

(1) a について、アメリカが日本の開国を求めたのはなぜか。次から1つ選びなさい。

- ア 日本の銀を手に入れたから。
- イ キリスト教を布教したから。
- ウ アメリカの植民地にしたから。
- エ 太平洋横断の中継地としたから。

(2) b の日米和親条約で開かれた2港はどこか。
(3) c の後、貿易が始まった。主な貿易の相手国を示した次のグラフ中のXにあてはまる国はどこか。



- (4) d で暗殺された江戸幕府の元老はだれか。
 (5) e, f の後、薩摩藩や長州藩は倒幕を目指すようになった。その理由を、「攘夷」、「列強」、「同盟」の語句を用いて簡単に説明しなさい。
 (6) g の薩長同盟の仲立ちをした人物とその出身藩の組み合わせを、次から1つ選びなさい。
 ア 坂本龍馬 - 水戸藩 イ 勝海舟 - 土佐藩
 ウ 坂本龍馬 - 土佐藩 エ 勝海舟 - 水戸藩
 (7) h の [] にあてはまる、江戸幕府の將軍が政権を朝廷に返したできごとを何というか。

- (8) i の戊辰戦争の戦いが行われた場所としてあてはまらないものを、次から1つ選びなさい。
 ア 下関 イ 鳥羽・伏見 ウ 会津若松 エ 函館
 (9) 幕府に反対した大名や武士、公家などが逮捕された安政の大獄が行われたのはいつか。あてはまる時期を、年表中のア～エから選びなさい。

年代	できごと
1853	アメリカの使節が浦賀に来る… a
1854	日米和親条約が結ばれる… b
	↑ ↓ ア
1858	日米修好通商条約が結ばれる… c
	↑ ↓ イ
1860	松田門外の変が起こる… d
	↑ ↓ ウ
1863	薩摩藩がイギリスと戦う… e
1864	長州藩が4か国の艦隊に攻撃される… f
	↑ ↓ エ
1866	薩長同盟が結ばれる… g
1867	[] が行われる… h
1868	戊辰戦争が起こる… i

(1)	
(2)	
(3)	
(4)	
(5)	
(6)	
(7)	
(8)	
(9)	

(2)は順不同