



202203106

新中学3年 社会

2021年3月実施 所要時間50分

生徒番号

【本人の注意】
番号はすべて、画の付けた枠の範囲に合わせる
(生徒番号の例) □□1234 → 0011234

教科 106 団体コード(4桁) 教室コード(3桁)

氏名

公開会場使用欄
ここにQRコードの
シールを貼って下さい。

の部分がマークシート方式による解答欄です。

注意事項

- HBまたはBの鉛筆(シャープペンシルも可)を使用して、○の中を塗りつぶすこと。
 - 答えを直すときは、きれいに消して、消しくずを残さないこと。
 - 数字や文字などを記述して解答する場合は、解答欄からはみ出さないように、はっきりに書き入れること。
 - 解答用紙を汚したり、折り曲げたりしないこと。
- ※ この解答用紙はコピーを取ったものはご利用できません。

良い例	悪い例
線	小さい
丸囲み	点
	うすい

問1

(1)	①	②	③	④	⑤	⑥	21
(2)	①	②	③	④	⑤	⑥	22
(3)	①	②	③	④	⑤	⑥	23
(4)	①	②	③	④	⑤	⑥	24
(5)	①	②	③	④	⑤	⑥	25
(6)	①	②	③	④	⑤	⑥	26

※ 解答欄は裏面にあります。

計20点

問2

(1)	①	②	③	④	⑤	⑥	27
(2)	①	②	③	④	⑤	⑥	28
(3)	①	②	③	④	⑤	⑥	29
(4)	①	②	③	④	⑤	⑥	30
(5)	①	②	③	④	⑤	⑥	31

※ 解答欄は裏面にあります。

計17点

問3

(1)	①	②	③	④	⑤	⑥	14
(2)	①	②	③	④	⑤	⑥	15
(3)	①	②	③	④	⑤	⑥	16
(4)	①	②	③	④	⑤	⑥	17
(5)	①	②	③	④	⑤	⑥	18
(6)	①	②	③	④	⑤	⑥	19
(7)	①	②	③	④	⑤	⑥	20

※ 解答欄は裏面にあります。

計21点

問4

(1)	①	②	③	④	⑤	⑥	21
(2)	①	②	③	④	⑤	⑥	22
(3)	①	②	③	④	⑤	⑥	23
(4)	①	②	③	④	⑤	⑥	24
(5)	①	②	③	④	⑤	⑥	25
(6)	①	②	③	④	⑤	⑥	26

※ 解答欄は裏面にあります。

計21点

問5

(1)	①	②	③	④	⑤	⑥	27
(2)	①	②	③	④	⑤	⑥	28
(3)	①	②	③	④	⑤	⑥	29
(4)	①	②	③	④	⑤	⑥	30
(5)	①	②	③	④	⑤	⑥	31

※ 解答欄は裏面にあります。

計17点

問1(7) (ii) う

大陸	え	2
----	---	---

問2(4)

10

問3(7) 年から 年まで

14

問4(4) (i) え お

26

問5(4) (i) (ii)

12	15
----	----

...アメリカ合衆国に対するからです。

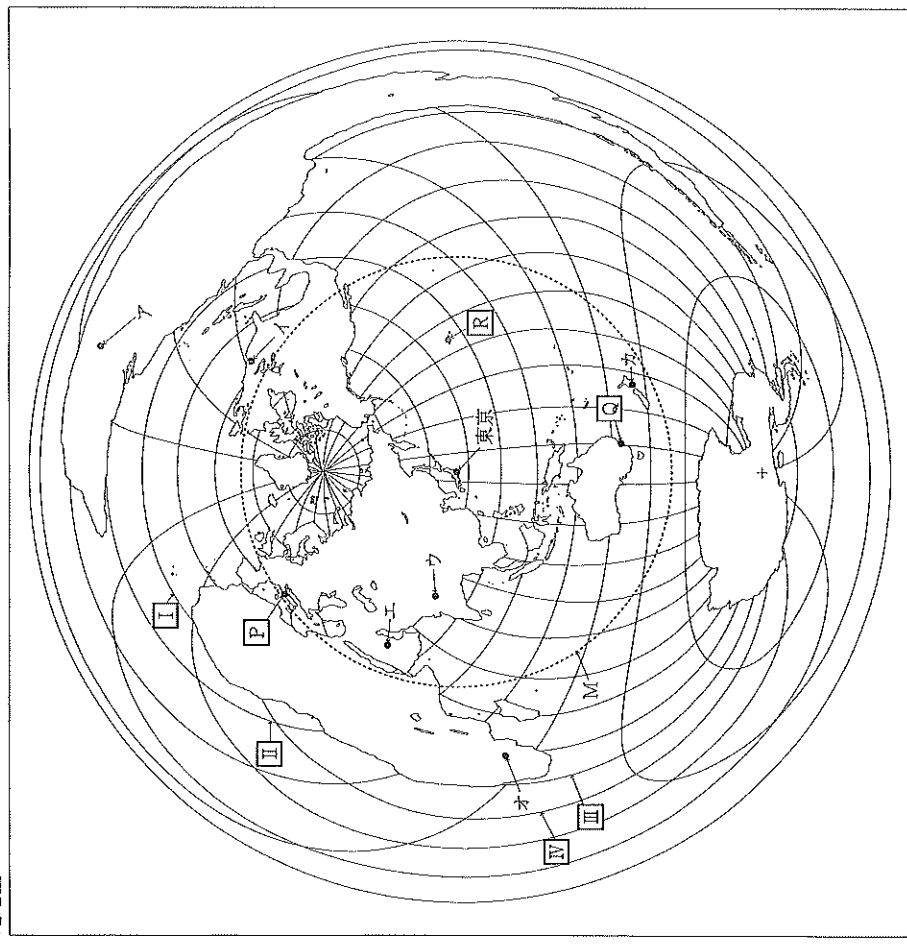
31

2022.2.28 中ZSS <2021年3月実施分>

問1 次の略地図は、地図の中心にある東京からの距離と方位が正しく表されたものである。緯線は北極点から、経線は本初子午線からそれぞれ等間隔に引いたものである。また、表1～表4は、略地図中の様々な国の人口や産業についてまとめたものである。

これらの略地図及び表1～表4について、あとの各問いに答えなさい。

略地図



※Mは東京を中心に等距離を結んだ線である。

表1 略地図中の国の人口と年齢別人口の割合

人口	年齢別人口の割合
都市アを首都とする国	2億1,105万人 0～14歳：21.0%、15～64歳：69.7%、65歳以上：9.3%
都市イを首都とする国	3億2,907万人 0～14歳：18.5%、15～64歳：65.3%、65歳以上：16.2%
世界全体	77億1,347万人 0～14歳：25.6%、15～64歳：65.3%、65歳以上：9.1%

表2 大豆の生産量(2017年)

国	生産量 (単位：千トン)
都市イを首都とする国	123,664
都市アを首都とする国	117,888
アルゼンチン	37,788
中国	14,189
都市ウを首都とする国	13,786
世界計	348,712

注：「世界計」は、その他の国の生産量を含む。

(ア) 略地図について、あとの各問いに答えなさい。

(i) 略地図について説明した次の文中の【あ】、【い】、【う】にあてはまる語句の組み合わせとして最も適するものを、あとの1～6の中から一つ選び、その番号を答えなさい。

この略地図では、【P】で示した地点から見た東京の方位は南東であると【あ】。また、【P】、【Q】、【R】のうち、東京から見ても遠くに位置している地点は、【い】である。

1. あ：いえる い：【P】 2. あ：いえる い：【Q】 3. あ：いえる い：【R】
4. あ：いえない い：【P】 5. あ：いえない い：【Q】 6. あ：いえない い：【R】

(ii) 略地図について説明した次の文中の【う】にあてはまる大陸の名称を書きなさい。また、【え】にあてはまる語句として最も適するものを、あとのA～Dの中から一つ選び、その記号を書きなさい。

略地図の中心に位置する東京を出発して東に進んだ場合、最初に到達する大陸は【う】大陸である。また、略地図中の【え】で示した線は、赤道を表している。

- A 【I】 B 【II】 C 【III】 D 【IV】

(イ) 次の文a～fのうち、表1～表3について正しく説明したものの組み合わせとして最も適するものを、あとの1～8の中から一つ選び、その番号を答えなさい。

- a 表1によると、都市アを首都とする国の0～14歳の人口と、都市イを首都とする国の65歳以上の人口は、ほぼ同じである。
- b 表1によると、都市イを首都とする国の人口は、世界全体の0～14歳の人口の、約6分の1にあたる。
- c 表2によると、都市アを首都とする国の大豆の生産量は、世界計の約25%を占めている。
- d 表3によると、都市ウを首都とする国からの日本への輸出額のうち、機械類が総額の約10%を占めている。
- e 表2をもとに、大豆の生産量の割合を国ごとに比較する場合、帯グラフを用いることができる。
- f 表3をもとに、都市ウを首都とする国からの日本への主な輸出品目ごとの割合を比較する場合、円グラフでは正確に表すことができない。

表3 都市ウを首都とする国の日本への主な輸出品(2019年)

品目	金額 (単位：百万円)
有機化合物	78,377
機械類	60,639
石油製品	57,950
魚介類	48,783
ダイヤモンド	37,288
総額	585,500

注：「総額」は、その他の品目の輸出品を含む。

(表1～表3は、『世界国勢図 2019/20年版』をもとに作成)

- 1. a. c. e 2. a. c. f 3. a. d. e 4. a. d. f
- 5. b. c. e 6. b. c. f 7. b. d. e 8. b. d. f

(ウ) 略地図中の都市ウ～カを首都とする国について、あとの各問いに答えなさい。

(i) 次の表4は、略地図中の都市ウ及びカを首都とする国における主な貿易相手国の割合を示したものである。表中の「お」にあてはまる国として最も適するものを、あとの1～4の中から一つ選び、その番号を答えなさい。

表4

都市ウを首都とする国(2019年)		都市カを首都とする国(2019年)	
輸出(%)	輸入(%)	輸出(%)	輸入(%)
都市イを首都とする国	16.0	お	23.8
アラブ首長国連邦	9.0	オーストラリア	15.8
お	5.1	都市イを首都とする国	9.7
香港	4.1	日本	6.1
シンガポール	3.2	韓国	3.0
		ドイツ	5.1

(『世界国勢図会 2020/21年版』をもとに作成)

1. フランス 2. 中国 3. インドネシア 4. イギリス

(ii) 略地図中の都市エを首都とする国について説明した次の文中の「か」、「き」にあてはまる語句の組み合わせとして最も適するものを、あとの1～4の中から一つ選び、その番号を答えなさい。

この国は、国土全体が「か」帯と呼ばれる気候帯に属している。また、国民の90%以上が「き」教を信仰しており、人々は教典にのっとった生活を送っている。

1. か：熱 き：ヒンドゥー 2. か：熱 き：イスラム
3. か：乾燥 き：ヒンドゥー 4. か：乾燥 き：イスラム

(iii) 略地図中の都市オを首都とする国のようすについて説明した文として最も適するものを、次の1～4の中から一つ選び、その番号を答えなさい。

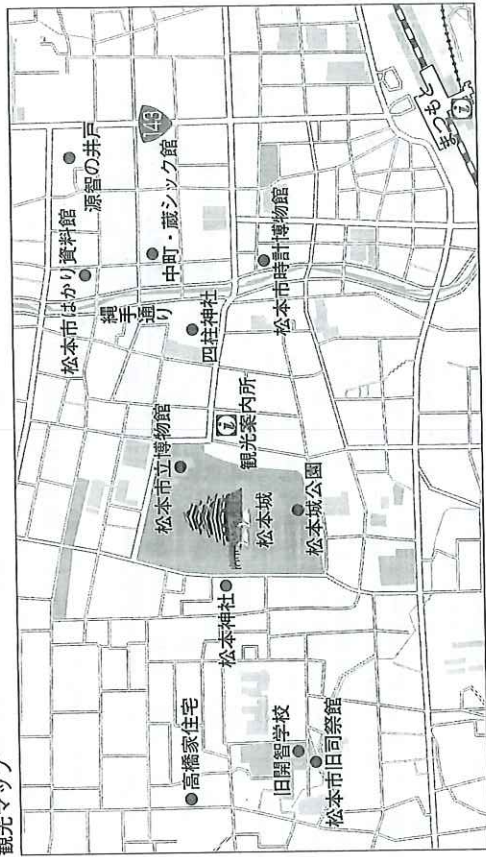
1. ダイヤモンドの産地として知られるが、近年は、白金やコバルトなどの希少金属の産出で注目されている。
2. かつて白豪主義政策がとられていたが、近年、先住民であるアボリジニの人々の先住権が認められた。
3. サンバルトと呼ばれる地域で、コンピュータやインターネットに関連する情報技術産業が発達している。
4. 森林の木々を切り倒して焼き、その灰を肥料として作物を育てる焼畑農業が、伝統的にこなわれてきた。

問2 Kさんは、長野県松本市を題材に調べ学習をおこない、レポートを作成した。これについて、あとの各問いに答えなさい。

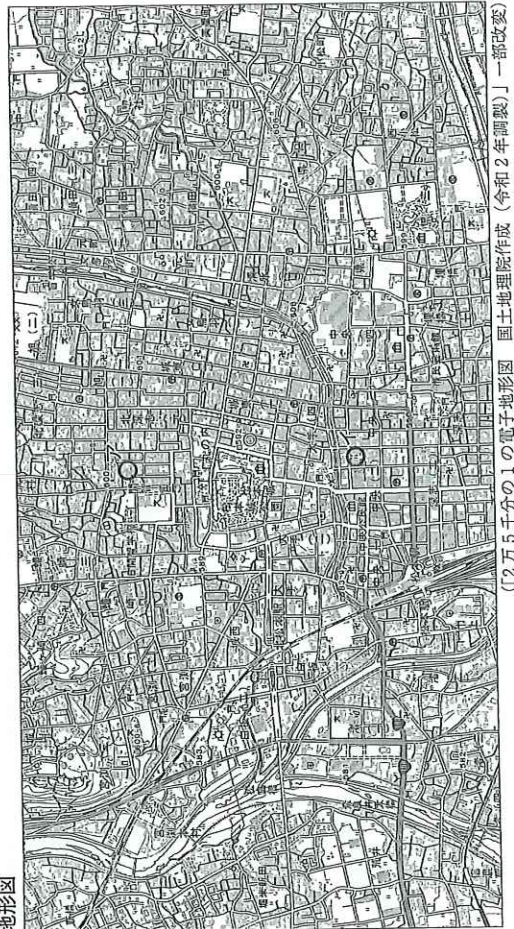
→ 裏表紙 原寸版参照

私は、新宿駅から中央本線の特急を利用して、長野県へ向かいました。途中、^①山が山間部から平地に出たところに土砂が積もってできた土地に果樹園が広がっている様子が見えました。このあたり一帯は、^②中央高地と呼ばれていますが、その名の通り、高い山々が連なっているのがわかりました。草葎からは、^③田畑で農作業している人々のすがたも見えました。松本駅に到着すると、多くの^④観光客でにぎわっていました。駅の近くで屋敷をとったあと、翌日の調査に備えて、松本市の観光マップと地形図を用意することにしました。

観光マップ



地形図



(2万5千分の1の電子地形図 国土地理院作成(令和2年調製)の一部改変)

(イ) 観光マップと地形図について、あとの各問いに答えなさい。
 (i) 地形図中の松本駅から見たときの、市役所の方位として最も適するものを、次の1～4の中から一つ選び、その番号を答えなさい。

1. 南東
2. 南西
3. 北東
4. 北西

(ii) この地形図上で6cmの長さで示される実際の距離として最も適するものを、次の1～4の中から一つ選び、その番号を答えなさい。

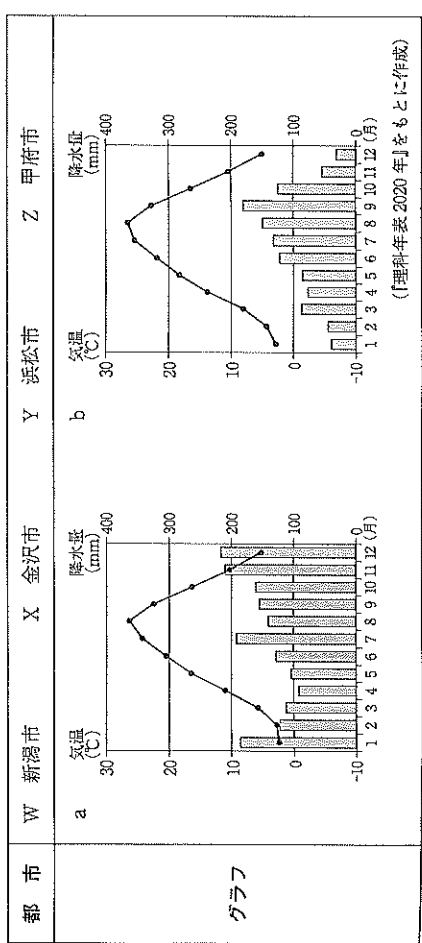
1. 1.500 m
2. 2.000 m
3. 2.500 m
4. 3.000 m

(iii) 地形図上のア、イで示した地点に対応する観光マップ上の場所の組み合わせとして最も適するものを、次の1～4の中から一つ選び、その番号を答えなさい。

1. ア：松本市旧司祭館 イ：松本市時計博物館
2. ア：松本市旧司祭館 イ：中町・蔵シツク館
3. ア：高橋家住宅 イ：松本市時計博物館
4. ア：高橋家住宅 イ：中町・蔵シツク館

(iv) 線①に関して、この地形の名称を漢字3字で書きなさい。

(v) 線②に関して、中央高地に含まれる都市の名称とその都市の気温と降水量を表したグラフの組み合わせとして最も適するものを、あとの1～8の中から一つ選び、その番号を答えなさい。



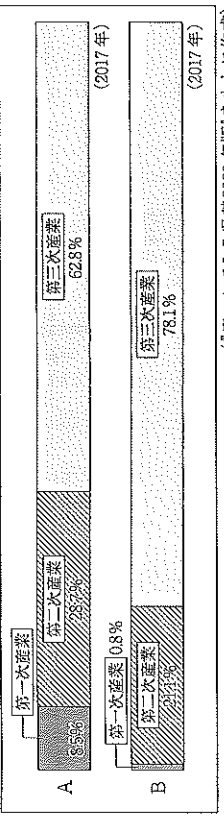
1. Wとa
2. Wとb
3. Xとa
4. Xとb
5. Yとa
6. Yとb
7. Zとa
8. Zとb

(ロ) 線③に関して、次の表は、日本の産業別就業者数を表したもので、すべての産業を三つの類型に分類して示している。また、グラフ1のうちAとBは、長野県と神奈川県産業別就業者数の割合のいずれかを示している。これらについて説明した、あとの文中の「あ」、「い」にあてはまる語句の組み合わせとして最も適するものを、1～4の中から一つ選び、その番号を答えなさい。

	1960年	2015年
農業、林業、水産業などの第一次産業	14,389	2,222
鉱業、工業などの第二次産業	12,804	13,921
商業、運輸業、サービス業などの第三次産業	16,841	39,615

(単位：千人)

表

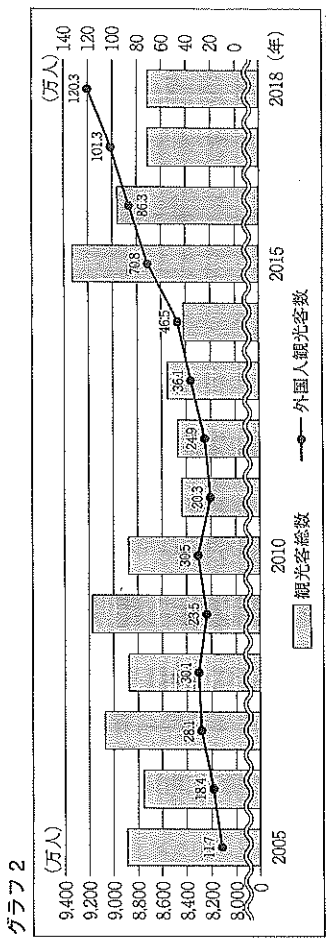


(「データでみる県勢2020年版」をもとに作成)

表からは、1960年と比べると、2015年には、日本の第二次産業の就業者の占める割合が、 になっていることがわかる。また、長野県は、神奈川県に比べ、 の就業者の占める割合が大きいが、 ことがわかる。

1. あ：増加 い：第一次産業と第二次産業 2. あ：増加 い：第三次産業
3. あ：減少 い：第一次産業と第二次産業 4. あ：減少 い：第三次産業

(ハ) 線④に関して、長野県を訪れる観光客数の推移を示した次のグラフ2から読み取れることについて説明した文として最も適するものを、あとの1～4の中から一つ選び、その番号を答えなさい。



(長野県観光局の資料をもとに作成)

1. 観光客総数のうち、外国人観光客の占める割合は、2011年の東日本大震災以降、減少傾向が続いている。
2. 観光客総数のうち、外国人観光客の占める割合は、2015年以降、10%を上回るようになった。
3. グラフの期間中で、観光客総数が最も多い年と最も少ない年の人数の差は、2倍を超えている。
4. グラフの期間中で、前年に比べ外国人観光客数が50%以上増加した年はあるが、50%以上減少した年はない。

問3 Kさんは、夏休みを利用して京都府を訪れ、レポートを作成した。これについて、あとの各問いに答えなさい。

レポート

京都府は、かつて日本の都が置かれていたことで知られていますが、なかでもいちばん有名な都は、①②世紀終わりにつくられた平安京です。幕盤の目のように区画された、現在の京都市の街並みの様子にも、平安京の名残をうかがうことができます。古代から中世にかけての、京都府に関するものがあるできごとや、中学2年までに学習した内容について、年代の古い順に表にしました。

京都府に関するできごと	今までに学習した内容
あ <input type="text"/>	①大和政権(ヤマト王権)が、全国に支配力をのばした。
い <input type="text"/>	②源頼朝が、全国に守護・地頭を置いた。 後醍醐天皇が、建武の新政を始めた。
う <input type="text"/>	南北朝が統一された。 日本にキリスト教が伝えられた。

(7) レポート中の——線①に関して、この期間を西暦で表すと何年から何年までか、その始まりの年と終わりの年をそれぞれ算用数字で書きなさい。

(4) 表中の——線②に関して、この頃の日本の様子と、日本の様子記述した中国の歴史書の組み合わせとして最も適するものを、あとの1～4の中から一つ選び、その番号を答えなさい。

日本の様子	中国の歴史書
A: 邪馬台国の女王卑弥呼が中国に使者を送り、倭王の称号を授けられた。	a: 『朱書』倭国伝
B: 倭王の武が、朝鮮半島南部における軍事的な権力を認めてもらおうと、中国の皇帝に使者を送った。	b: 『魏志』倭人伝

1. Aとa 2. Aとb 3. Bとa 4. Bとb

(7) 表中の あ ー う にあてはまる次の文I～IIIの組み合わせとして最も適するものを、あとの1～6の中から一つ選び、その番号を答えなさい。

I 平治の乱で源義朝を倒し、朝廷内の勢力を強めた平清盛が、武士として初めて太政大臣になった。
II 將軍の後継者をめぐり有力守護大名が対立し、京都を中心に11年間にわたり戦乱が続いた。
III 承久の乱をいじめた鎌倉幕府は、朝廷や西日本の武士を監視するため、京都に六波羅探題を置いた。

1. あ: I い: II う: III 2. あ: I い: III う: II
 3. あ: II い: I う: III 4. あ: II い: III う: I
 5. あ: III い: I う: II 6. あ: III い: II う: I

(7) 表中の A の時期の外交について説明した次の文I～IIIを時代の古いものから順に正しく並べたものを、あとの1～6の中から一つ選び、その番号を答えなさい。

I 唐とのあいだで、遣唐使を通じての交流がさかんになり、阿倍仲麻呂らが中国にわたった。
II 聖徳太子が、中国の制度や文化を取り入れるため、小野妹子らを遣隋使として派遣した。
III 日宋貿易がさかんになり、中国からは貨幣(銅銭)や絹織物などが輸入された。


1. I→II→III 2. I→III→II 3. II→I→III 4. II→III→I 5. III→I→II 6. III→II→I

(7) 表中の B の時期の文化について説明した文として最も適するものを、次の1～4の中から一つ選び、その番号を答えなさい。

- 大陸の影響を受けた仏教文化が栄え、さまざまな身分の人々の歌を集めた『万葉集』が編纂された。
- 武士の気風を反映した文化が栄え、浄土宗や日蓮宗、臨済宗などの新しい仏教が民衆に広まった。
- 貴族の文化と武士の文化が融合した文化が栄え、鏡向歌・世阿弥の親子により能楽が大成された。
- 日本の風土や日本人の感情にあった文化が栄え、仮名文字を用いた文学作品が著された。

(7) 次の資料Iは、表中の C の時期の京都市街の様子を伝えるものである。この資料に関する説明文と、 C の時期におきた世界のできごととの組み合わせとして最も適するものを、あとの1～6の中から一つ選び、その番号を答えなさい。

資料I



庭園には、各地の名木が取り寄せられた。

説明文	X 室町幕府の3代將軍足利義満が築いた「花の御所」と呼ばれる邸宅であり、その地名は「室町幕府」の名の由来となった。 Y 室町幕府の8代將軍足利義政が築いた別荘であり、同じ敷地内には、菅隆造として知られる建物がある。
世界のできごと	a ヨーロッパで、ルネサンスの風潮が生まれた。 b チンギス=ハーンが、モンゴル帝国を建国した。 c コロンブスが、西インド諸島に到達した。

1. Xとa 2. Xとb 3. Xとc 4. Yとa 5. Yとb 6. Yとc

(甲) 表中の[D]の時期に関して、次の資料Ⅱは、この時期におこったできごとを伝える文書の一部である。これについて説明したものとして最も適するものを、あとの1～4の中から一つ選び、その番号を答えなさい。

資料Ⅱ

9月、京都周辺の農民や町人たちが一斉に暴動した。徳政と称して、高利貸しを営んでいた酒屋、土倉、寺院などを破壊し、さまざまな品物を勝手に持ち出し、借金の証文などもすべて破り捨てた。管領の畠山家がこれをしずめた。日本の国が始まって以来、民衆がいっせいに蜂起したのはこれが初めてだ。

(大乗経日記目録)

1. この時期には、窮乏する御家人を救うため永仁の徳政令が出されたが、効果はなく、政治が行き詰まる中で、近畿地方を中心に、幕府に従わない武士たちが現れた。
2. この時期には、団結を強めた農民たちが、借金の帳消しを求めてたびたび土一揆をおこすようになり、近畿地方を中心に広まった。
3. この時期の農民には、種・調・庸などの税や労役、兵役などの負担が課せられており、これらの負担から逃れるため土地を捨てて逃亡する者もいた。
4. この時期の農村では、自らの任務を放棄したり、不正を働いたりする国司が現れるようになり、治安が乱れるようになった。

問4 Kさんは、日本の政治や政権に関するできごとを年代の古い順に並べた表を作成した。これについて、あとの各問いに答えなさい。

表

	日本の政治や政権に関するできごと
A	15代将軍足利義昭が追放され、室町幕府が滅亡した。
B	徳川家康が、朝廷から征夷大将軍に任命され、江戸に幕府を開いた。
C	徳川吉宗が、幕政改革を始めた。
D	水野忠邦が、幕政改革を始めた。
E	徳川慶喜が、大政奉還をおこなった。

(ア) 表中の[A]の時期におこなわれたことについて説明した次の文Ⅰ～Ⅲを時代の古いものから順に正しく並べたものを、あとの1～6の中から一つ選び、その番号を答えなさい。

- I ものさしやますを統一し、全国の田畑を測量して、面積や収穫高などを記録し始めた。
- II 安土の城下町では、自由な商業を活発にするため、歴による営業の独占を禁止する命令が出された。
- III 農民を耕作に専念させ、一揆を防ぐために、農民から刀や槍、鉄砲などの武器を取り上げた。

1. I → II → III
2. I → III → II
3. II → I → III
4. II → III → I
5. III → I → II
6. III → II → I

(イ) 表中の[B]の時期におこったできごとに関して説明した、次の文中の[あ]、[い]にあてはまる語句の組み合わせとして最も適するものを、あとの1～4の中から一つ選び、その番号を答えなさい。

全国統一を果たした豊臣秀吉は、[あ]への進出をねらい、その足がかりとするため朝鮮に大軍を送った。しかし、2度にわたる出兵は失敗に終わり、[い]をまねく結果となった。

1. あ：清 い：豊臣氏の没落
2. あ：清 い：中国・朝鮮連合軍の襲来
3. あ：萌 い：豊臣氏の没落
4. あ：明 い：中国・朝鮮連合軍の襲来

(ウ) 表中の[C]の時期における日本の文化や学問の様子について説明した文として最も適するものを、次の1～4の中から一つ選び、その番号を答えなさい。

1. 大名や大商人の気風を反映した壮大な文化が栄え、千利休が茶の湯を大成した。
2. 江戸の町人を中心とする文化が栄え、葛飾北斎や歌川広重などの浮世絵師が活躍した。
3. キリスト教と関係のない洋書の輸入が解禁され、杉田玄白らが『解体新書』を著した。
4. 京都や大阪の町人を中心とする文化が栄え、近松門左衛門が人形浄瑠璃で活躍した。

(四) 表中の[D]の時期について、あとの各問いに答えなさい。

(i) 次の資料は、この時期におこったできごとに関連して書かれた文章の一部である。資料中の[う]にあてはまる地名と、この文章を書いた人物の組み合わせとして最も適するものを、あとの1～4の中から一つ選び、その番号を答えなさい。

資料

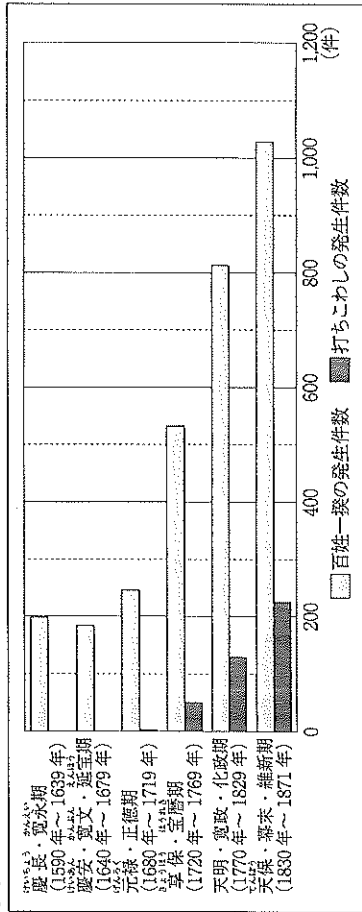
…近頃は米価がますます高騰し、[う]町奉行や役人たちは、勝手気ままな政治をおこなっている。…勝手な触書(ふせ)をたびたび出し、[う]市中の裕福な町民ばかりを大切にするのは、道徳や仁義も知らぬおろかな身だからであり、大変に不届きなことである。…ここに至り、隠居中のわれらはもはや忍耐することができず、天下のためと思い、このたび有志の者と申し合わせ、人々を苦しませている役人を討ち、ぜいたくを極めた[う]市中の金持ちの町人たちを倒すつもりでいる。…

(改訂史料集要)

地名	X 江戸	Y 大阪
人物	a 渡辺崋山	b 大塩平八郎

1. Xとa 2. Xとb 3. Yとa 4. Yとb

(ii) 次のグラフは、江戸時代の百姓一揆や打ちこわしの発生件数の推移を示したものである。このグラフから読み取れることと、[D]の時期におきたできごとの説明文の組み合わせとして最も適するものを、あとの1～4から一つ選び、その番号を答えなさい。



(横山十四男「百姓一揆と義民伝承」をもとに作成)

読み取れること	X 元禄・正徳期と比べて、享保・宝暦期の1年あたりの百姓一揆の発生件数は、約3倍に増加した。 Y 享保・宝暦期と比べて、天明・寛政・化政期の1年あたりの打ちこわしの発生件数は、約2倍に増加した。
説明文	a 由緒(ゆき)次第により、積極的な商業政策が進められ、長崎での貿易に力が入られた。 b 井伊直弼により、幕府の政策に反対する大名や幕臣(まうしん)の藩士らが処罰された。

1. Xとa 2. Xとb 3. Yとa 4. Yとb

(五) 表中の[E]の時期について、あとの各問いに答えなさい。

(i) 水野忠邦の幕政改革について説明した、次の文中の[え]にあてはまる語句を漢字2字で書きなさい。また、[お]にあてはまる語句として最も適するものをA～Dの中から一つ選び、その記号を書きなさい。

江戸幕府において将軍を補佐する役職である[え]を務めていた水野忠邦は、後約令を出し、派手な町人の風俗を取り締まるなど、厳しい態度で幕政改革にのぞんだ。また、[お]のために、株仲間を解散させた。

- A 営業を独占させる代わりに税を取る B 物価の上昇を抑える
C 農民たちから雑米に年貢を取る D ききんにそなえて米を蓄えさせる

(ii) この時期におこったできごとを説明したものととして最も適するものを、次の1～4の中から一つ選び、その番号を答えなさい。

1. 外國船が不法入港する事件がたびたびおこったことから、幕府は異國船打払令を出した。
2. ロシア使節のラクスマンが、日本人の漂流民を伴い根室に來航し、幕府に通商を求めた。
3. 朝鮮との国交が回復し、將軍の代替わりごとに、朝鮮通信使が訪れるようになった。
4. アメリカ使節のペリーが、4隻の蒸氣船を率いて浦賀に來航し、幕府に開國を求めた。

問5 アメリカ合衆国のサンフランシスコへ旅行に行ったKさんは、サンフランシスコとアメリカ合衆国を題材とするレポートを作成した。これについて、あとの各問いに答えなさい。

レポート

1 旅行の日程表(主なものを抜粋)

日次	現地時刻	スケジュール
1	午前 11 時	サンフランシスコ国際空港着 (途中省略)
2	午後 1 時 午後 3 時 午後 6 時	サンフランシスコ港を見学 ゴードンゲートブリッジへ チャイナタウンで夕食
3	午前 6 時 午後 8 時	ワセミテ国立公園に出発 ワセミテ国立公園から帰着
4	午前 9 時 午後 2 時	マーケットストリートで散策 サンフランシスコ国際空港発

○私は、サンフランシスコ国際空港まで、直行便で **あ** かかる飛行機を使いました。その飛行機は、日本時間の 12 月 28 日午後 6 時に成田国際空港を出発し、予定通り、現地時間の 12 月 28 日午前 11 時に、サンフランシスコ国際空港に到着しました。

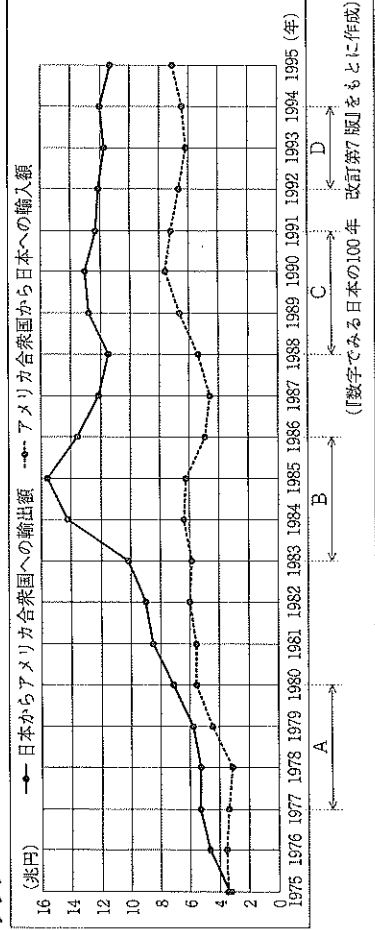
○左の日程表にある現地時刻は、**い** の経緯を基準としているため、日本との時差は 17 時間あります。

2 旅行の感想

サンフランシスコは、アメリカ西海岸に位置する都市である。アメリカ合衆国は、18 世紀末にイギリスから独立したあと、ヨーロッパからの移民を受け入れ人口を大きく伸ばし、19 世紀半ばには西海岸にまで領土を広げた。1861 年におこった南北戦争のあとには、中国や日本からの移民も受け入れ、工業生産を大きく伸ばすようになり、19 世紀末には世界で最初の産業革命を成し遂げ、「世界の工場」と呼ばれるようになった。現在、サンフランシスコ郊外には、先端技術産業に関わる研究機関や ICT 関連の企業が集まっており、その地域はシリコンバレーと呼ばれている。サンフランシスコが属するカリフォルニア州では、近年、ヒスパニックと呼ばれる、スペイン語を主に話す移民の人々が増えるようになってきていると聞いたが、街を歩くと、さまざまな人種の人々が暮らしている様子を見ることができた。

3 アメリカ合衆国と日本の貿易について

アメリカ合衆国と日本のあいだでは、1960 年代ごろからたびたび、貿易摩擦の問題が生じてきました。次のグラフは、1975 年から 1995 年にかけての、日本のアメリカ合衆国に対する輸出入額の推移を示したものです。



(ア) レポート中の **あ**、**い** にあてはまる時間と経度の組み合わせとして最も適するものを、あとの 1~6 の中から一つ選び、その番号を答えなさい。

あ	X 8 時間	Y 10 時間	Z 12 時間
い	a 西経 45 度	b 西経 120 度	

1. X と a 2. X と b 3. Y と a 4. Y と b 5. Z と a 6. Z と b

(イ) 線①について説明した次の文中の **う**、**え** にあてはまる語句の組み合わせとして最も適するものを、あとの 1~4 の中から一つ選び、その番号を答えなさい。

サンフランシスコ港は、幕末に太平洋を横断した威艦丸が到着した港であり、現在も日本との交流、交易の拠点の一つとなっている。日本とアメリカ合衆国のあいだでは、幕末に日米修好通商条約が結ばれ貿易が始まったが、この条約は日本に **う**、アメリカ合衆国に対し **え** ことから、不平等な内容の条約であった。

1. う：関税自主権がなく え：領事裁判権を認めなかった
 2. う：関税自主権がなく え：領事裁判権を認めた
 3. う：領事裁判権が認められ え：関税自主権を与えなかった
 4. う：領事裁判権が認められ え：関税自主権を与えた

(ウ) 旅行の感想中の 線 a~d のうち、事実として誤りのあるものを、次の 1~4 の中から一つ選び、その番号を答えなさい。

1. a 2. b 3. c 4. d

(エ) 線②に関して説明した次のカード及びその説明文について、あとの各問いに答えなさい。

カード

貿易摩擦とは、2 国間のあいだでの貿易が原因で、当事国の産業や社会に大きな問題が生じることです。例えば、日本製の車がアメリカ合衆国でたくさん売れたため、アメリカ合衆国の自動車メーカーは生産を減らさなければならず、多くの失業者が出ました。

説明文

カードで説明された貿易摩擦が、日本とアメリカ合衆国のあいだで最も激しくなったのはグラフ中の **お** の時期です。この時期、日本のアメリカ合衆国に対する **か** からです。

- (i) 説明文中の **お** にあてはまる時期を、グラフ中の A~D の中から一つ選び、その記号を書きなさい。
 (ii) 説明文中の **か** にあてはまる語句を、輸出額の語句を用いて 12 字以上 15 字以内で書きなさい。

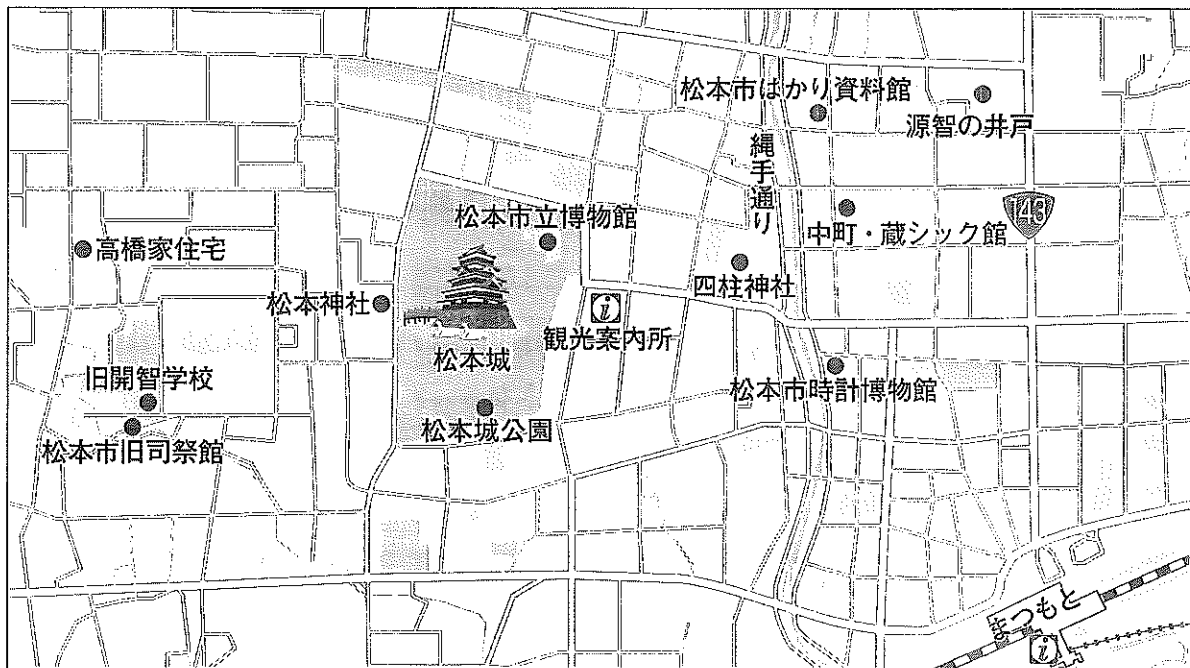
(問題は、これで終わりです。)

問2 Kさんは、長野県松本市を題材に調べ学習をおこない、レポートを作成した。これについて、あとの各問いに答えなさい。

レポート

私は、新宿駅から中央本線の特急を利用して、長野県へ向かいました。途中、①川が山間部から平地に出たところに土砂が積もってできた土地に果樹園が広がっている様子が見えました。このあたり一帯は②中央高地と呼ばれていますが、その名の通り、高い山々が連なっているのがわかりました。車窓からは、③田畑で農作業している人々のすがたも見えました。松本駅に到着すると、多くの④観光客でにぎわっていました。駅の近くで昼食をとったあと、翌日の調査に備えて、松本市の観光マップと地形図を用意することにしました。

観光マップ



地形図



(「2万5千分の1の電子地形図 国土地理院作成 (令和2年調製)」一部改変)