

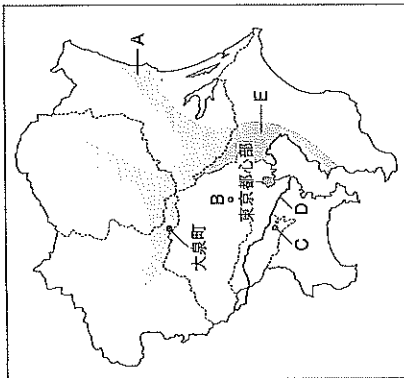
28 東北地方

28

東北地方

クラス	番号	得点
氏名		100

右の地図を見て、次の問いに答えなさい。(10点×10)



- Aの地域は、1970年代以降、高速道路の整備によってインターチェンジ近くに□がつくられ、自動車・電気機器など多くの工場が進出して、工業地域として発展した。□にあてはまる語句を答えなさい。
- Bは、都心の機能を移転するために1980年代以降に計画的につくられた新都心の一つである。この新都心の名称を答えなさい。
- Cの地域などにつくられたニュータウンで問題となっていることとしてあてはまるものを、次から1つ選びなさい。
ア 地価の高騰 イ 住民の高齢化
ウ 道路の渋滞 エ 星間人口の減少
- Dの川の名称を、次から1つ選びなさい。
ア 荒川 イ 利根川 ウ 多摩川 エ 相模川
- Eの工業地域について、次の問いに答えなさい。
① この工業地域の名称を答えなさい。
② この工業地域で生産額の割合が最も大きい工業を、次から1つ選びなさい。
ア 金属 イ 機械 ウ 化学 エ 食品

(1)	
(2)	
(3)	
(4)	
(5)	①
(6)	②
(7)	③
(8)	

- (6) 大泉町は、外国人労働者として来日した人が多く、町の人口の約15% (2013年) が日系□人などの外国人で占められている。□にあてはまる国名を答えなさい。
- (7) 東京都心部の説明として誤っているものを、次から1つ選びなさい。
ア 国会議事堂などがあり、政治の中心地となっている。
イ 大企業の本社などが多く、経済の中心地となっている。
ウ 中央官庁は霞が関、大企業の本社は丸の内・有明に集中している。
エ 東京駅は日本全体の鉄道旅客の約6割が利用している。
- (8) 関東地方は広い範囲で赤土(関東ローム層)におおわれており、主に畑や宅地として利用されている。この地域で水田の開発が難しい理由を、関東ローム層の特徴を説明した上で、簡単に答えなさい。

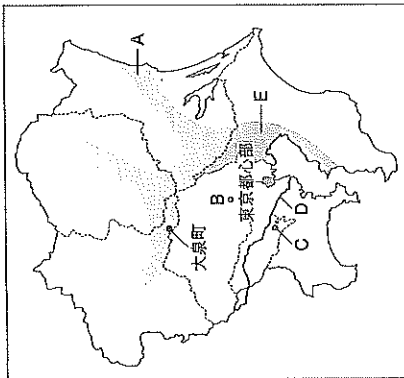
28 東北地方

28

東北地方

クラス	番号	得点
氏名		100

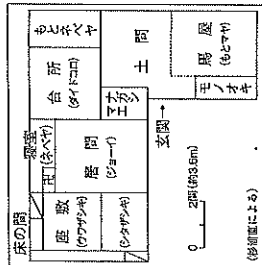
右の地図を見て、次の問いに答えなさい。(10点×10)



- Aの平野の説明としてあてはまるものを、次から1つ選びなさい。
ア りんごの生産が盛んな津軽平野である。
イ りんごの生産が盛んな秋田平野である。
ウ みかんの生産が盛んな津軽平野である。
エ みかんの生産が盛んな秋田平野である。
- Bの山地は、おなの原生林が広がり、世界自然遺産に登録されている。この山地の名称を答えなさい。
- Cは、世界文化遺産として登録された金色堂で有名な寺院の位置を示している。この寺院の名称を答えなさい。
- Dの海岸の南部は、複雑に入り組んだりアス海岸となっている。この海岸の名称を答えなさい。
- Eの河川の説明としてあてはまるものを、次から1つ選びなさい。
ア 下流域に庄内平野が広がる北上川である。
イ 下流域に庄内平野が広がる最上川である。
ウ 下流域に仙台平野が広がる北上川である。
エ 下流域に仙台平野が広がる最上川である。
- Fの都市で生産が盛んな伝統的工芸品を、次から1つ選びなさい。
ア 置賜縮 イ 筒筒織物 ウ 雄勝織 エ 会津塗
- 毎年夏に芋壺まつりが行われる都市の位置を、地図中のア～エから1つ選びなさい。

(1)	
(2)	
(3)	
(4)	
(5)	①
(6)	②
(7)	③
(8)	

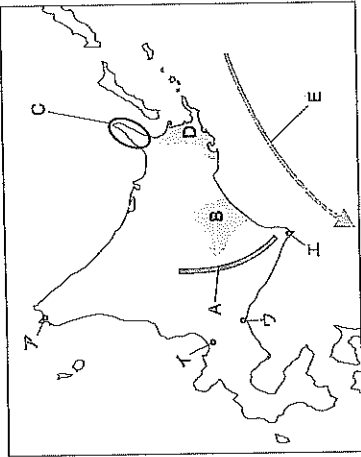
- (2) 東北地方沖の太平洋は、世界有数の漁場となっている。この地域が好漁場となっている理由を、「暖流」「寒流」という語句を用いて、簡単に答えなさい。
- (3) 東北地方の太平洋側では、夏に冷たい北東風が吹き、冷害が発生することがある。この風を何というか、答えなさい。
- (4) 東北地方は昔から馬の飼育が盛んで、特に岩手県は「南部駒」とよばれる馬の産地として知られてきた。岩手県では、右の図のような、居間と馬廬が結ばれた伝統的な形の民家がみられる。このような民家を何というか、漢字4字で答えなさい。



クラス	番号	得点
氏名		100

29 北海道地方

(10点×10)



図次の問いに答えなさい。

(1) 右の地図を見て、次の問いに答えなさい。

- ① Aの山脈の名称を答えなさい。
- ② Bの平野では畑作中心の農業が行われている。北海道が全国の生産量の100%を占め、さとうの原料となる農作物を、次から1つ選びなさい。
ア てんさい イ あずき
ウ ジャガイモ エ たまねぎ
- ③ Cは世界自然遺産に登録されている半島である。この半島を、次から1つ選びなさい。
ア 根室半島 イ 根室半島
ウ 知床半島 エ 渡島半島

- ④ Dの地域の説明としてあてはまるものを、次から1つ選びなさい。
ア 酪農が盛んな石狩平野である。 イ 酪農が盛んな根室台地である。
ウ 稲作が盛んな石狩平野である。 エ 稲作が盛んな根室台地である。
- ⑤ Eの海流が南下する北海道の沿岸部では、暖かい空気が海面で冷やされて、夏に□が発生しやすくなる。□にあてはまる語句を、漢字2字で答えなさい。

⑥ アイヌ語の「ヤムワツカナイ (冷たい水の川)」という言葉由来する地名の位置を、地図中のア～エから1つ選びなさい。

(2) 明治時代になると、北海道に開拓使という官庁がおかれ、兵士も兼ねた□が組織的な開拓を行った。□にあてはまる語句を答えなさい。

(3) 右のグラフは、農家一戸 農家一戸当たりの耕地面積 0 5 10 15 20 25 30ha 当たりの耕地面積を示して 北海道 全国 (2014年 農林水産省資料) いる。北海道の農家一戸当たりの耕地面積は全国平均の約何倍か、小数第一位を四捨五入して、整数で答えなさい。

(4) 北海道ではかつては北洋漁業が盛んであったが、現在はふるわなくなっている。その理由の一つに母川主義が主張されたことがあるが、母川国主義とはどのような考えか、「産卵する川」という語句を用いて、簡単に答えなさい。

(5) 「とる漁業」が行きまじったことから、北海道では「□漁業」への転換が図られ、裁培漁業や養殖が行われている。□にあてはまる語句を答えなさい。

①	
②	
③	
④	(1)
⑤	
⑥	
(2)	
(3) 約	
(4)	
(5)	

18

産業の発達と幕府政治の動き③

右の年表を見て、次の問いに答えなさい。

- (1) a に関係の深い人物を、次から1つ選びなさい。
ア 伊能忠敬 イ 高宮林藏
ウ 杉田玄白 エ シーボルト
- (2) b の「古事記伝」によって大成された、日本の古典を学ぶ学問を何というか。
- (3) c のころの文化について述べた次の文中の () には、
てはまる語句をそれぞれ答えなさい。
「喜多川（ア）や葛飾北条のえがいた浮世絵は、(①) と呼ばれる多色刷りの版画となって売られ出し、庶民の人気を集めた。また、世の中を風刺する (②) や狂歌が流行した。」
- (4) d の [] にはあてはまる人物名を答えなさい。
- (5) e で幕府の政策を批判して処罰された人物を、次から1人選びなさい。
ア 徳川義孝 イ 緒方洪庵 ウ 本居宣長 エ 高野長英
- (6) f の天保の改革で行われたことを、次から1つ選びなさい。
ア 長崎貿易を制限した。 イ 株仲間を解散した。
ウ 目安箱を設置した。 エ 茶子学以外の学問を禁止した。
- (7) f の天保の改革を行った水野忠邦が、老中を辞めさせられた理由を、「江戸・大坂」「幕領」の語句を用いて簡単に答えなさい。
- (8) f のころ、改革に成功し、雄藩と呼ばれた西日本の藩にあってはまらないものを、次から1つ選びなさい。
ア 岡山藩 イ 薩摩藩 ウ 肥前藩 エ 長州藩
- (9) 幕府が美国船打撃令を出したのはいつか。あてはまる時期を、年表中のア～エから選びなさい。

年代	できごと
1774	「解体新書」が出版される…… a
1798	「古事記伝」が完成…… b
1808	フェートン号事件 ア ↓ イ ↓
1833	天保のきん…… c
1837	大坂で [] が乱を起こす…… d ア ↓ ウ ↓
1839	幕府の獄…… e ア ↓ エ ↓
1841	天保の改革が始まる…… f

(1)	
(2)	
(3)	①
(4)	②
(5)	
(6)	
(7)	
(8)	
(9)	

19

欧米の進出と日本の開国①

右の年表を見て、次の問いに答えなさい。

- (1) a の [] にはあてはまる、スペインから独立して、ヨーロッパの貿易や金融の中心となっていた国はどこか。
- (2) b のビュアリータン革命を指導した、議会の人物はだれか。
- (3) b のビュアリータン革命によって、イギリスではどのような政治になったか。「王政」、「共和制」の語句を用いて簡単に答えなさい。
- (4) c について、フランスの絶対王政の下で、免職などの特権を持っていた身分とは、貴族ともう一つは何か。
- (5) d のころに活躍した啓蒙思想家とその主張の正しい組み合わせを、次から1つ選びなさい。
ア ロック-社会契約説 イ モンテスキュー-社会契約説
ウ ロック-三権分立 エ ルソー-三権分立
- (6) d の若き革命の後のイギリスの様子にあてはまるものを、次から1つ選びなさい。
ア 軍力でヨーロッパの大部分を従わせた。
イ 憲法が制定され、大統領制の国になった。
ウ 立憲君主制と議会政治が確立した。
エ 国王が強い権力をふるった。
- (7) e について述べた次の文中の () にはあてはまる語句を、それぞれ答えなさい。
「北アメリカに作られた13の植民地が、本国 (①) からの独立を求め、(②) を軍最高司令官として独立戦争を起こした。」
- (8) f のフランス革命に際して発表された人権宣言の内容を、次から1つ選びなさい。
ア 議会の同意なしに、国王の権限によって法律とその効力を停止することは違法である。
イ 人は生まれながらに、自由で平等な権利を持つ。社会的な区別は、ただ公共の利益に関係のある場合にしか設けられてはならない。
ウ 我々は以下のことを自明の真理であると信じる。人間はみな平等に創られ、ゆずりわたすことのできない権利を神によってあたえられていること、その中には、生命、自由、幸福の追求がふくまれていること、である。
エ 国王大権と継して、議会の承認なく、国王の使用のために税金を課すことは、違法である。
- (9) ナポレオンが皇帝となったのはいつか。最も近い時期に起きたできごとを、年表中の b, d, e, f から選びなさい。

年代	できごと
1602	[] が東インド会社を設立…… a
1640	イギリスでビュアリータン革命…… b
1661	ルイ14世の絶対王政が始まる…… c
1688	イギリスで名誉革命が起こる…… d
1775	アメリカ独立戦争が始まる…… e
1789	フランス革命が起こる…… f

(1)	
(2)	
(3)	
(4)	
(5)	
(6)	
(7)	①
(8)	②
(9)	

右の年表を見て、次の問いに答えなさい。

(1) a の [] にはあてはまる、スペインから独立して、ヨーロッパの貿易や金融の中心となっていた国はどこか。

(2) b のビュアリータン革命を指導した、議会の人物はだれか。

(3) b のビュアリータン革命によって、イギリスではどのような政治になったか。「王政」、「共和制」の語句を用いて簡単に答えなさい。

(4) c について、フランスの絶対王政の下で、免職などの特権を持っていた身分とは、貴族ともう一つは何か。

(5) d のころに活躍した啓蒙思想家とその主張の正しい組み合わせを、次から1つ選びなさい。

ア ロック-社会契約説 イ モンテスキュー-社会契約説
ウ ロック-三権分立 エ ルソー-三権分立

(6) d の若き革命の後のイギリスの様子にあてはまるものを、次から1つ選びなさい。

ア 軍力でヨーロッパの大部分を従わせた。
イ 憲法が制定され、大統領制の国になった。
ウ 立憲君主制と議会政治が確立した。
エ 国王が強い権力をふるった。

(7) e について述べた次の文中の () にはあてはまる語句を、それぞれ答えなさい。

「北アメリカに作られた13の植民地が、本国 (①) からの独立を求め、(②) を軍最高司令官として独立戦争を起こした。」

(8) f のフランス革命に際して発表された人権宣言の内容を、次から1つ選びなさい。

ア 議会の同意なしに、国王の権限によって法律とその効力を停止することは違法である。
イ 人は生まれながらに、自由で平等な権利を持つ。社会的な区別は、ただ公共の利益に関係のある場合にしか設けられてはならない。
ウ 我々は以下のことを自明の真理であると信じる。人間はみな平等に創られ、ゆずりわたすことのできない権利を神によってあたえられていること、その中には、生命、自由、幸福の追求がふくまれていること、である。
エ 国王大権と継して、議会の承認なく、国王の使用のために税金を課すことは、違法である。

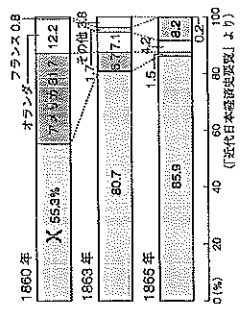
(9) ナポレオンが皇帝となったのはいつか。最も近い時期に起きたできごとを、年表中の b, d, e, f から選びなさい。

21 欧米の進出と日本の開国③

右の年表を見て、次の問いに答えなさい。(10点×10)

年代	できごと
1853	アメリカの使節が浦賀に来る… a
1854	日米和親条約が結ばれる… b
1858	日米修好通商条約が結ばれる… c
1860	幕府外の蛮が起る… d
1863	薩摩藩がイギリスと戦う… e
1864	長州藩が4か国の艦隊に攻撃される… f
1866	薩長同盟が結ばれる… g
1867	□が行われる… h
1868	戊辰戦争が起る… i

- (1) a について、アメリカが日本の開国を求めたのはなぜか。次から1つ選びなさい。
 ア 日本の銀を手に入れたかったから。
 イ キリスト教を布教したかったから。
 ウ アメリカの植民地にしたかったから。
 エ 太平洋横断の中継地としたかったから。
- (2) b の日米和親条約で開かれた2港はどこか。
 (3) c の後、貿易が始まった。主な貿易の相手国を示した次のグラフ中のXにあてはまる国はどこか。



- (4) d で暗殺された江戸幕府の元老はだれか。
 (5) e, f の後、薩摩藩や長州藩は倒幕を目指ようになった。その理由を、「攘夷」、「幕府」、「列強」の語句を用いて簡単に説明しなさい。
 (6) g の薩長同盟の仲立ちをした人物とその出身藩の組み合わせを、次から1つ選びなさい。
 ア 坂本龍馬 - 水戸藩 イ 勝海舟 - 土佐藩
 ウ 坂本龍馬 - 土佐藩 エ 勝海舟 - 水戸藩
 (7) h の□にあてはまるは、江戸幕府の将軍が政権を朝廷に返したできごとを何というか。
 (8) i の戊辰戦争の戦いが行われた場所としてあてはまらないものを、次から1つ選びなさい。
 ア 下関 イ 鳥羽・伏見 ウ 会津若松 エ 函館
 (9) 幕府に反対した大名や武士、公家などが処罰された安政の大獄が行われたのはいつか。あてはまる時期を、年表中のア～エから選びなさい。

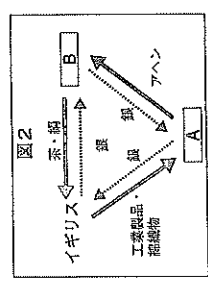
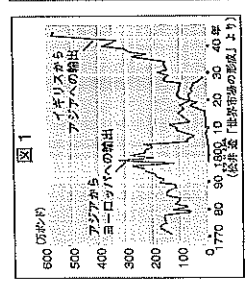
(1)	
(2)	
(3)	
(4)	
(5)	
(6)	
(7)	
(8)	
(9)	

(2)は順不同

20 欧米の進出と日本の開国②

右の年表を見て、次の問いに答えなさい。(10点×10)

年代	できごと
1769	ワットが蒸気機関を改良する
1840	アヘン戦争が起る… a
1848	「共産党宣言」が出される… b
1851	□の乱が起る… c
1857	インド大反乱が起る… d
1861	アメリカで南北戦争が起る… e
1871	ドイツ帝国が成立する… f



- (1) 図1は、Xの時期のアジアとイギリスの絹織物の輸出入額を示したものである。イギリスの絹織物の輸出が大きいのは理由を、「蒸気機関」の語句を用いて簡単に答えなさい。
 (2) a のアヘン戦争の背景を示した右の図2の□ A・Bにあてはまる国・地域名を、それぞれ答えなさい。
 (3) a のアヘン戦争の結果として結ばれた条約を何というか。
 (4) b について述べた次の文中の()にあてはまる語句を、それぞれ答えなさい。
 「この本の中で、マルクス、エンゲルスは、生産の元手を持つ者が労働者をやと、利潤を目的に生産を行う(①)主義を批判し、生産に必要な手段を共有する(②)主義の考えを説いた。」
 (5) c の□にあてはまる、法曹金を指導者とする社会をつくろうとした組織を何というか。
 (6) d のころ、皇帝の専制政治が続けられていたある国は、南下政策をとって各国と衝突した。この国はどこか。次から1つ選びなさい。
 ア ロシア イ フランス ウ イタリア エ ス페인
 (7) e の南北戦争のさい、北部の州はどのような主張をしたか。次から1つ選びなさい。
 ア 奴隷制の廃止と自由貿易 イ 奴隷制の存続と自由貿易
 ウ 奴隷制の廃止と保護貿易 エ 奴隷制の存続と保護貿易
 (8) f のドイツで富国強兵政策を進め、「鉄血宰相」と呼ばれたのはだれか。次から1つ選びなさい。
 ア ナポレオン イ クロムウエル
 ウ リンカン エ ビスマルク

(1)	
(2)	
(3)	
(4)	
(5)	
(6)	
(7)	
(8)	

A	
B	
①	
②	
(5)	
(6)	
(7)	
(8)	

22

明治維新①

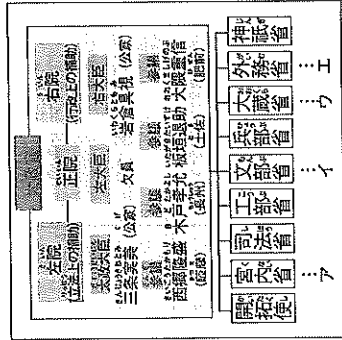
クラス	編号	編点
氏名		100

(10点×10)

右の年表を見て、次の問いに答えなさい。

年代	できごと
1868	五箇条の御誓文が出される… a
1869	版籍奉還が行われる… b
1871	廃藩置県が行われる… c
1872	学制が公布される… d
1873	□□が出版される… e
	□□が行われる… f

- a と同じ年のできごとについて述べた次の文中の () にあてはまる語句を、それぞれ答えなさい。
「江戸を (①) と改称し、年号を (②) と改めた。」
- b, c は政府が全国を直接治める仕組みの国家を進めるための改革である。このような国家を何というか。
- c の薩長直隸によって、政府から県を治めるために派遣された役人を何というか。
- c と同じころに決められた新政府の仕組みを示した次の図を見て、あとの問いに答えなさい。



- 国家財政に関わる仕事をした省を、図中のア～エから1つ選びなさい。
- このころの政府が藩閥政府と呼ばれた理由を図中の語句を用いて簡単に答えなさい。
- 同じころ、身分制度も改められた。「平民」にふくまれないものを、次から1つ選びなさい。
ア 尉父 イ 百姓 ウ 武士 エ えた身分・ひにん身分
- d の学制では、満何歳以上の男女が、小学校教育を受けることになったか。
- e の □□ にあてはまる、満20歳になった男子に兵役の義務を課した決まりを何というか。
- f の □□ にあてはまる、土地所有者に地価の3%の税を現金で納めさせるようにした改革を何というか。

(1)	
(2)	
(3)	
(4)	
(5)	歳以上
(6)	
(7)	