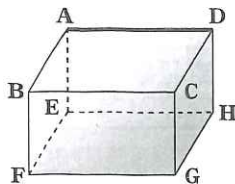


<8点×12> 語頭に付ける「辺」「面」は省略。(体温) 度

トライ① 右の図の直方体について、次の辺をすべて答えなさい。



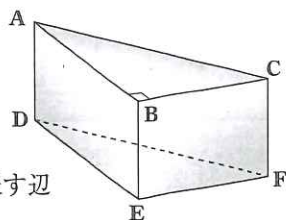
- ① 辺 AD と平行な辺 3つ ② 辺 AD と垂直な辺 4つ ③ 辺 AD とねじれの位置にある辺 4つ

① 辺 BC, EH, FG

② 辺 AB, AE, DC, DH

③ 辺 BF, EF, CG, HG

トライ② 右の図の三角柱について、次の辺や面をすべて答えなさい。



- ① 面 ABC と平行な辺 3つ ② 面 DEF に垂直な辺 3つ ③ 面 BEFC 上にある辺 4つ

- ④ 辺 BE に平行な面 ⑤ 辺 AB に垂直な面 ⑥ 点 B と面 DEF との距離を表す辺

① 辺 DE, EF, DF

② 辺 AD, BE, CF

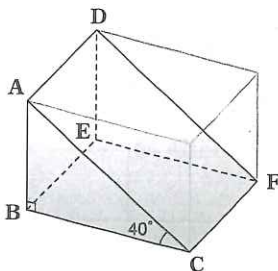
③ 辺 BC, BE, EF, FC

④ 面 ADFC

⑤ 面 BEFC

⑥ 辺 BE

トライ③ 右の図のように、直方体を2つに分けてつくった立体について、次の問いに答えなさい。



- ① 面 ABC と平行な面を答えなさい。

① 面 DEF

- ② 面 ACFD と面 BCFE のつくる角は何度か。

② 40 度

- ③ 面 BCFE と垂直な面をすべて答えなさい。 3つ

③ 面 ABC, DEF, ABED

NEWS <1点×4> 国名を片仮名で書け。

昨年2月に軍がクーデターを起こした ミャンマー は、インド、ラオス、タイ、チュウゴク と国境を接する。1948年に イギリス から独立した。