

試験名 2 学年 学年末試験

名前

生徒番号


| | | | |
|---|---|---|---|
| 1 | 2 | 3 | 4 |
| 2 | | | |

| | | | |
|---|---|---|---|
| ○ | ○ | ○ | ○ |
| 2 | ○ | ○ | ○ |
| ○ | ○ | ○ | ○ |
| 3 | ○ | ○ | ○ |
| ○ | ○ | ○ | ○ |
| 4 | ○ | ○ | ○ |
| ○ | ○ | ○ | ○ |
| 5 | ○ | ○ | ○ |
| ○ | ○ | ○ | ○ |
| 6 | ○ | ○ | ○ |
| ○ | ○ | ○ | ○ |
| 7 | ○ | ○ | ○ |
| ○ | ○ | ○ | ○ |
| 8 | ○ | ○ | ○ |
| ○ | ○ | ○ | ○ |
| 9 | ○ | ○ | ○ |
| ○ | ○ | ○ | ○ |
| 0 | ○ | ○ | ○ |


【生徒番号の記入とマーク】

2年1組1番なら
「2101」と記入し
数字をマーク

2年7組39番なら
「2739」と記入し
数字をマーク



良い例



悪い例

記述

| | | | | |
|---|-------|-------|-------|---|
| 1 | (2) | 2 | (4) 県 | 6 |
| | 知 3点 | | 知 3点 | |
| 6 | (3) | | | |
| | 知 | | | |
| 7 | (1) ① | (1) ② | | |
| | 知 | 知 | | |
| 8 | (1) ③ | (2) | | |
| | 知 | 知 | | |
| | (5) | | 3点 | |
| | 知 | | | |
| | (7) ① | (7) ② | | |
| | 知 | 知 | | |
| | (9) | | 10 | |
| | 知 | | | |
| | 思 3点 | | | |

記述小計

| 思考 | 知識 |
|----|----|
| 3 | 23 |

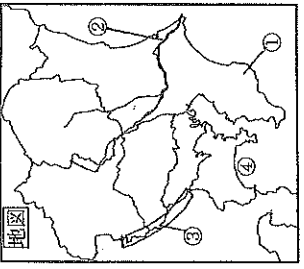
記述+マーク

| 思考 | 技能 | 知識 |
|---------------------|----|----------------------|
| 25 | 30 | 45 |
| <small>3+22</small> | | <small>23+22</small> |

計

| | | | | | | |
|---|----|---|---|---|---|-------|
| 1 | 1 | ア | イ | ウ | エ | 知 |
| | 2 | ○ | ○ | ○ | ○ | ○ 思 |
| | 3 | ア | イ | ウ | エ | 知 |
| 2 | 4 | ○ | ○ | ○ | ○ | 思 |
| | 5 | ア | イ | ウ | エ | 技 |
| | 6 | ○ | ○ | ○ | ○ | 技 |
| 3 | 7 | ア | イ | ウ | エ | 技 |
| | 8 | ○ | ○ | ○ | ○ | 技 |
| | 9 | ア | イ | ウ | エ | 知 |
| 4 | 10 | ○ | ○ | ○ | ○ | 知 |
| | 11 | ア | イ | ウ | エ | 技 |
| | 12 | ○ | ○ | ○ | ○ | ○ 思 |
| | 13 | ア | イ | ウ | エ | ○ 知 |
| | 14 | ○ | ○ | ○ | ○ | ○ 技 |
| 5 | 15 | ア | イ | ウ | エ | 知 |
| | 16 | ○ | ○ | ○ | ○ | 技 |
| | 17 | ア | イ | ウ | エ | 技 |
| | 18 | ○ | ○ | ○ | ○ | 知 |
| | 19 | ア | イ | ウ | エ | ○ 力 思 |
| | 20 | ○ | ○ | ○ | ○ | 思 |
| | 21 | ア | イ | ウ | エ | 技 |
| | 22 | ○ | ○ | ○ | ○ | 技 |
| | 23 | ア | イ | ウ | エ | 技 |
| | 24 | ○ | ○ | ○ | ○ | 思 |
| | 25 | ア | イ | ウ | エ | ○ 思 |
| | 26 | ○ | ○ | ○ | ○ | ○ 力 思 |
| 7 | 27 | ア | イ | ウ | エ | 知 |
| | 28 | ○ | ○ | ○ | ○ | 技 |
| | 29 | ア | イ | ウ | エ | 思 |
| | 30 | ○ | ○ | ○ | ○ | ○ 思 |
| | 31 | ア | イ | ウ | エ | 技 |
| 8 | 32 | ○ | ○ | ○ | ○ | 知 |
| | 33 | ア | イ | ウ | エ | 知 |
| | 34 | ○ | ○ | ○ | ○ | 技 |
| | 35 | ア | イ | ウ | エ | 知 |
| | 36 | ○ | ○ | ○ | ○ | 技 |
| | 37 | ア | イ | ウ | エ | 思 |

1 関東地方について次の問題に答えなさい。 9点



- (1) 右の地図中の①～④の地形の組み合わせとして正しいものを次のの中から選び記号で答えなさい。【ア～ウ】【知】2点
- ア、①＝房総半島 ②＝利根川 ③＝関東山地 ④＝相模湾
 イ、①＝三浦半島 ②＝多摩川 ③＝関東山地 ④＝東京湾
 ウ、①＝房総半島 ②＝利根川 ③＝下総台地 ④＝東京湾
 エ、①＝三浦半島 ②＝多摩川 ③＝下総台地 ④＝相模湾
- (2) 関東地方にみられる赤土の土壌を何というか。漢字とカタカナで答えなさい。【記】【知】3点
- (3) 関東地方では冬に乾燥した晴天が続く。このことを説明する際に用いる言葉としてあてはまらないものを選び記号で答えなさい。【ア～ウ】【思】2点
- ア、越後山脈 イ、北西の季節風 ウ、からっ風 エ、冷害 オ、関東平野
- (4) 次の文は東京の人口の過密化に関係するある言葉の説明している。その言葉は次のうちどれか。記号で答えなさい。【ア～ウ】【知】2点
- 東京への集中を分散するため、ターミナル駅や高層ビルなどを建設し経済や商業の機能の一部を移転した。
- ア、新東京国際空港 イ、副都心・新都心 ウ、東京大都市圏 エ、首都圏

2 関東地方の産業について次の問題に答えなさい。 9点

- (1) 関東地方の産業について説明した次の①、②の文と、関係するI～IVの事例を正しく組みあわせたものは次のどれか。記号で答えなさい。【ア～ウ】【思】2点
- ① 近郊農業が行われている ② 日本で最も貿易額の多い成田空港がある
- I 高速道路が整備され、抑制栽培でつくられた作物を速くから輸送でき、機械工場も内陸部に広まった
 II 関東は人口が集中する大消費地であり、輸送費をかけた新鮮な農産物を提供できる生産方法に適している
 III タンカーや船での原料の輸入に適した臨海部には、石油化学や製鉄などの工場が多い
 IV 半導体や医薬品などの軽く高価な製品を海外とやりとりする際には、航空機での輸送に適している
- ア、①とI ②とIII イ、①とI ②とIV ウ、①とII ②とIII エ、①とII ②とIV

- (2) 次のA～Cのグラフが示している農産物や工業製品の組み合わせとして、正しいものを次のの中から選び記号で答えなさい。【ア～ウ】【技】2点
- A

| 品名 | 1975 | 2015 |
|--------|------|------|
| 小麦 | 15.2 | 15.2 |
| 大豆 | 13.1 | 13.1 |
| とうもろこし | 10.1 | 10.1 |
| りんご | 10.1 | 10.1 |
| みかん | 10.1 | 10.1 |
| 医薬品 | 10.1 | 10.1 |
| 半導体 | 10.1 | 10.1 |

 B

| 品名 | 1975 | 2015 |
|--------|------|------|
| 小麦 | 17.2 | 17.2 |
| 大豆 | 15.1 | 15.1 |
| とうもろこし | 12.1 | 12.1 |
| りんご | 12.1 | 12.1 |
| みかん | 12.1 | 12.1 |
| 医薬品 | 12.1 | 12.1 |
| 半導体 | 12.1 | 12.1 |

 C

| 品名 | 1975 | 2015 |
|--------|------|------|
| 小麦 | 18.2 | 18.2 |
| 大豆 | 16.1 | 16.1 |
| とうもろこし | 13.1 | 13.1 |
| りんご | 13.1 | 13.1 |
| みかん | 13.1 | 13.1 |
| 医薬品 | 13.1 | 13.1 |
| 半導体 | 13.1 | 13.1 |
- ア、A＝小麦 B＝みかん C＝医薬品製剤
 イ、A＝いちご B＝みかん C＝医薬品製剤
 ウ、A＝いちご B＝キャベツ C＝情報通信機器
 エ、A＝きゅうり B＝いちご C＝半導体

- (3) 右の三つのグラフは関東地方の工業地帯と工業地域の生産の割合を示している。このうち京葉工業地帯を示したグラフはどれか。記号で答えなさい。【ア～ウ】【技】2点
- ア

| 品名 | 1975 | 2015 |
|--------|------|------|
| 小麦 | 42.5 | 42.5 |
| 大豆 | 35.1 | 35.1 |
| とうもろこし | 14.5 | 14.5 |
| りんご | 4.0 | 4.0 |
| みかん | 17.3 | 17.3 |
| 医薬品 | 10.7 | 10.7 |
| 半導体 | 11.4 | 11.4 |

 B

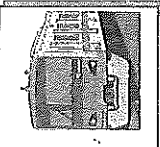
| 品名 | 1975 | 2015 |
|--------|------|------|
| 小麦 | 42.5 | 42.5 |
| 大豆 | 35.1 | 35.1 |
| とうもろこし | 14.5 | 14.5 |
| りんご | 4.0 | 4.0 |
| みかん | 17.3 | 17.3 |
| 医薬品 | 10.7 | 10.7 |
| 半導体 | 11.4 | 11.4 |

 C

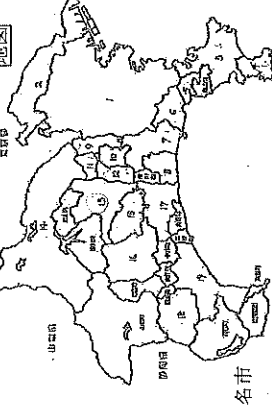
| 品名 | 1975 | 2015 |
|--------|------|------|
| 小麦 | 42.5 | 42.5 |
| 大豆 | 35.1 | 35.1 |
| とうもろこし | 14.5 | 14.5 |
| りんご | 4.0 | 4.0 |
| みかん | 17.3 | 17.3 |
| 医薬品 | 10.7 | 10.7 |
| 半導体 | 11.4 | 11.4 |

- (4) 次の文は関東地方のある果について説明したものである。この果名を漢字で答えなさい。【記】【知】3点
- 沖合には駿流の黒潮が流れ、農業がさかんである。白菜やピーマンの生産量が全国1位で納豆、干しいもなどの食品の生産でも知られる。県庁所在地は江戸時代に御三家の城下町として栄えた。

3 神奈川県について次の文と地図をを読み問題に答えなさい。 6点



小田急線で厚木市の本厚木駅から西に向かう電車で来た。2つ目の駅で登山客が大勢降りた。大学や温泉のある市を過ぎ目的地に着いた。有名なお城を見に行こう。

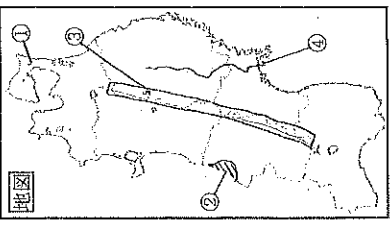


- (1) 文中の下線部の厚木市と隣接していない市はどれか。次のの中から記号で答えなさい。【ア～ウ】【技】2点
- ア、大和市 イ、相模原市 ウ、座間市
 エ、海老名市
- (2) 文中の電車が通った市を順番通り正しく示したのは次のどれか。記号で答えなさい。【ア～ウ】【技】2点
- ア、座間市→綾瀬市→藤沢市 イ、伊勢原市→秦野市→小田原市
 ウ、秦野市→茅ヶ崎市→鎌倉市 エ、平塚市→南足柄市→横浜賀賀市

- (3) 神奈川県について説明した次の文のうち、正しいものを選び記号で答えなさい。【ア～ウ】【知】2点
- ア、県庁所在地は地図中の1,4である イ、政令指定都市は、地図中の1と2と3の3つある
 ウ、海に面している市は8つある エ、県内で人口が最多で、面積も最大なのは地図中の1である

4 東北地方について次の問題に答えなさい。 10点

- (1) 地図中の①～④の地形の組み合わせとして正しいものを次のの中から選び記号で答えなさい。【ア～ウ】【知】2点
- ア、①＝下北半島 ②＝庄内平野 ③＝奥羽山脈 ④＝北上川
 イ、①＝男鹿半島 ②＝津軽平野 ③＝北上高地 ④＝最上川
 ウ、①＝津軽半島 ②＝秋田平野 ③＝奥羽山脈 ④＝阿武隈川
 エ、①＝下北半島 ②＝仙台平野 ③＝北上高地 ④＝最上川



- (2) 次のA～Cに当てはまる農産物の組み合わせとして正しいものを選び、記号で答えなさい。【ア～ウ】【技】2点
- A

| 品名 | 1975 | 2015 |
|--------|------|------|
| 小麦 | 72.0 | 72.0 |
| 大豆 | 21.0 | 21.0 |
| とうもろこし | 10.0 | 10.0 |
| りんご | 10.0 | 10.0 |
| みかん | 10.0 | 10.0 |
| 医薬品 | 10.0 | 10.0 |
| 半導体 | 10.0 | 10.0 |

 B


| 品名 | 1975 | 2015 |
|--------|------|------|
| 小麦 | 65.0 | 65.0 |
| 大豆 | 15.0 | 15.0 |
| とうもろこし | 10.0 | 10.0 |
| りんご | 10.0 | 10.0 |
| みかん | 10.0 | 10.0 |
| 医薬品 | 10.0 | 10.0 |
| 半導体 | 10.0 | 10.0 |

 C

| 品名 | 1975 | 2015 |
|--------|------|------|
| 小麦 | 55.0 | 55.0 |
| 大豆 | 10.0 | 10.0 |
| とうもろこし | 10.0 | 10.0 |
| りんご | 10.0 | 10.0 |
| みかん | 10.0 | 10.0 |
| 医薬品 | 10.0 | 10.0 |
| 半導体 | 10.0 | 10.0 |
- ア、A＝いちご B＝もも C＝りんご イ、A＝さくらんぼ B＝りんご
 ウ、A＝さくらんぼ B＝もも C＝りんご エ、A＝りんご B＝さくらんぼ C＝もも

- (3) 東北地方の漁業を説明する際に用いる言葉として、正しいものを選んで組み合わせれば次のどれか。記号で答えなさい。【ア～ウ】【思】2点
- I 三陸海岸 II やませ III 黒潮と親潮 IV 出かせぎ V かきやわかめの養殖
- ア、IとIIとIII イ、IとIIIとIV ウ、IとIIIとV エ、IIとIIIとV
 オ、IIIとIVとV

- (4) 東北地方の県と伝統文化の組み合わせとして間違っているものを、次の中から選び記号で答えなさい。【ア～ウ】【知】2点
- ア、岩手 イ、山形 ウ、宮城
 エ、秋田
 オ、福島





(6) 4 ページのカード A ~ C の国で 18 世紀半ば以降に起きた変化について説明した次の文を読み、① ~ ③ にあてはまる言葉の組み合わせとして正しいものを次の中から選び記号で答えなさい。
 ①-725 【思】 2 点


紡績機や織織り機械の発明や改良が進み、動力として蒸気機関が利用され生産が増大した。やがてその技術は欧米各地に広まり、①した。一方で②などの社会問題も発生した。そうした中 19 世紀にドイツのマルクスがこうした社会を③社会として批判した。


- ア、①=蒸気機関車などの交通も発達
 イ、①=海外での植民地支配が加速
 ウ、①=交通の発達し人々の暮らしが変化
 エ、①=石炭の生産量が増大
 オ、①=機械工業から手工業へと発達
 ③=環境汚染
 ③=社会主義
 ③=資本主義
 ③=社会主義
 ③=資本主義

(7) 欧米で (6) のような変化が起きたあとの出来事と説明したカードは次の E ~ H のどれか。正しく選んだものを次の中から選び記号で答えなさい。
 ①-726 【思】 2 点

E  ヨーロッパの国々との戦いに勝利し皇帝となる

F  植民地支配に対し、権威らが反乱を起こした

G  南北戦争の中、奴隷解放宣言が出された

H  『社会契約論』を著し人民主権を主張した

ア、E と F イ、E と G ウ、E と G と H エ、F と H オ、F と G カ、G と H

7 次の年表を読み取り幕末に関する問題に答えなさい。 19 点

(1) 年表中の ① ~ ③ にあてはまる言葉を選べ、それぞれ数字で答えなさい。
 ①-727 【知】 2 点 × 3 問 = 6 点

(2) 年表中の A、B の際に日本に来た右の写真の人物の名前をカタカナで答えなさい。 【読】 【知】 3 点

(3) 年表中の D、E、F の出来事と関係の深い人物は誰か。下の写真を参考に正しい組み合わせを次の中から選び記号で答えなさい。
 ①-728 【知】 2 点

| 年代 | 出来事 |
|--------|--------------------|
| 1853 年 | 黒船が浦賀に来航する・・・A |
| 1854 年 | 日米和親条約が結ばれる・・・B |
| 1858 年 | (①) 条約が結ばれる・・・C |
| 1860 年 | 安政の大獄が行われた・・・D |
| | (②) 運動が盛んになる |
| 1862 年 | 生麦事件が起こる |
| 1863 年 | 薩英戦争 |
| 1864 年 | 四国艦隊が下関を占領 |
| 1866 年 | (③) が結ばれる・・・E |
| 1867 年 | 15 代将軍が大政奉還を行う・・・F |

写真

ア、D = 阿部正弘 E = 吉田松陰 F = 徳川慶喜
 イ、D = 井伊直弼 E = 板本龍馬 F = 徳川慶喜
 ウ、D = 井伊直弼 E = 勝海舟 F = 徳川斉昭
 エ、D = 吉田松陰 E = 板本龍馬 F = 井伊直弼

地図

(4) 年表中の C の条約で開港することになった港の位置として間違っているものを右の地図の中から選び記号で答えなさい。
 ①-728 【技】 2 点

(5) 下の資料は 5 ページの年表中 C の条約である。この条約の内容について説明した右の文の ①、②にあてはまる言葉の組み合わせとして正しいものを次の中から選び記号で答えなさい。
 ①-729 【思】 2 点

資料

第 4 条 すべて日本に対して輸出する商品は、別に定める通り日本政府へ関税を納めること。
 第 6 条 日本人に対して法を犯したアメリカ人は、アメリカ領事裁判所において取り調べのうえ、アメリカの法律によって罰すること。

この条約は関税について ①ことや ②内容であったため日本にとって不平等な条約であった。

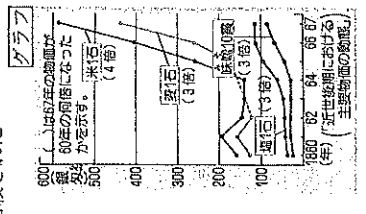
- ア、①=日本が決めることができず ②=外国で裁判をすることを認めない
 イ、①=外国が自主的に決める ②=国内で外国人が犯した罪を日本が裁判することを認めた
 ウ、①=領事が裁判で決める権利を認めた ②=日本が自主的に裁判を行うことを求めた
 エ、①=日本が自主的に決める権利がない ②=日本で罪を犯した外国人を領事が裁判する権利を認めた

(6) 5 ページの年表中の E が結ばれた理由として、ふさわしい文は次の I ~ IV のどれか。正しい組み合わせを次の中から選び記号で答えなさい。
 ①-730 【思】 2 点

- I 天皇の妹と将軍が結婚し「公武合体」が進んだ II 外国の強大な武力にかなわなかった
 III 徳川家が支配する幕府政治の改革をのぞんでいた IV 条約に調印した大老が暗殺された
 ア、I と II イ、I と IV ウ、II と III エ、II と IV オ、III と IV

(7) 5 ページの年表中の時期の物価の変化を示した右のグラフを読み取り、このグラフの内容を正しく説明した文を次の中から選び記号で答えなさい。
 ①-731 【技】 2 点

- ア、薩摩、長州といった有力藩が倒藩の動きを強めたため米が売られた
 イ、物価が下がったため「世直し」一揆や「ええじゃないか」が流行した
 ウ、金や生糸が輸入されたため物価が上がって国内は品不足になった
 エ、開港し貿易が始まると物価が上昇した



8 明治時代について次の文を読み問題に答えなさい。 21 点


A: 京都南部で旧幕府側と新政府軍との戦いが始まり、翌年、北海道まで戦いが続いた
 B: 新政府の方針として「庶民會議ヲ興シ」で始まる五つの文が発表された
 C: 藩をなくして、新たに県を設置し県令を派遣し治めさせた
 D: 江戸時代の身分制度を廃止した
 E: ①が公布され②歳以上の男女は、小學校に通う制度をつくった
 F: ③が出され④歳以上の男子は、検査を受け 3 年間兵役につくこととした
 G: 土地の持ち主に、土地の価格の 3% を現金で納めさせた制度に改められた
 H: 政府が殖産興業を進めるため、外国の技術を取り入れた富岡製糸場などを建設した
 I: 欧米の考えや生活様式を取り入れる文明開化の動きが進み、人々の暮らしが変化した

- (1) A、B、C の出来事を何と何というか。正しい組み合わせを次の中から選び記号で答えなさい。
 ア、A = 鳥羽・伏見の戦い B = 五ヶ条の御誓文 C = 版籍奉還
 イ、A = 戊辰戦争 B = 五ヶ条の御誓文 C = 廃藩置県
 ウ、A = 函館戦争 B = 五ヶ条の御誓文 C = 廃藩置県
 エ、A = 戊辰戦争 B = 壬戌復古の大号令 C = 版籍奉還
- (2) B と C の出来事から読み取れる、国家の体制を何と何というか。次の中から選び記号で答えなさい。
 ①-732 【知】 2 点
- ア、律令体制 イ、幕藩体制 ウ、絶対君主制 エ、中央集権体制

(3) 6ページのDと関係する資料としてあてはまらないものはどれか。次の中から選び記号で答えなさい。
 ア～フ34 【技】2点


7、

イ、



菅原 宗政
その身長9%
武士 約7%
農民 約95%

ウ、



1872年
土族 約6%
軍兵 約5%

エ、

1869 公家 興衰を予感、朝廷を土族とする
1870 中島に名字の採用を許可
1871 旗本・士族・平民階級の区別を許可
1875 旗本・士族などへの羽の交換を禁止
1878 軍人・警察官など以外の帯刀を禁止

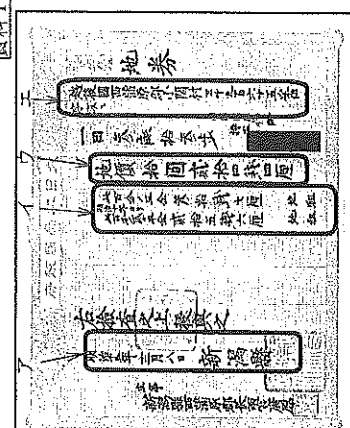
① 1872年 土族 約6%
 軍兵 約5%
 ② 1869 公家 興衰を予感、朝廷を土族とする
 ③ 1870 中島に名字の採用を許可
 ④ 1871 旗本・士族・平民階級の区別を許可
 ⑤ 1875 旗本・士族などへの羽の交換を禁止
 ⑥ 1878 軍人・警察官など以外の帯刀を禁止

(4) 6ページのE、Fの文中の①～④にあてはまる言葉や数字の組合わせとして、正しいものを次の中から選び記号で答えなさい。ア～フ35 【知】2点

- ア、①=学制 ②=12 ③=解放令 ④=20
 ウ、①=徴兵令 ②=12 ③=学制 ④=18
 イ、①=学制 ②=6 ③=徴兵令 ④=20
 エ、①=解放令 ②=6 ③=徴兵令 ④=18


(5) 右の資料Iは6ページのGに関するものである。この資料に書かれている言葉を参考に、Gの改革を何とよいか漢字4文字で答えなさい。【記】【知】2点

資料I




(6) 資料IのA～エのうち土地の価格が書かれている部分はどこか。記号で答えなさい。ア～フ36 【技】2点

(7) HとIに関係する次の①、②の人物の名前を漢字4文字でそれぞれ答えなさい。【記】【知】2点×2問=4点



①



②

(8) 次の資料II～IVは様々な改革後の当時の実態を示している。これらの資料からわかる当時の様子としてあてはまらない文を選び記号で答えなさい。ア～フ37 【思】2点

資料II

| | | | |
|------------|-------|---------|---------|
| 1873年 | 420万人 | 男子240万人 | 女子180万人 |
| 小学校に通った人 | 16万人 | 男子140万人 | 女子15% |
| 高等小学校に通った人 | 77万人 | 男子140万人 | 女子20% |

1873(明治6)年 実際の就学率18% (文部省)

資料III

1894(明治27)年 男子573,000人 女子200万人

資料IV

1873年 兵役に反対する一揆
三重、高知、岡山、鳥取
香川、徳島などで起きる

1876年 租税の取り立てに反対する一揆
三重、愛知、岐阜で激化
5万人以上が処罰される

ア、誰もが自由で平等な権利を持ち四民平等となった
 ウ、学校に通わなかったり、兵役を逃れる人が多かった
 イ、急激な変化に反対や不満の声もあった
 エ、改革が浸透するまでには時間がかかった

(9) B～Iの文から読み取ることのできる、明治維新が目指した国の姿を説明した次の文の□にあてはまる言葉を答えなさい。ただし「欧米」という言葉を必ず用い10文字以上13文字以下で答えること。また「富国強兵」「殖産興業」「文明開化」のいずれかの言葉の意味を踏まえて解答すること。
 【選】【思】3点

富国強兵、殖産興業、文明開化の言葉が示すように□近代国家を目指した。

問題はこれで終わりです。
 テスト返却の時に、この問題用紙を必ず持つて来ること。

