

26 日清・日露戦争と近代産業②

| | | |
|-----|----|-----|
| クラス | 番号 | 得点 |
| 氏名 | | 100 |

■右の年表を見て、次の問いに答えなさい。(10点×10)

| 年代 | できごと |
|------|-----------------|
| 1899 | 中国で[]が蜂起する…… a |
| 1902 | 日本がある国と同盟を結ぶ… b |
| 1904 | 日露戦争が起こる……… c |
| 1905 | 講和条約が結ばれる……… d |
| | ↑ X ↓ |
| 1910 | 韓国を併合する……… e |
| 1912 | 中華民国が建国する……… f |

- (1) aの[]にあてはまる、中国から外国勢力を排除しようとする団体を何というか。
- (2) bのある国とはどこか。
- (3) cの日露戦争について述べた文として正しいものを、次から1つ選びなさい。
 ア 幸徳秋水や内村鑑三が主戦論を唱え、世論を動かした。
 イ 朝鮮での農民の反乱が、開戦のきっかけとなった。
 ウ 日本海海戦では、東郷平八郎がロシア艦隊を破った。
 エ 日本では、戦争中に「ええじゃないか」とさわぐ動きが広まった。
- (4) dの講和条約について、次の問いに答えなさい。
 ① この条約を何というか。
 ② この条約の仲立ちをした国はどこか。
 ③ この条約で日本が獲得したものを、次からすべて選びなさい。
 ア 南樺太 イ 千島列島 ウ 多額の賠償金
 エ 旅順・大連の租借権 オ 長春以南の鉄道の利権
- (5) Xの時期のできごとを、次から1つ選びなさい。
 ア ノルマントン号事件が起こる。
 イ 伊藤博文が暗殺される。
 ウ 甲午農民戦争が起こる
 エ 北海道に開拓使が置かれる。
- (6) eの韓国では、朝鮮人を日本人に同化させるため、どのような政策が採られたか。「学校」の語句を用いて簡単に答えなさい。
- (7) fの中華民国について説明した次の文中の()にあてはまる語句の組み合わせを、あとから1つ選びなさい。
 「三民主義を唱えた(①)の指導の下、1911年、多くの省が清からの独立を宣言し、翌年、(①)を臨時大総統とする中華民国の建国を宣言した。これを(②)という。」
 ア ①-孫文、②-辛亥革命
 イ ①-孫文、②-太平天国
 ウ ①-袁世凱、②-辛亥革命
 エ ①-袁世凱、②-太平天国
- (8) 与謝野晶子が右の歌を発表したことと関係の深いできごとを、年表中のa~fから1つ選びなさい。

| | |
|-----|------|
| (1) | |
| (2) | |
| (3) | |
| (4) | ① 条約 |
| (4) | ② |
| (4) | ③ |
| (5) | |
| (6) | |
| (6) | |
| (7) | |
| (7) | |
| (8) | |

(4)③順不同・完答

君死にたまふことなけれ
 あゝをとうとよ君を泣く
 君死にたまふことなけれ
 末に生まれし君なれば
 親のなさはまさりしも
 親は刃をにぎらせて
 人を殺せとをしへしや
 人を殺して死ねよとて
 二十四までをそだてしや

27 日清・日露戦争と近代産業③

| | | |
|-----|----|-----|
| クラス | 番号 | 得点 |
| 氏名 | | 100 |

次の資料や表を見て、あとの問いに答えなさい。

(10点×10)

資料 交通と産業の発達

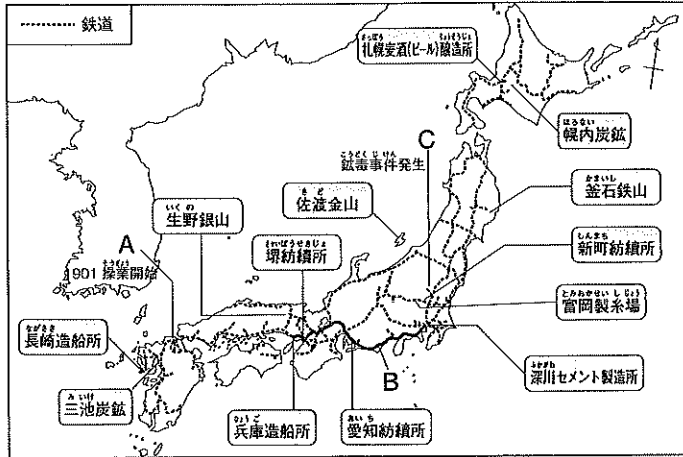


表 明治時代の文化

| | |
|------|--|
| 文学 | 二葉亭四迷…「浮雲」 樋口一葉…「たけくらべ」 D…「坊っちゃん」 |
| 美術 | 日本画→横山大観・狩野芳崖 洋画→E…「湖畔」 彫刻→高村光雲・荻原守衛 |
| 音楽 | F…「荒城の月」 |
| 自然科学 | 細菌学…北里柴三郎・G 原子物理学…長岡半太郎 |

(1) 資料中のAは八幡製鉄所である。この製鉄所について述べた次の文中の()にあてはまる語句の組み合わせを、あとから1つ選びなさい。

「八幡製鉄所は(①)戦争で得た賠償金を基に建設され、九州北部で産出する(②)を動力源として鉄鋼を生産した。」

- ア ①-日清 ②-石油 イ ①-日清 ②-石炭
ウ ①-日露 ②-石油 エ ①-日露 ②-石炭

(2) 資料中のBは、1889年に全通した鉄道路線である。この鉄道路線を何というか。

(3) 資料中のCの鉱山について述べた次の文中の()にあてはまる語句を、それぞれ答えなさい。

「(①)銅山から流れ出した鉱毒が渡良瀬川を汚染し、住民に被害を出した。地元選出の衆議院議員の(②)はこの鉱毒事件の解決に力をつくした。」

(4) 工場や鉱山を国から払い下げられた三井や三菱などの大資本家を特に何というか。

(5) 製糸業の発達が農村にもたらした変化を、簡単に答えなさい。

(6) 表中のD～Gにあてはまる人物を次からそれぞれ選びなさい。

- ア 夏目漱石 イ 岡倉天心 ウ 野口英世
エ 森鷗外 オ 黒田清輝 カ 滝廉太郎

| | |
|-----|---|
| (1) | |
| (2) | 線 |
| (3) | ① |
| | ② |
| (4) | |
| (5) | |
| (6) | D |
| | E |
| | F |
| | G |

学習のまとめ④

| | | |
|-----|----|-----|
| クラス | 番号 | 得点 |
| 氏名 | | 100 |

(10点×10)

■次の問いに答えなさい。

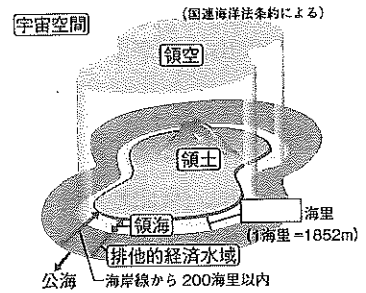
(1) 日本との時差が7時間であるケープタウンが標準時子午線としている経線の経度を、次から1つ選びなさい。

- ア 東経30度 イ 西経30度 ウ 東経60度 エ 西経60度

(2) 日本を1月15日の午前10時に航空機で出発して、13時間かかってロンドンに着いた。このときのロンドンの現地時間（日付も含む）を、午前または午後を明らかにして答えなさい。

(3) 右の図を見て、次の問いに答えなさい。

- ① にあてはまる数字を答えなさい。
 ② 排他的経済水域について、世界の国々は何のようなことを認め合っているか、「資源」という語句を用いて、簡単に答えなさい。



(4) 北方領土は、1945年の第二次世界大戦終結後に に占領され、 の解体後もロシア連邦に不法に占拠されている。 に共通してあてはまる国名を答えなさい。

(5) は1895年に沖縄県に編入された日本固有の領土で、第二次世界大戦後にはアメリカ合衆国の施政下に置かれたが、1972年に日本に復帰した。しかし、1970年代から中国が領有を主張し始め、近年、中国船が 周辺の領海や接続水域にたびたび侵入する事態が生じている。 に共通してあてはまる語句を答えなさい。

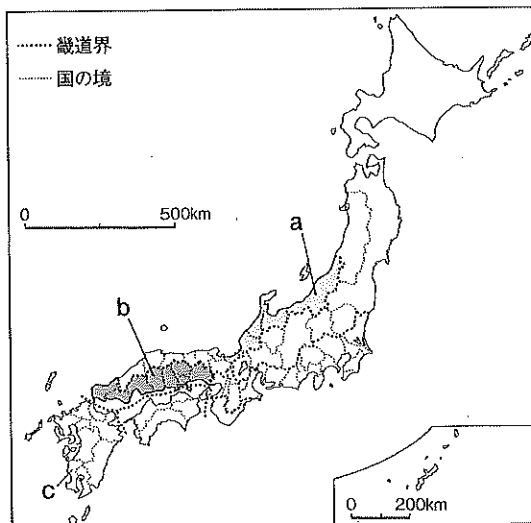
(6) 中部地方の中で最も北に位置する県を、次から1つ選びなさい。

- ア 群馬県 イ 長野県 ウ 石川県 エ 新潟県

(7) 中国・四国地方に位置する県名と県庁所在地名の組み合わせとして正しいものを、次から1つ選びなさい。

- ア 兵庫県—神戸市 イ 島根県—松江市
 ウ 香川県—松山市 エ 愛媛県—高松市

(8) 右の地図は古代の五畿七道による区分を示している。地図の a, b にあてはまる区分を、それぞれ答えなさい。



| | |
|-----|---|
| (1) | |
| (2) | |
| (3) | ① |
| | ② |
| (4) | |
| (5) | |
| (6) | |
| (7) | |
| (8) | a |
| | b |

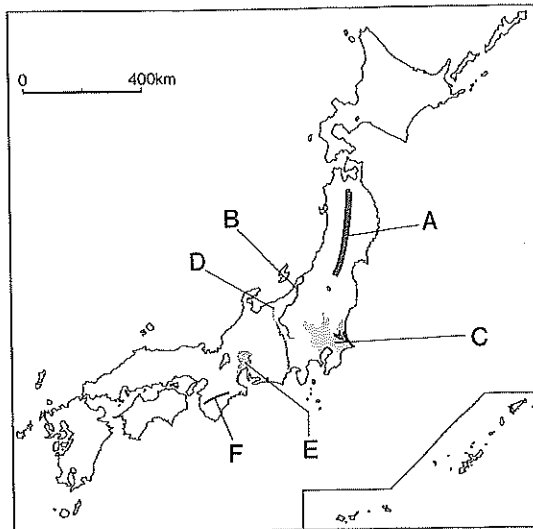
18 世界からみた日本のすがた①

| | | |
|-----|----|-----|
| クラス | 番号 | 得点 |
| 氏名 | | 100 |

■次の問いに答えなさい。(10点×10)

- (1) 日本列島は、太平洋を取り巻く造山帯にある。この造山帯の名称を答えなさい。
- (2) ユーラシアや南北のアメリカなどの安定大陸には、大地をつくる岩盤が長年に渡って侵食されてできた侵食平野が広がっている。これに対して日本列島のような造山帯では山脈から川によって運ばれた土砂が積もり重なってできた平野となっている。このような平野を何というか、答えなさい。

- (3) 日本列島は、ユーラシア□と太平洋□の境界にあたる地域に位置しているため、□の活動で地震や火山活動が多く起こる。□に共通してあてはまる語句を、カタカナで答えなさい。



- (4) 右の地図を見て、次の問いに答えなさい。

- ① Aは、東北地方を日本海側と太平洋側に分ける山脈である。この山脈の名称を、次から1つ選びなさい。
 ア 越後山脈 イ 奥羽山脈
 ウ 日高山脈 エ 赤石山脈
- ② Bは、日本でいちばん長い河川である。この河川の名称を、次から1つ選びなさい。
 ア 信濃川 イ 利根川 ウ 石狩川 エ 木曾川
- ③ Cは、日本でいちばん広い平野である。この平野の名称を、次から1つ選びなさい。
 ア 十勝平野 イ 津軽平野
 ウ 庄内平野 エ 関東平野
- ④ Dは、新潟県糸魚川市と静岡県静岡市を結ぶ線を西の縁として、地面が大きく落ち込んだところである。この溝を何というか、カタカナで答えなさい。
- ⑤ Eの平野の名称と、この平野を流れる河川の組み合わせとして正しいものを、次から1つ選びなさい。
 ア 筑紫平野－筑後川 イ 仙台平野－北上川
 ウ 濃尾平野－長良川 エ 富山平野－常願寺川
- ⑥ Fは、古くから林業の盛んな山地である。この山地の名称を、次から1つ選びなさい。
 ア 筑紫山地 イ 出羽山地
 ウ 紀伊山地 エ 石狩山地
- (5) 三陸海岸や志摩半島、若狭湾などには、リアス海岸がみられる。リアス海岸とはどのような海岸か、簡単に答えなさい。

| | |
|-----|---|
| (1) | |
| (2) | |
| (3) | |
| (4) | ① |
| | ② |
| | ③ |
| | ④ |
| | ⑤ |
| | ⑥ |
| (5) | |
| | |
| | |

19 世界からみた日本のすがた②

| | | |
|-----|----|-----|
| クラス | 番号 | 得点 |
| 氏名 | | 100 |

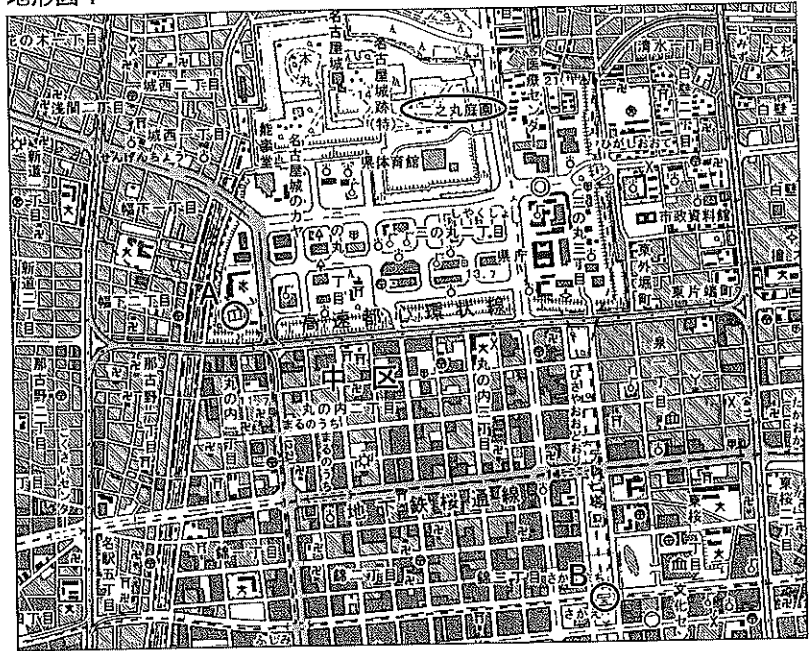
(10点×10)

■ 次の問いに答えなさい。

(1) 縮尺が2万5千分の1の地形図 地形図1

1を見て、次の問いに答えなさい。

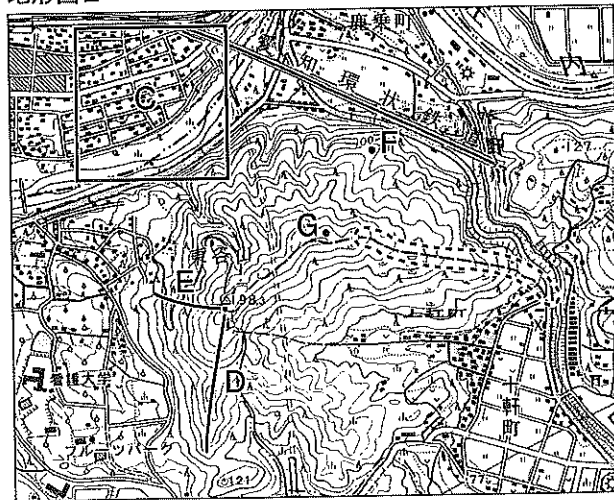
- ① 二之丸庭園から見て、A地点はどの方位に位置するか、八方位で答えなさい。
- ② Aの地図記号が表している建物を、次から1つ選びなさい。
ア 図書館 イ 博物館
ウ 警察署 エ 裁判所
- ③ A地点からさかえ駅(B)までは地形図上で約6cmある。実際の距離は約何mか、答えなさい。
- ④ Yは何を表しているか。
- ⑤ 寺院を表す地図記号を、地形図1を参考に答えなさい。



(2) 縮尺が2万5千分の1の地形図 地形図2

地形図2を見て、次の問いに答えなさい。

- ① Cは、一辺が2cmの正方形である。この地域の実際の面積は何m²か、答えなさい。
- ② 看護大学周辺の土地利用としてあてはまるものを、次から1つ選びなさい。
ア 針葉樹林 イ 広葉樹林 ウ 果樹園 エ 畑
- ③ DのルートよりEのルートの方が傾斜が急であることが読み取れる。その理由を簡単に答えなさい。
- ④ F地点とG地点の標高差としてあてはまるものを、次から1つ選びなさい。
ア 約35m イ 約70m ウ 約140m エ 約210m
- ⑤ 田を表す地図記号を、地形図2を参考に答えなさい。



| | |
|-----|---|
| (1) | ① |
| | ② |
| | ③ |
| | ④ |
| | ⑤ |
| (2) | ① |
| | ② |
| | ③ |
| | ④ |
| | ⑤ |

20

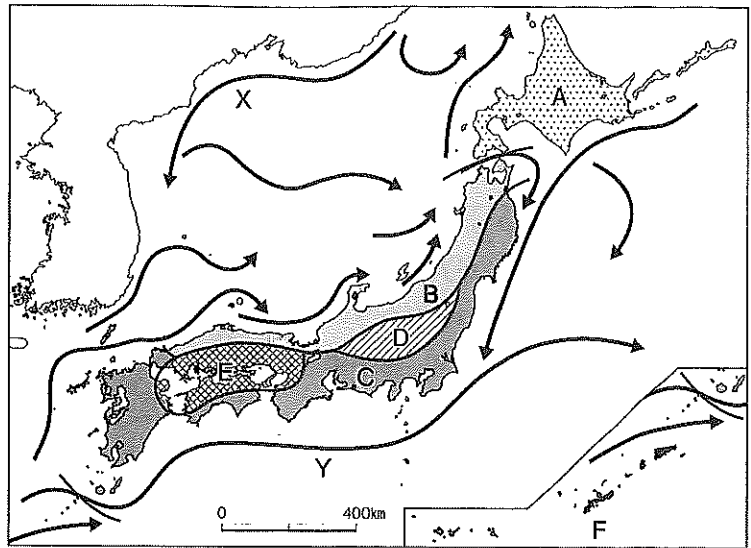
世界からみた日本のすがた③

| | | |
|-----|----|-----|
| クラス | 番号 | 得点 |
| 氏名 | | 100 |

次の問いに答えなさい。

(10点×10)

(1) 右の地図を見て、次の問いに答えなさい。



(気象庁ほか)

① 日本の大部分は温帯に属しているが、冷帯(亜寒帯)に区分される地域を、地図中のA~Fから1つ選びなさい。

② Bの地域の気候の特色を、次から1つ選びなさい。

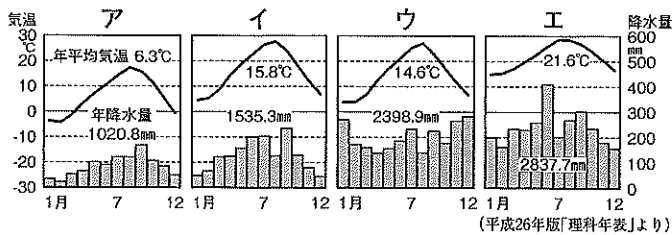
ア 降水量が少なく、夏と冬の気温差が大きい。

イ 夏と冬の気温差が小さく、降水量は少ない。

ウ 季節風(モンスーン)の影響で冬の降水量(降雪量)が多い。

エ 年間を通じて気温が高く、降水量も多い。

③ Cの地域の雨温図としてあてはまるものを、次から1つ選びなさい。



(平成26年版「理科年表」より)

④ Fの地域の気候の名称を答えなさい。

⑤ Xの海流の説明としてあてはまるものを、次から1つ選びなさい。

ア オホーツク海を流れる寒流である。

イ オホーツク海を流れる暖流である。

ウ 日本海を流れる寒流である。

エ 日本海を流れる暖流である。

⑥ Yの海流の名称を答えなさい。

(2) 過去に繰り返し地震を起こし、将来も地震を起こす可能性が高い断層を何というか、答えなさい。

(3) 梅雨や台風の時期に発生する水害のうち、河川の下流部では[]がみられ、特に人口が多い地域では[]による浸水が大きな被害をもたらす。[]に共通してあてはまる語句を答えなさい。

(4) 多くの県や市区町村で減災を目的にハザードマップが発行されているが、減災とはどのような考え方が、簡単に答えなさい。

(5) 自然災害に対する国や都道府県などの防災の取り組みのことを何というか、漢字2字で答えなさい。

| | |
|-----|---|
| (1) | ① |
| | ② |
| | ③ |
| | ④ |
| | ⑤ |
| | ⑥ |
| (2) | |
| (3) | |
| (4) | |
| | |
| | |
| (5) | |

| | | | | |
|-----------|----------------------|-----|----|------|
| 21 | 世界からみた日本のすがた④ | クラス | 番号 | 得点 |
| | | 氏名 | | /100 |

■ 次の問いに答えなさい。 (10点×10)

(1) 世界では、世紀後半に、人口爆発とよばれる急速な人口増加が起こった。にあてはまる数字を答えなさい。

(2) 2013年現在の世界の人口は約何億人か、次から1つ選びなさい。

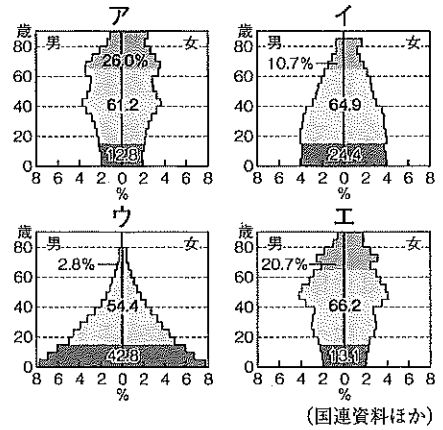
- ア 約60億人 イ 約70億人 ウ 約80億人 エ 約90億人

(3) 次のア～エの国のうち、人口密度の最も高い国を選びなさい。

- ア アメリカ合衆国 イ インドネシア ウ バングラデシュ エ オーストラリア

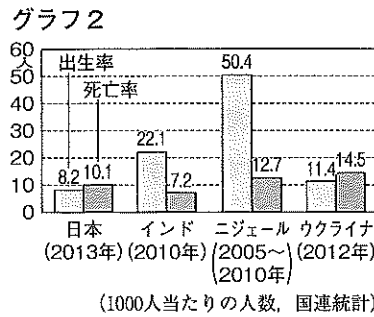
(4) グラフ1のア～エは、日本、アルゼンチン、ドイツ、エチオピア

アのいずれかの人口ピラミッドを示している。エチオピアにあてはまるものを、1つ選びなさい。



(5) グラフ2は、国別の出生率と

死亡率を示している。グラフ2中の4つの国のうち、人口増加率が最も高いと判断できる国名を答えなさい。



(6) 日本は、総人口の半数近くが東京、大阪、名古屋のに

分布している。にあてはまる語句を答えなさい。

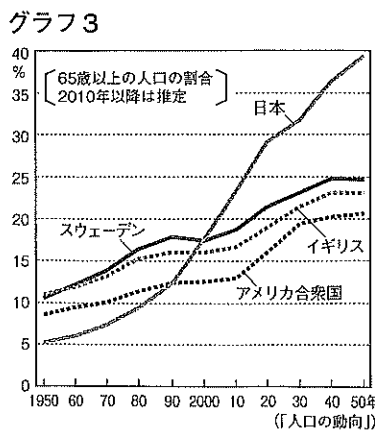
(7) 日本の農村や山村、離島は人口が減少する過疎地域となっているが、過疎地域で起こっている具体的な問題を、「産業や経済」「生活」という語句を用いて、簡単に答えなさい。

(8) 日本では、女性一人が生涯に出産する子どもの数の平均が低くなることによる①化と、全人口に占める65歳以上の人口の割合が高くなる②化が同時に、しかも急速に進んでいる。①, ②にあてはまる語句を、それぞれ答えなさい。

(9) グラフ3は、各国の高齢者人口の

割合の変化を示している。グラフ3から読み取れることとしてあてはまるものを、次から1つ選びなさい。

- ア 日本の高齢者人口の割合は100年で4倍に増加している。
イ スウェーデンの高齢者人口の割合はつねに増加し続けている。
ウ 2000年のアメリカ合衆国の高齢者人口の割合は10%以上である。
エ 2010年のイギリスの高齢者の割合は日本の半分未満である。



| | |
|-----|---|
| (1) | |
| (2) | |
| (3) | |
| (4) | |
| (5) | |
| (6) | |
| (7) | |
| (8) | ① |
| | ② |
| (9) | |

22 世界からみた日本のすがた⑤

| | | |
|-----|----|-----|
| クラス | 番号 | 得点 |
| 氏名 | | 100 |

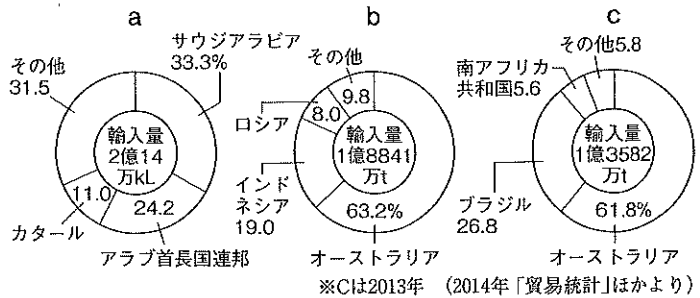
■次の問いに答えなさい。

(10点×10)

(1) 右のグラフ1は、日本の主な資源の輸入 グラフ1

先を示している。a, b, cにあてはまる資源の正しい組み合わせを、次から1つ選びなさい。

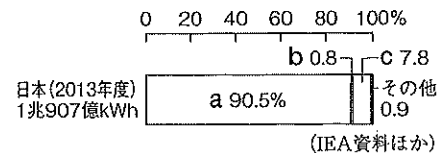
- ア a-原油, b-鉄鉱石, c-石炭
- イ a-原油, b-石炭, c-鉄鉱石
- ウ a-天然ガス, b-鉄鉱石, c-石炭
- エ a-天然ガス, b-石炭, c-鉄鉱石



(2) 近年、資源・エネルギーの有効活用、環境保全と経済発展を両立させる な社会の実現が課題となっている。 にあてはまる語句を答えなさい。

(3) 右のグラフ2は、日本の発電エネルギー源別の割合を示している グラフ2

a～cのうち、bは東日本大震災の影響で多くの発電所が発電を停止しているため、それ以前の年に比べて割合が大幅に少なくなっているが、このエネルギー源の名称を答えなさい。



(4) 第一次産業にあてはまるものを、次から1つ選びなさい。

- ア 農業 イ 工業 ウ 商業 エ サービス業

(5) 愛知県と三重県にまたがる、出荷額が最大(2013年)の工業地帯の名称を答えなさい。

(6) かつての日本の中心的な貿易形態であった加工貿易とはどのような貿易か、「原材料」「製品」という語句を用いて簡単に答えなさい。

(7) 産業について、下線部が誤っているものを、次から1つ選びなさい。

- ア 貿易の自由化が進み、日本の食料自給率は下がっている。
- イ 古くから発達した工業地帯は太平洋ベルトに集中している。
- ウ 工場の海外移転により国内で産業の空洞化が起こっている。
- エ 第三次産業の就業者人口の割合は就業者全体の約半数である。

(8) 現在、世界の国々の間では、交通手段や情報通信技術 () の発達により、国境を越えた人やものの移動、情報のやりとりが活発になっている。 にあてはまる語句を、アルファベット3字で答えなさい。

(9) 貿易の輸送において、航空輸送に適している品目を、次から1つ選びなさい。

- ア 液化ガス イ 鉄鋼 ウ 電子部品 エ 自動車

(10) 1960年代以降、鉄道や高速道路の整備による交通網の発達や、電車や自動車の高速化によって、ある距離を人々が移動するのにかけた で表す 距離は縮まった。 に共通してあてはまる語句を答えなさい。

| | |
|------|--|
| (1) | |
| (2) | |
| (3) | |
| (4) | |
| (5) | |
| (6) | |
| (7) | |
| (8) | |
| (9) | |
| (10) | |

学習のまとめ⑤

| | | |
|-----|----|-----|
| クラス | 番号 | 得点 |
| 氏名 | | 100 |

(10点×10)

■次の問いに答えなさい。

(1) 北アメリカ大陸の西部を南北に走る [] 山脈は、環太平洋造山帯に含まれる。 [] にあてはまる語句を、次から1つ選びなさい。

- ア アパラチア イ ロッキー ウ ピレネー エ アンデス

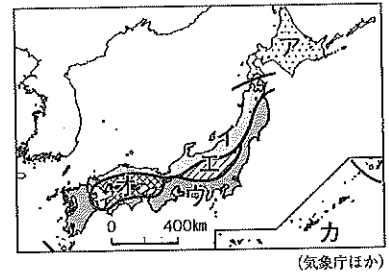
(2) 日本アルプスとよばれる3つの山脈に含まれるものを、次から1つ選びなさい。

- ア 日高山脈 イ 越後山脈 ウ 奥羽山脈 エ 木曾山脈

(3) 日本の地形の説明として下線部が誤っているものを、次から1つ選びなさい。

- ア 日本列島には、山脈から川に運ばれた土砂が堆積してできた堆積平野が多い。
 イ 日本の川は、世界の川と比べると短く、流れが急であり、雨水が短時間で海まで流れる。
 ウ 十勝平野の海岸では、谷が海に沈み、入り組んだ海岸線をもつリアス海岸がみられる。
 エ 南西諸島にみられるさんご礁は、台風の被害を防ぐ天然の防波堤の役割を果たしている。

(4) 日本の気候区分のうち、「年間降水量が少なく、夏と冬の気温差が大きい」気候区分としてあてはまるものを、右の地図中のア～カから1つ選びなさい。

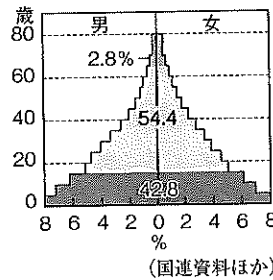


(5) 西日本では、雨が降らないために干ばつが起こることがある。そこで、瀬戸内地方では、古くから [] がつくられてきた。 [] にあてはまる語句を答えなさい。

(6) 日本海を北上する海流を、次から1つ選びなさい。

- ア 対馬海流 イ リマン海流
 ウ 黒潮 (日本海流) エ 親潮 (千島海流)

(7) 右の人口ピラミッドについて、次の問いに答えなさい。



① このような形の人口ピラミッドを富士山型という。富士山型の人口ピラミッドの国の人口構成の特色を、「15歳未満」「65歳以上」という語句を用いて、簡単に答えなさい。

② このような人口ピラミッドの人口構成の国としてあてはまるものを、次から1つ選びなさい。

- ア オーストラリア イ エチオピア
 ウ アメリカ合衆国 エ フランス

(8) 現在、日本で最も大きな割合を占めているのは [] 発電である。 [] にあてはまる語句を答えなさい。

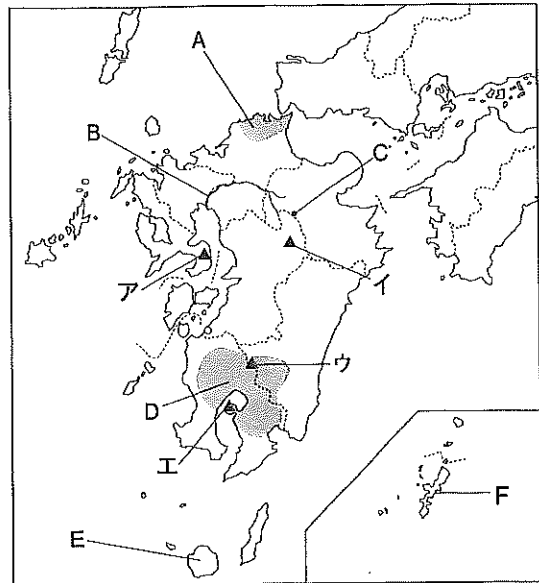
(9) 関東地方の太平洋側から九州北部にかけての地域には、日本の工業地域が集中している。この地域を何というか、答えなさい。

| | |
|-----|---|
| (1) | |
| (2) | |
| (3) | |
| (4) | |
| (5) | |
| (6) | |
| (7) | ① |
| (7) | |
| (7) | |
| (7) | |
| (7) | ② |
| (8) | |
| (9) | |

23 九州地方

| | | |
|-----|----|------|
| クラス | 番号 | 得点 |
| 氏名 | | /100 |

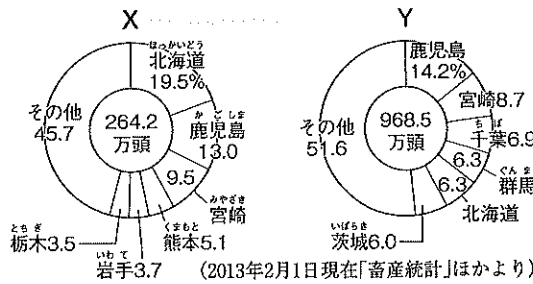
右の地図を見て、次の問いに答えなさい。 (10点×10)



- Aの地域について、次の問いに答えなさい。
 - この地域は、1901年に官営八幡製鉄所が操業を開始して以来、鉄鋼業を中心に発達してきた工業地域である。この工業地域の名称を答えなさい。
 - この工業地域では石炭産業が盛んだったが、1960年代に進行した[]革命によって石炭産業がおとろえると、地域経済は大きな打撃を受けた。[]にあてはまる語句を、カタカナで答えなさい。
- Bの河川の名称を答えなさい。
- Cでは、[]のエネルギーを利用した地熱発電が行われている。[]にあてはまる語句を答えなさい。
- Dの地域について、次の問いに答えなさい。

- この地域の一帯には、シラス台地が広がっている。シラス台地とはどのような台地か、簡単に答えなさい。

② シラス台地の広がる鹿児島県や宮崎県では、畜産業が盛んである。右のグラフは、都道府県別の家畜の飼養頭数の割合を示している。X、Yにあてはまる家畜の組み合わせを、次から1つ選びなさい。



X、Yにあてはまる家畜の組み合わせを、次から1つ選びなさい。

- ア X-乳用牛, Y-豚 イ X-乳用牛, Y-肉用若鶏
 ウ X-肉用牛, Y-豚 エ X-肉用牛, Y-肉用若鶏

- この地域のほか、九州地方で畜産が盛んな地域では、家畜のふん尿を堆肥やバイオマス発電に利用したりする農業への取り組みが始められている。このような農業を何というか、答えなさい。

- Eの島は、多様で豊かな自然がみられることから、世界自然遺産に登録されている島である。この島の名称を、次から1つ選びなさい。
 ア 与那国島 イ 種子島 ウ 屋久島 エ 対馬

- Fの島を第二次世界大戦後に占領していた国を、次から1つ選びなさい。

- ア ソビエト連邦 イ アメリカ合衆国
 ウ 中国 エ 韓国

- 世界最大級のカルデラで知られる阿蘇山の位置を、地図中のア～エから1つ選びなさい。

| | |
|-----|---|
| (1) | ① |
| (2) | ② |
| (3) | |
| (4) | ① |
| (5) | ② |
| (6) | ③ |
| (7) | |