

# 19

## 欧米の進出と日本の開国①

右の年表を見て、次の問いに答えなさい。

- (1) a の [ ] にあてはまる、スペインから独立して、ヨーロッパの貿易や金融の中心となっていた国はどこか。
- (2) b のビュレータン革命を指導した、議会派の人物はだれか。
- (3) b のビュレータン革命によって、イギリスではどのような政治になったか。「王政」「共和制」の語句を用いて簡単に答えなさい。
- (4) c について、フランスの絶対王政の下で、免税などの特権を持っていた身分とは、貴族ともう一つは何か。
- (5) d のころに活躍した啓蒙思想家とその主張の正しい組み合わせを、次から1つ選びなさい。

ア ロック - 社会契約説    イ モンテスキュー - 社会契約説  
 ウ ロック - 三権分立    エ ルソー - 三権分立

- (6) d の名譽革命の後のイギリスの様子にあてはまるものを、次から1つ選びなさい。

- ア 軍力でヨーロッパの大部分を従わせた。  
 イ 憲法が制定され、大統領制の国になった。  
 ウ 立憲君主制と議会政治が確立した。  
 エ 国王が強い権力をふるった。

- (7) e について述べた次の文中の ( ) にあてはまる語句を、それぞれ答えなさい。

「北アメリカに作られた13の植民地が、本国 ( ① ) からの独立を求め、( ② ) を軍最高司令官として独立戦争を起した。」

- (8) f のフランス革命に際して発表された人権宣言の内容を、次から1つ選びなさい。

ア 議会の同意なしに、国王の権限によって法律とその効力を停止することは違法である。

イ 人は生まれながらに、自由で平等な権利を持つ。社会的な区別は、ただ公共の利益に関係のある場合にしか設けられてはならない。

ウ 我々は以下のことを自明の真理であると信じる。人間はみな平等であると信じていること、その中には、生命、自由、幸福の追求がふくまれていること、である。

- (9) 国王大権と称して、議会の承認なく、国王の使用のために税金を課することは、違法である。

(9) ナポレオンが皇帝となったのはいつか。最も近い時期に起きたできごとを、年表中の b, d, e, f から選びなさい。

年代	できごと
1602	[ ] が東インド会社を設立… a
1640	イギリスでビュレータン革命… b
1661	ルイ14世の絶対王政が始まる… c
1688	イギリスで名譽革命が起こる… d
1775	アメリカ独立戦争が始まる… e
1789	フランス革命が起こる… f

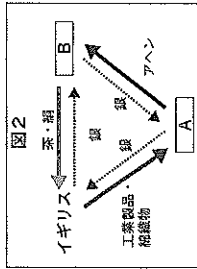
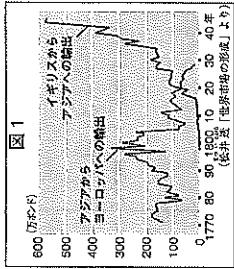
(1)	
(2)	
(3)	
(4)	
(5)	
(6)	
(7)	
(8)	
(9)	

# 20

## 欧米の進出と日本の開国②

右の年表を見て、次の問いに答えなさい。

- (1) 図1は、Xの時期のアジアとイギリスの綿織物の輸出額を示したものである。イギリスの綿織物の輸出が大きい理由を、「蒸気機関」の語句を用いて簡単に答えなさい。
- (2) a のアヘン戦争の背景を示した右の図2の [ ] A・B にあてはまる国・地域名を、それぞれ答えなさい。
- (3) a のアヘン戦争の結果として結ばれた条約を何とよいうか。
- (4) b について述べた次の文中の ( ) にあてはまる語句を、それぞれ答えなさい。



年代	できごと
1769	ワットが蒸気機関を改良する ↑ X
1840	アヘン戦争が起こる… a
1848	「共産党宣言」が出される… b
1851	[ ] の乱が起こる… c
1857	インド大反乱が起こる… d
1861	アメリカで南北戦争が起こる… e
1871	ドイツ帝国が成立する… f

(1)	
(2)	A
(3)	B
(4)	①
(5)	②
(6)	
(7)	
(8)	

「この本の中で、マルクス、エンゲルスは、生産の元手を持つ者が労働者をやと、利潤を目的に生産を行う ( ① ) 主義を批判し、生産に必要な手段を共有する ( ② ) 主義の考えを説いた。」

- (5) c の [ ] にあてはまる、清野堂を指導者とする社会をつくろうとした組織を何とよいうか。
- (6) d のころ、皇帝の専制政治が続けられていたある国は、南下政策をとって各国と衝突した。この国はどこか。次から1つ選びなさい。

ア ロシア    イ フランス    ウ イタリア    エ スペイン

- (7) e の南北戦争のさい、北部の州はどのような主張をしたか。次から1つ選びなさい。

ア 奴隷制の廃止と自由貿易    イ 奴隷制の存続と自由貿易

ウ 奴隷制の廃止と保護貿易    エ 奴隷制の存続と保護貿易

- (8) f のドイツで富国強兵政策を進め、「鉄血宰相」と呼ばれたのはだれか。次から1つ選びなさい。

ア ナポレオン    イ クロムウェル

ウ リンカン    エ ビスマルク

21

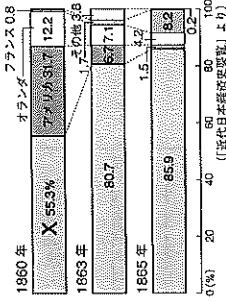
欧米の進出と日本の開国③

クラス 番号 得点 /100

氏名

右の年表を見て、次の問いに答えなさい。

- (1) a について、アメリカが日本の開国を求めたのはなぜか。次から1つ選びなさい。  
ア 日本の銀を手に入れたから。  
イ キリスト教を布教したから。  
ウ アメリカの植民地にしたから。  
エ 太平洋横断の中継地としたから。  
オ 日米和親条約で開かれた2港はどこか。
- (2) b の後、貿易が始まった。主な貿易の相手国を示した次のグラフ中のXにあてはまる国はどこか。
- (3) c の後、貿易が始まった。主な貿易の相手国を示した次のグラフ中のXにあてはまる国はどこか。



- (4) d で暗殺された江戸幕府の犬老はだれか。
- (5) e, f の後、薩長藩や長州藩は倒幕を目指ようになった。その理由を、「攘夷」「幕府」「列強」の語句を用いて簡単に説明しなさい。
- (6) g の薩長同盟の仲立ちをした人物とその出身藩の組み合わせを、次から1つ選びなさい。  
ア 坂本龍馬 - 永戸藩  
ウ 坂本龍馬 - 土佐藩  
エ 勝海舟 - 土佐藩  
オ 勝海舟 - 水戸藩
- (7) h の□にあてはまる、江戸幕府の将軍が政権を朝廷に返したできごとを何と何というか。
- (8) i の戊辰戦争の戦いが行われた場所としてあてはまらないものを、次から1つ選びなさい。  
ア 下関  
イ 島根  
ウ 会津若松  
エ 蘭語
- (9) 幕府に反対した大名や武士、公家などが処罰された安政の大獄が行われたのはいつか。あてはまる時期を、年表中のア～エから選びなさい。

(2)は順不同

22

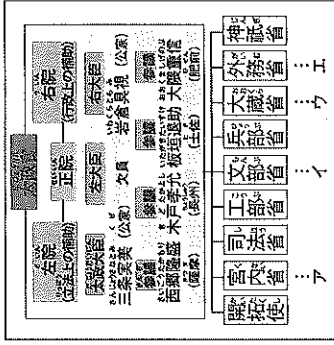
明治維新①

クラス 番号 得点 /100

氏名

右の年表を見て、次の問いに答えなさい。

- (1) a と同じ年のできごとについて述べた次の文中の ( ) にあてはまる語句を、それぞれ答えなさい。  
「江戸を ( ① ) と改称し、年号を ( ② ) と改めた。」
- (2) b, c は政府が全国を直接治める仕組みの国家を造るための改革である。このような国家を何というか。
- (3) c の薩長同盟によって、政府から県を治めるために派遣された役人を何というか。
- (4) c と同じころに決められた新政府の仕組みを示した次の図を見て、あとの問いに答えなさい。



- (1) 国家財政に関わる仕事をした省を、図中のア～エから1つ選びなさい。
- (2) このころの政府が藩閥政府と呼ばれた理由を図中の語句を用いて簡単に答えなさい。
- (3) 同じころ、身分制度も改められた。「平民」にふくまれないものを、次から1つ選びなさい。  
ア 士族  
イ 百姓  
ウ 武士  
エ 身分・ひにん身分
- (4) d の学制では、満何歳以上の男女が、小学校教育を受けることになったか。
- (5) e の□にあてはまる、満20歳になった男子に兵役の義務を課した決まりを何というか。
- (6) f の□にあてはまる、土地所有者に地価の3%の税を現金で納めさせるようにした改革を何というか。

23 明治維新②

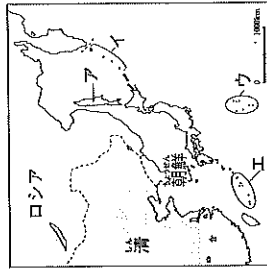
クラス 番号 氏名 得点

右の年表を見て、次の問いに答えなさい。

- (1) aの北海道に新政府が置いた役所を何というか。
(2) bの臼杵修好条約についての説明を、次から1つ選びなさい。
ア 対等な立場で結ばれた。
イ 日本に不利な内容だった。
ウ 日本に有利な内容だった。
(3) cの岩倉使節団に参加・同行した人物として、あてはまらないものを、次から1つ選びなさい。
ア 木戸孝允
イ 大久保利通
ウ 津田梅子
エ 板垣退助

Table with 2 columns: 年代, できごと. Rows include 1869 (蝦夷地を北海道と改称する), 1871 (日清修好条約を結ぶ), 1872 (岩倉使節団を欧米に派遣する), 1875 (富岡製糸場ができる), 1876 (新橋一橋架橋に開通), 1879 (日朝修好条約を結ぶ), 1899 (沖繩県を設置する).

- (4) dの...にあてはまる交通・通信手段は何か。
(5) dの年に「学問のすゝめ」を刊行した人物はだれか。
(6) eの富岡製糸場について述べた次の文中の( )にあてはまる語句を、それぞれ答えなさい。
「( ① ) 機械工場の富岡製糸場は、フランスから最新機械を輸入して、( ② ) 県に造られた。」
(7) eの富岡製糸場を造るなどして、産業を近代化しようとした政府の政策を何というか。
(8) fの年までに、日本領と決まった地域にあてはまらないものを、次の地図中のア～エから1つ選びなさい。



- (9) 年表のころ、欧米の文化が盛んに取り入れられ、人々の生活にも変化が見られた。そのうち、「衣」に関する変化を簡単に答えなさい。

24 明治維新③

クラス 番号 氏名 得点

右の年表を見て、次の問いに答えなさい。

- (1) aの選白書を出した板垣退助が、国会開設を求める運動を進めるために高知で結成した組織は何か。次から1つ選びなさい。
ア 岩倉使節団
イ 立憲社
ウ 藩閥使
エ 国会期成同盟
(2) aをきっかけに始まった、国民が政治に参加する権利を求める運動を何というか。
(3) bの西南戦争が政府軍によって鎮圧された後、政府を批判する運動はどうなっていたか。「武力」「言論」の語句を用いて簡単に答えなさい。
(4) cの内閣制度ができ、初代内閣総理大臣となった人物はだれか。
(5) dによる仕組みを示した右の図を見て、次の問いに答えなさい。
① Aに共通してあてはまる語句を、漢字2字で答えなさい。
② Bにあてはまる議院名を、漢字3字で答えなさい。
③ 選挙において選挙権をあてられたのはどのような人々か。
次の文中の( )にあてはまる数字を、それぞれ答えなさい。
「直接国税を( X )円以上納める者( Y )歳以上の男子。」
④ 臣民(国民)の権利はどのように定められていたか。次から1つ選びなさい。
ア 生まれながらの権利として認められた。
イ ほとんど認められなかった。
ウ 平等権のみが認められた。
エ 法律の範囲内で自由権が認められた。
(6) eの...にあてはまる、教育の柱として思慕愛国の精神などを示した文書を何というか。
(7) 自由党や立憲改進黨などの政党が結成されたのはいつか。あてはまる時期を、年表中のア～エから選びなさい。

Table with 2 columns: 年代, できごと. Rows include 1874 (民権議院設立の選白書が出される), 1877 (西南戦争が起こる), 1881 (国会開設の勅諭が出される), 1885 (内閣制度ができる), 1889 (大日本帝国憲法が公布される), 1890 (...が出される).

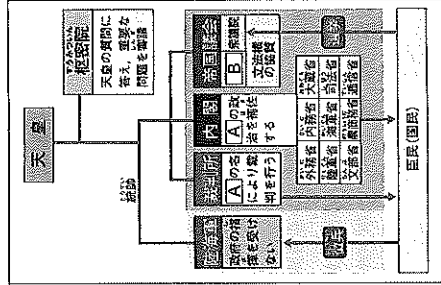


Table with 7 rows for questions (1) through (7) regarding the political system diagram.

# 25

## 日清・日露戦争と近代産業①

右の年表を見て、次の問いに答えなさい。

(1) a の鹿鳴館の建設は、日本が文明国であることを列強に示すために進められた政策の一つとして行われた。この政策を何というか。次から1つ選びなさい。

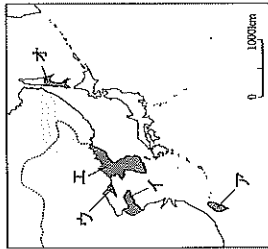
- ア 文明開化
- イ 帝國主義
- ウ 欧化政策
- エ 富国強兵

(2) b の直接のきっかけとなったできごとを、次から1つ選びなさい。

- ア 江華島事件
- イ 甲午農民戦争
- ウ 戊辰戦争
- エ 琉球処分

(3) c の講和条約について、次の問いに答えなさい。

- ① この条約を何というか。
- ② この条約で日本が獲得した領土を、次の地図中のア～オからすべて選びなさい。



- (4) c の後のできごとについて述べた次の文中の ( ) にあてはまる語句を、それぞれ答えなさい。  
「ロシア・ドイツ・( ① ) が、日本が得た領土の一部を済に返還するよう勧告してきた。このできごとを ( ② ) という。」

(5) (4) に対し、日本国内ではどのような動きが起こったか。「対抗心」

「賠償金」の語句を用いて簡単に答えなさい。

(6) d の [ ] にあてはまる政党名を、次から1つ選びなさい。

- ア 立憲政友会
- イ 立憲改進党
- ウ 自由党
- エ 立憲社

(7) e の不平等条約の完全な改正を達成した外務大臣はだれか。次から1人を選びなさい。

- ア 井上馨
- イ 陸奥宗光
- ウ 岩倉具視
- エ 小村寿太郎

(8) イギリスとの間で、領事裁判権を撤廃したのはいつか。あてはまる時期を、年表中のア～エから選びなさい。

(10点×10)

年代	できごと
1883	鹿鳴館が完成する……………a ↑ ↓ ア
1886	ノルマントン号事件が起こる……………b ↑ ↓ イ
1894	日清戦争が起こる……………c
1895	講和条約が結ばれる……………d ↑ ↓ ウ
1900	伊藤博文が [ ] を締結する……………e ↑ ↓ エ
1911	不平等条約を完全に改正する……………e

(1)	
(2)	
(3)	
(4)	
(5)	
(6)	
(7)	
(8)	

(3) ② 順不同・完答

# 26

## 日清・日露戦争と近代産業②

右の年表を見て、次の問いに答えなさい。

(1) a の [ ] にあてはまる、中国から外国勢力を排除しようとする団体を何というか。

(2) b のある国とはどこか。

(3) c の日露戦争について述べた文として正しいものを、次から1つ選びなさい。

- ア 華僑秋次や内村鑑三が主義論を唱え、華論を動かした。
- イ 朝鮮での農民の反乱が、開戦のきっかけとなった。
- ウ 日本海海戦では、東郷平八郎がロシア艦隊を破った。

(4) d の講和条約について、次の問いに答えなさい。

- ① この条約を何というか。
- ② この条約の仲立ちをした国はどこか。
- ③ この条約で日本が獲得したものを、次からすべて選びなさい。  
ア 南樺太 イ 千島列島 ウ 多額の賠償金  
エ 旅順・大連の租借権 オ 長春以南の鉄道の利権
- (5) X の時期のできごとを、次から1つ選びなさい。

ア ノルマントン号事件が起こる。

イ 伊藤博文が暗殺される。

ウ 甲午農民戦争が起こる

エ 北海道に開拓使が置かれる。

(6) e の韓国では、朝鮮人を日本人に同化させるため、どのような政策が採られたか。「学校」の語句を用いて簡単に答えなさい。

(7) f の中華民国について説明した次の文中の ( ) にあてはまる語句の組み合わせを、あとから1つ選びなさい。

「三民主義を唱えた( ① ) の指導の下、1911年、多くの省が清からの独立を宣言し、翌年、( ② ) を臨時大統領とする中華民国の建国を宣言した。これを ( ③ ) という。」

- ア ① - 孫文、② - 辛亥革命
- イ ① - 孫文、② - 太平天国
- ウ ① - 袁世凱、② - 辛亥革命
- エ ① - 袁世凱、② - 太平天国

(8) 与謝野晶子が右の歌を発表したことから関係の深いできごとを、年表中の a ~ f から1つ選びなさい。

君死にたまふことなかれ  
あゝ恋とよ君を泣く  
君死にたまふことなかれ  
末に生まれし君なれば  
親のなざげはまざりしも  
親は涙をにぎらせて  
人を殺せどをしへしや  
人を殺して死ねよとて  
二十四までをぞだてしや

# 27

## 日清・日露戦争と近代産業③

資料や表を見て、あとの問いに答えなさい。

資料 交通と産業の発達

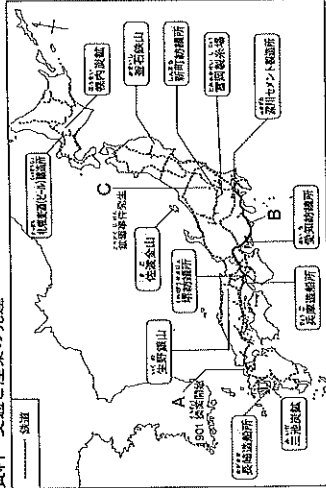


表 明治時代の文化

文学	『浮城物語』 樋口大祐 『たけくらべ』 樋口大祐 D…『坊っちゃん』
美術	日本画→横山大観・狩野芳崖 洋画→E…『湖畔』 彫刻→高村光雲・萩原守痴
音楽	F…『花城の月』
自然科学	細菌学…北里柴三郎・G 原子物理学…長岡半太郎

(10点×10)

(1) 資料中のAは八幡製鉄所である。この製鉄所について述べた次の文中の( )にあてはまる語句の組み合わせを、あとから1つ選びなさい。

- 「八幡製鉄所は( ① )戦争で得た賠償金を基に建設され、九州北部で産出する( ② )を動力源として鉄鋼を生産した。」
- A ①-日清 ②-石油    I ①-日清 ②-石炭  
 U ①-日露 ②-石油    E ①-日露 ②-石炭

(2) 資料中のBは、1889年に全通した鉄道路線である。この鉄道路線を何というか。

(3) 資料中のCの鉱山について述べた次の文中の( )にあてはまる語句を、それぞれ答えなさい。

「( ① )銅山から流れ出した鉱毒が渡良瀬川を汚染し、住民に被害を出した。地元選出の衆議院議員の( ② )はこの鉱毒事件の解決に力をつくした。」

(4) 工場や鉱山を国から払い下げられた三井や三菱などの大資本家を何というか。

(5) 製糸業の発達が農村にもたらした変化を、簡単に答えなさい。

(6) 表中のD、E、F、Gにあてはまる人物を次からそれぞれ選びなさい。

- A 夏目漱石    I 岡倉天心    U 野口英世  
 E 森鷗外    O 黒田清輝    K 滝沢太郎

(1)	
(2)	
(3)	①
(4)	②
(5)	
(6)	D
	E
	F
	G