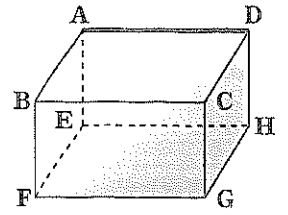


<8点×12> 語頭に付ける「辺」「面」は省略。(体温)

度

ドライ① 右の図の直方体について、次の辺をすべて答えなさい。

- ① 辺ADと平行な辺 3つ ② 辺ADと垂直な辺 4つ ③ 辺ADとねじれの位置にある辺 4つ



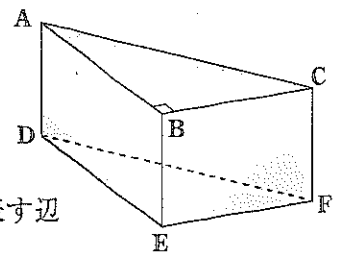
① 辺 _____

② 辺 _____

③ 辺 _____

ドライ② 右の図の三角柱について、次の辺や面をすべて答えなさい。

- ① 面ABCと平行な辺 3つ ② 面DEFに垂直な辺 3つ ③ 面BEFC上にある辺 4つ



- ④ 辺BEに平行な面 ⑤ 辺ABに垂直な面 ⑥ 点Bと面DEFとの距離を表す辺

① 辺 _____ ② 辺 _____ ③ 辺 _____

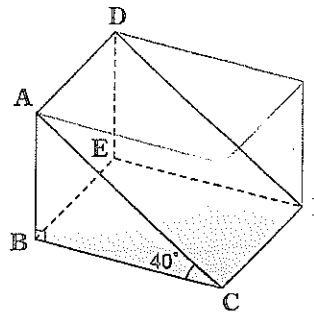
④ 面 _____ ⑤ 面 _____ ⑥ 辺 _____

ドライ③ 右の図のように、直方体を2つに分けてつくった立体について、次の問いに答えなさい。

- ① 面ABCと平行な面を答えなさい。

- ② 面ACFDと面BCFEのつくる角は何度か。

- ③ 面BCFEと垂直な面をすべて答えなさい。 3つ



① 面 _____

② _____ 度

③ 面 _____

NEWS<1点×4> 国名を片仮名で書け。

昨年2月に軍がクーデターを起こした _____ は、インド、ラオス、
 _____ と国境を接する。1948年に _____ から
 独立した。