

中2. 2022. 3. 5

2020年3月実施

新中学3年

神奈川県合格力判定統一模試

社 会

社会

注 意 事 項

- 1 開始の合図があるまで、この問題冊子を開いてはいけません。
- 2 問題は問4まであり、1ページから12ページに印刷されています。
- 3 答えは、解答用紙の決められた欄らんに、記入またはマークしなさい。
- 4 数字や文字などを記述して解答する場合は、解答欄からはみ出さないように、はっきり書き入れなさい。
- 5 マークシート方式により解答する場合は、その番号の○の中を塗りつぶしなさい。
- 6 解答用紙にマス目（例：

--	--

）がある場合は、句読点などもそれぞれ1字と数え、必ず1マスに1字ずつ書きなさい。なお、行の最後のマス目には、文字と句読点などを一緒に置かず、句読点などは次の行の最初のマス目に書き入れなさい。
- 7 終了の合図があったら、すぐに解答をやめなさい。

所要時間50分

社会 <解答と解説>

解答	配点
問1 (ア) 6 (ii) 2 (イ) 3 (ii) 2 (iii) 2 (iv) く : B け : (例) 資源や農産物から機械類などの工業製品(に変化した…) (18字) (v) 6 (ウ) 5 (ii) 4	問1 (イ) 6点 (イ)(iii)(ウ)(ii)各2点×2 = 4点 その他各3点×6 = 18点 計28点
問2 (ア) 2 (イ) リアス海岸 (ウ) 1 (エ) 1 (ii) 2 (iii) 3 (iv) 4 (v) 3	問2 (ア)(ウ)各2点×2 = 4点 その他各3点×6 = 18点 計22点
問3 (ア) 4 (イ) 1 (ウ) 5 (エ) 3 (ii) 2 (オ) 5 (カ) 2 (ii) お : B か : 徳政	問3 各3点×8 = 24点 (ウ)(ii)完答
問4 (ア) 4 (イ) 1 (ウ) 3 (ii) 2 (エ) 2 (オ) く : B け : 異国船打払令(外国船打払令) (カ) 3 (ii) 2 (キ) し : B す : 大政奉還	問4 (ウ)(ii)2点 その他各3点×8 = 24点 (オ)(キ)完答 計26点 合計100点

問1 世界の地理

(ア) Kさんは成田国際空港を出発し、西に向かう行路で世界一周をしました。Pは西経74度、Qはイギリスのロンドンなので、本初子午線、Rは東経30度の都市を示しており、成田国際空港から西の方面に向かって進むと、R→Q→Pの順に通過したことになります。

(ii) 日本の標準時子午線は東経135度であり、フランスの標準時子午線は東経15度です。よって、フランスと日本の経度差は $135 - 15 = 120$ 度、時差は経度15度につき1時間生じるので、 $120 \div 15 = 8$ で8時間となります。また、日付変更線の西側では経度が東に行くほど時刻は早く進みます。

(イ) 略地図Iのaで示した線は北緯45度、略地図IIIのdで示した線は本初子午線です。略地図IIIのbで示した線は北緯60度、略地図IVのfで示した線は東経15度です。

(ii) アメリカ合衆国とメキシコはカナダとともに自由貿易協定を結んでいるので、貿易額に占めるそれぞれの国の割合が高くなっています。

(iii) 北アメリカ大陸の東の海洋は大西洋です。太平洋、大西洋、インド洋を三大洋といいます。なお、IIIの海洋はインド洋です。

(iv) グラフIのうち、Aはタイ、Bはマレーシアの輸出品目とその割合の推移を示したものです。1980年の輸出上位3品目はタイ、マレーシアそれぞれ原油(資源)、米、野菜・果実、天然ゴム、木材(農産物)が中心で、2016年になると、機械類、自動車などの工業製品中心に変化していることが読み取れます。

< [け] の正答例 >

- ・資源や農産物から機械類などの工業製品(に変化した…) (18字)
- ・資源や農産物から工業製品中心(に変化した…) (14字)

《採点について》

① 誤字、脱字などがある場合は、その数にかかわらず1点減点となります。

② [く]のみが正解の場合は3点、[け]のみが正解の場合は3点となります。




(v) Wは平均気温が低く、夏と冬の気温の差が大きいことから冷帯(亜寒帯)、Xは降水量が極端に少ないことから乾燥帯、Zは1年を通して高温で夏の降水量が多いことから熱帯のサバナ気候です。また、①はギニア湾岸で行われていたプランテーションによるカカオの栽培、②は地中海式農業の説明です。

(ウ) Aで示した地点を首都とする国はエジプト、Bで示した地点を首都とする国は南アフリカ共和国です。2000年から2017年にかけて増加した国内総生産の割合を比較することになるので、エジプトでは、 $195,136 \div 95,684 = 2.03\dots$ より約2倍になり、南アフリカ共和国では、 $348,872 \div 138,436 = 2.52\dots$ より約2.5倍となるので、南アフリ

カ共和国の方が大きいです。

- (ii) 略地図ⅣにあるCで示した地点を首都とする国は、サウジアラビアです。サウジアラビアでは、国民のほとんどがイスラム教を信仰しています。イスラム教徒は豚肉を食わず、1日5回、聖地であるサウジアラビアのメッカの方角に向かって礼拝します。なお、毎週日曜日に礼拝に参加する習慣があるのは、キリスト教です。

問2 日本の地理

- (ア) 東北地方の県で県名と県庁所在地名が異なるのは、岩手県が盛岡市、宮城県が仙台市の二つです。
- (イ) リアス海岸は、三陸海岸の南部の他に福井県の^{わかさ}若狭湾、三重県の志摩半島が有名です。
- (ウ) 2は京都府、3は石川県、4は青森県の伝統的工芸品です。他に有名な伝統的工芸品として京都府の清水焼、京友禅、石川県の輪島塗、山形県の天童将棋駒や、福島県の会津塗、宮城県の宮城伝統こけしなどがあります。
- (エ)(i) 浄土信仰は、阿弥陀仏にすがり念仏を唱えれば、死後極楽浄土に生まれ変わることができるという教えで、平安時代中期から広まりました。なお、2は禅宗、3は日蓮宗の教え、4は聖武天皇が行ったことについての説明です。
- (ii) 地形図Ⅰの[P]で示された神社から見ると、地形図Ⅱの中尊寺PAの方位は南西にあたります。
- (iii) 地形図Ⅰの縮尺は、地形図Ⅱの縮尺の2倍なので、地形図Ⅰにおける6cmは、地形図Ⅱ上では $6 \times 2 = 12$ cmとなります。
- (iv) [X]は交番(X)、[Y]は発電所(変電所)()、[Z]は図書館()です。なお、消防署は(Y)、工場は(☆)、博物館(美術館)は()です。
- (v) 地形図Ⅱの[A]で示された地点の標高は近くに標高33.5mを表す水準点があることから40mとわかり、地形図Ⅱの[B]で示された地点の標高は100mの等高線から一つ上の等高線なので110mとわかります。よって、標高の差は $110 - 40 = 70$ mとなります。

問3 室町時代までの歴史

- (ア) 縄目の文様がつけられた土器が使われたのは縄文時代です。bのエジプト文明が栄えたのは紀元前3000年頃で、約1万3000年前から紀元前4世紀ごろまでの日本の縄文時代にあてはまります。なお、Aは古墳時代についての説明です。また、aのローマ帝国が築かれたのは紀元前1世紀で、紀元前4世紀ごろから紀元3世紀ごろまでの日本の弥生時代にあてはまります。
- (イ) 聖徳太子は、役人が従うべききまりや心構えを示すために、604年に十七条の憲法を制定しました。また、603年には、家柄にとらわれず有能な人物を取り立てるために冠位十二階の制度を定めました。なお、御成敗式目(貞永式目)は鎌倉時代に北条泰時が御家人に裁判を公平に裁くための基準を示すために制定されました。
- (ウ) 1は平安時代の894年、2は室町時代の1429年、3は奈良時代の743年、4は平安時代の9世紀初め頃、5は鎌倉時代の1203年のできごとです。よって、古いものから順に並べると、3、4、1、5、2の順になり、5が正解です。
- (エ)(i) 坂上田村麻呂は、797年に桓武天皇から征夷大將軍に任命され、802年に胆沢城を築き、蝦夷平定の拠点としました。なお、平清盛は武士として初めて太政大臣として実権を握り、聖武天皇は、8世紀中頃に全国に国分寺と国分尼寺を建てました。
- (ii) 藤原道長は、4人の娘を天皇の後として約30年にわたって政治の実権を握りました。子の頼朝とともに藤原氏の摂関政治の全盛期を築きました。なお、1は院政、3は平氏の栄華、4は建武の新政について示しています。
- (オ) aの六波羅探題は、cの承久の乱(1221年)あとに、京都に置かれた役職で、朝廷や公家の監視などを行いました。bの元軍が二度にわたって北九州に襲来したのは、1274年と1281年です。よって、古いものから順に並べると、c、a、bの順になり、5が正解です。
- (カ)(i) 足利尊氏が幕府を開いたのは室町時代です。1は1776年で江戸時代、2は1492年で室町時代、3は19世紀はじめで江戸時代、4は1649年で江戸時代のできごとです。
- (ii) 資料Ⅱは、1428年におこった正長の土一揆について書かれたものです。近江(現在の滋賀県)の馬借が立ち上がったことをきっかけにおこり、農民たちが借金(徳政)の帳消し(徳政)を求めて、当時高利貸しを営んでいた酒屋や土倉などを襲いました。

問4 戦国時代から江戸時代までの歴史

- (ア) 鉄砲は1543年にポルトガル人が種子島に漂着した際に伝わりました。織田信長と徳川家康の連合軍は、鉄砲を効果的に用いて、長篠(愛知県)で武田勝頼の軍を破りました。なお、桶狭間の戦いは、織田信長が今川義元を破った戦いです。
- (イ) 資料Ⅰは、豊臣秀吉が1588年に出した刀狩令の一部です。これは農民の一揆を防ぎ、農業に専念させるために出されました。刀狩と太閤検地などにより兵農分離が進むことで、身分制度の基礎が整えられました。
- (ウ) (i) 徳川家光は、武家諸法度に参勤交代の制度を追加したり、鎖国を完成させたりしました。なお、1は徳川綱吉が出した生類憐みの令、2は水野忠邦が行った天保の改革、4は松平定信が行った寛政の改革についての説明です。
- (ii) 江戸時代、朝鮮との交流は対馬藩の宗氏が仲立ちとなって行われ、1607年からは將軍の代替わりごとに朝鮮通信使が送られました。なお、1は蝦夷地のアイヌの人々との交易の独占が認められました。3は琉球王国を支配下において貿易を行いました。4は現在の高知県に位置し、藩政改革に成功した雄藩の一つになりました。
- (エ) 歌川広重は、化政文化の頃に『東海道五十三次』などの浮世絵を描きました。なお、水墨画は墨の濃淡で、自然や人物を描く絵画で、日本では室町時代に雪舟が大成しました。また、菱川師宣は元禄文化の頃に浮世絵を大成し、『見返り美人図』などを描きました。
- (オ) 資料Ⅱは、アヘン戦争の講和条約として1842年に結ばれた南京条約の一部です。南京条約では広州、上海など5港の開港、香港の割譲、莫大な賠償金の支払いが清に課せられました。1825年に異国船打払令(外国船打払令)を出して中国やオランダ船以外の外国船を撃退する方針を採っていた幕府は、アヘン戦争で清がイギリスに敗れたことを知り、1842年に外国船に薪水、食料の補給を許す薪水給与令を出し方針を転換しました。
- (カ) (i) aは1858年、bは1854年、cは1860年のできごとです。幕府は1854年に日米和親条約を結び、下田、函館の2港を開きました。幕府の大老である井伊直弼は、1858年にアメリカとの間で日米修好通商条約を朝廷の許可なく結び、函館、神奈川(横浜)、長崎、新潟、兵庫(神戸)の5港を開き、貿易を始めることを決めました。さらに、井伊直弼は安政の大獄で幕府の方針に反対する大名や武士、公家を厳しく処罰したことから、1860年に江戸城の桜田門外で水戸藩の元藩主らによって暗殺されました。よって、古いものから順に並べると、b、a、cの順になり、3が正解です。
- (ii) Aがイギリス、Bがアメリカとの貿易額の割合を示しています。アメリカでは、1861年に自由貿易や奴隷制をめぐって南部と北部が対立して南北戦争がおこり、1865年に北部が勝利しました。それにより、しばらくの間、アジアへの進出は止まりました。
- (キ) 大政奉還は1867年に行われ、約260年続いた江戸幕府が滅びました。なお、Aは第3代將軍、Cは第8代將軍です。

3/5 中 2 SS

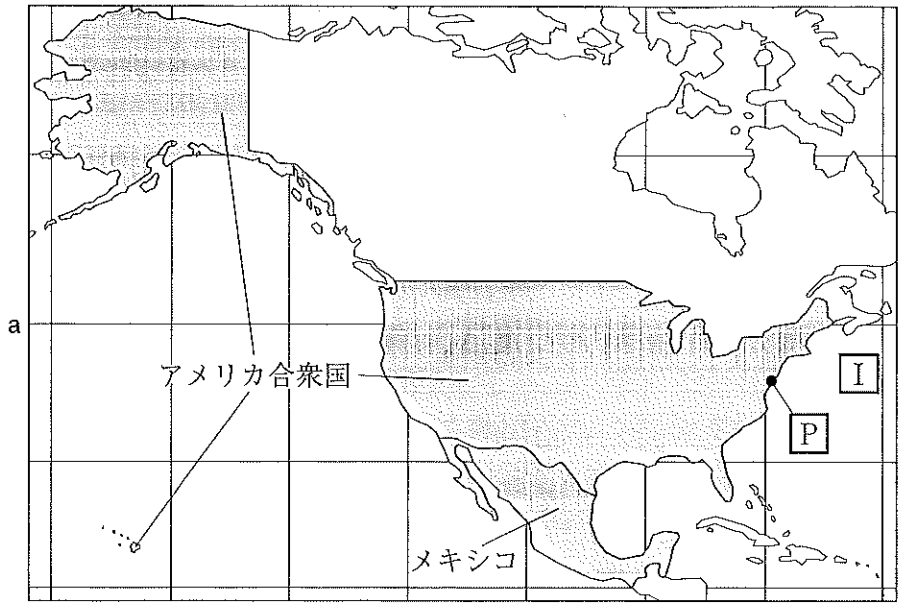
<2020年3月実施 全県チャレンジ>

問1 次のメモは、Kさんが世界一周旅行にでかけたときの行程を記したものの一部である。また、略地図Ⅰ～Ⅳは、現在の世界のさまざまな地域を表しており、それぞれ緯線は赤道から15度ごと、経線は本初子午線から15度ごとに引いたものである。これらのメモ及び略地図Ⅰ～Ⅳについて、あとの各問いに答えなさい。

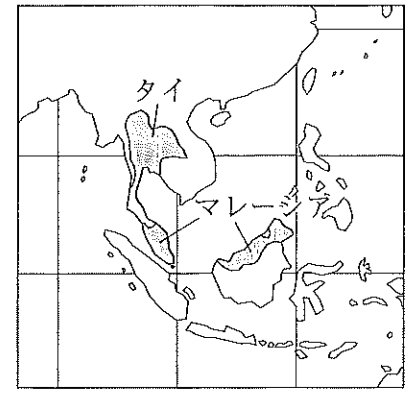
メモ

航空機と鉄道を使って世界一周をするツアーに出かけた。このツアーでは、成田国際空港を出発し、
 ①地球を西に向かって一周した。また、②ツアーの途中で略地図Ⅲにあるフランスにも立ち寄った。

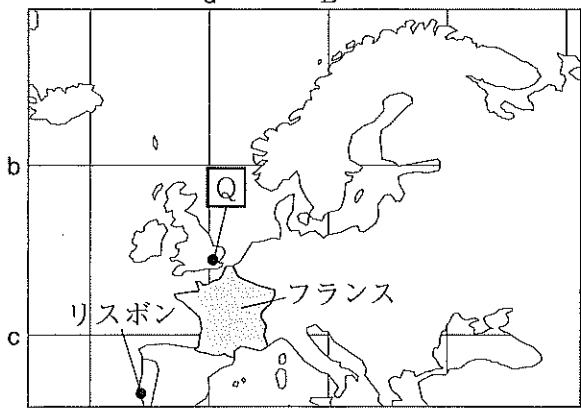
略地図Ⅰ



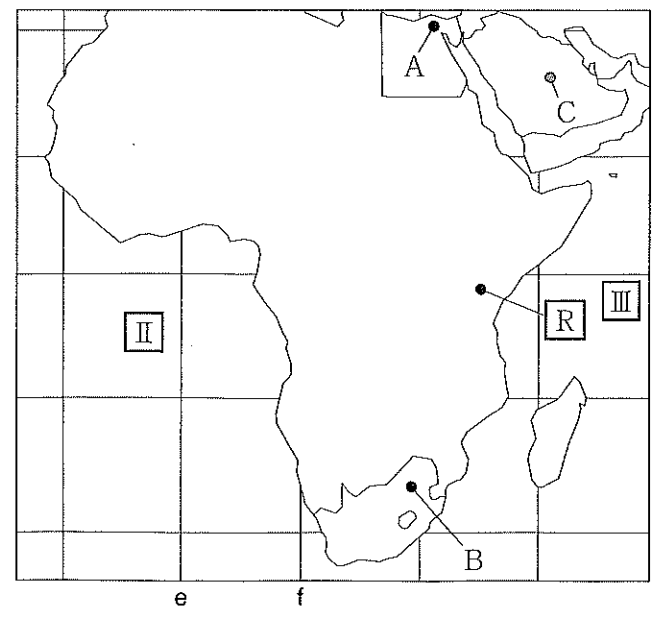
略地図Ⅱ



略地図Ⅲ



略地図Ⅳ



(ア) メモについて、あとの各問いに答えなさい。

(i) 線①に関して、略地図Ⅰ、Ⅲ、Ⅳにある P、Q、R は、Kさんが成田国際空港を出発してから地球を西に向かって一周する行程で通過した場所を示している。P、Q、R を通過した順に並べたものとして最も適するものを、次の1～6の中から一つ選び、その番号を答えなさい。

- | | | |
|--------------|--------------|--------------|
| 1. P → Q → R | 2. P → R → Q | 3. Q → P → R |
| 4. Q → R → P | 5. R → P → Q | 6. R → Q → P |

- (ii) 線②に関して、日本とフランスについて説明した、次の〔 〕中の〔 あ 〕、〔 い 〕にあてはまるものの組み合わせとして最も適するものを、あとの1～4の中から一つ選び、その番号を答えなさい。

フランスの標準時の基準となる経線は、略地図ⅢのLで示した線である。そのため、フランスと日本の時差は、サマータイムを考慮しない場合〔 あ 〕時間となり、フランスの方が日本より〔 あ 〕時間時刻が〔 い 〕ことになる。

1. あ：8 い：進んでいる 2. あ：8 い：遅れている
3. あ：10 い：進んでいる 4. あ：10 い：遅れている

- (i) 略地図Ⅰ～略地図Ⅳについて、あとの各問いに答えなさい。

- (i) 次の〔 〕中の〔 う 〕、〔 え 〕にあてはまるものの組み合わせとして最も適するものを、あとの1～4の中から一つ選び、その番号を答えなさい。

略地図Ⅰのaで示した線と、略地図Ⅲの〔 う 〕で示した線の緯度は同じである。また、略地図Ⅲのdで示した線と、略地図Ⅳの〔 え 〕で示した線の経度は同じである。

1. う：b え：e 2. う：b え：f 3. う：c え：e 4. う：c え：f

- (ii) 次の表は、略地図Ⅰにあるアメリカ合衆国及びメキシコの輸出相手国(地域)をまとめたものである。

表中の〔 お 〕にあてはまる国として最も適するものを、あとの1～4の中から一つ選び、その番号を答えなさい。

表

アメリカ合衆国(2017年) 輸出国割合(%)		メキシコ(2017年) 輸出国割合(%)	
〔 お 〕	18.3	アメリカ合衆国	79.8
メキシコ	15.7	〔 お 〕	2.8
中国	8.4	ドイツ	1.7
日本	4.4	中国	1.6
その他	53.2	その他	14.1

(『世界国勢図会 2019/20年版』をもとに作成)

1. イギリス 2. カナダ 3. 韓国 4. オーストラリア

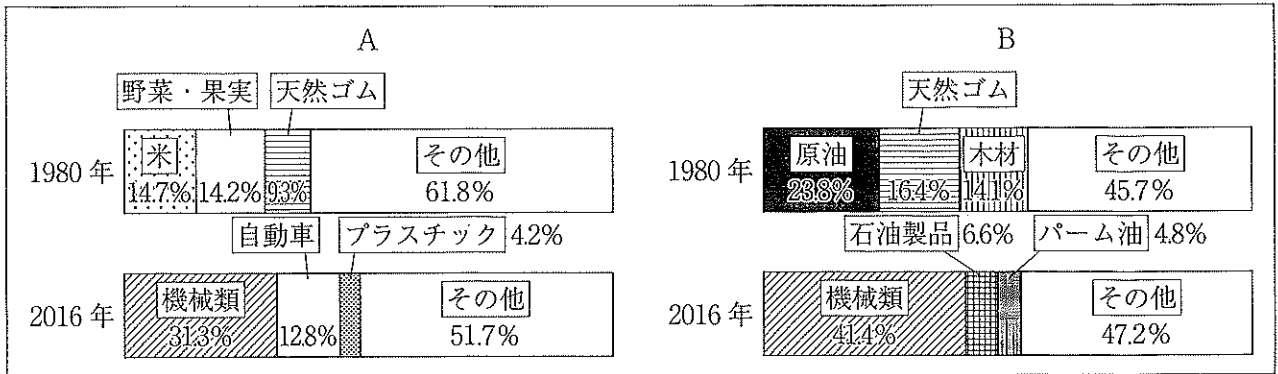
- (iii) 略地図Ⅰにある〔Ⅰ〕で示した海洋について説明した、次の〔 〕中の〔 か 〕、〔 き 〕にあてはまるものの組み合わせとして最も適するものを、あとの1～4の中から一つ選び、その番号を答えなさい。

略地図Ⅰの〔Ⅰ〕で示した海洋は〔 か 〕であり、略地図Ⅳの〔 き 〕で示した海洋と同じである。

1. か：太平洋 き：〔Ⅱ〕 2. か：大西洋 き：〔Ⅱ〕
3. か：太平洋 き：〔Ⅲ〕 4. か：大西洋 き：〔Ⅲ〕

(iv) 次のグラフ I のうち、A と B は、略地図 II にあるタイ及びマレーシアの輸出品目とその割合の推移のいずれかを表している。これについて説明した、あとの [] 中の、 [く] にあてはまるものを A または B から選び、その記号を書き、 [け] にあてはまる内容を、工業製品、資源、農産物という語句をそれぞれそのまま用いて、20 字以内で書きなさい。

グラフ I

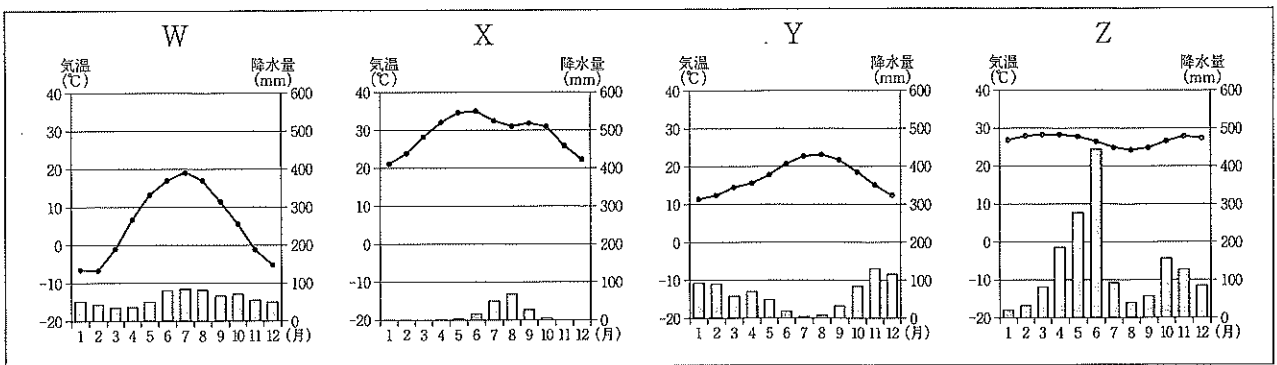


(『世界国勢図会 2019/20 年版』などをもとに作成)

グラフ I のうち、タイ及びマレーシアの 1980 年における輸出品目に注目すると、[く] がマレーシアのグラフであると考えられる。また、タイ及びマレーシアの主な輸出品目は、1980 年と 2016 年を比べると、[け] に変化したことがわかる。これは外国企業の進出を受け入れたためと考えられる。

(v) 略地図 III にあるリスボンについて、グラフ II のうち、リスボンの月ごとの平均気温と降水量を表したものと、この国の農業の様子を説明したものの組み合わせとして最も適するものを、あとの 1～8 の中から一つ選び、その番号を答えなさい。

グラフ II



(『理科年表 令和 2 年』などをもとに作成)

農業の様子


- ① 温暖な気候をいかし、カカオなどの栽培が行われている。
- ② 夏に乾燥する気候をいかし、オリーブなどの栽培が行われている。

- | | | | |
|----------|----------|----------|----------|
| 1. W と ① | 2. W と ② | 3. X と ① | 4. X と ② |
| 5. Y と ① | 6. Y と ② | 7. Z と ① | 8. Z と ② |

(ウ) 略地図Ⅳについて、あとの各問いに答えなさい。

(i) 次のグラフⅢは、略地図ⅣにあるA及びBで示した地点を首都とする国の国内総生産(経済の大きさを金額で示したもの)の推移についてまとめたものである。これについて説明した、あと「」中の「」、「」にあてはまるものの組み合わせとして最も適するものを、1～8の中から一つ選び、その番号を答えなさい。

グラフⅢ



(『世界国勢図会 2019/20年版』をもとに作成)

A及びBで示した地点を首都とする国では、ともに2000年から2017年にかけて、国内総生産が増加している。2000年の国内総生産に対する、2000年から2017年にかけて増加した国内総生産の割合を比較すると、両者のうち、「」で示した地点を首都とする「」の方が大きい。

- | | |
|----------------------|--------------------|
| 1. こ：A さ：南アフリカ共和国 | 2. こ：A さ：エジプト |
| 3. こ：A さ：アルジェリア | 4. こ：A さ：ナイジェリア |
| 5. こ：B さ：南アフリカ共和国 | 6. こ：B さ：エジプト |
| 7. こ：B さ：アルジェリア | 8. こ：B さ：ナイジェリア |

(ii) 略地図ⅣにあるCで示した地点を首都とする国について説明した、次の「」中の「」、「」にあてはまるものの組み合わせとして最も適するものを、あとの1～4の中から一つ選び、その番号を答えなさい。

略地図ⅣにあるCで示した地点を首都とする国において国民の多くが信仰している宗教は「」で、この宗教では「」。

- | |
|--------------------------------------|
| 1. し：キリスト教 す：毎週日曜日に礼拝に参加する習慣がある |
| 2. し：キリスト教 す：1日5回、聖地の方角に向かって礼拝をする |
| 3. し：イスラム教 す：毎週日曜日に礼拝に参加する習慣がある |
| 4. し：イスラム教 す：1日5回、聖地の方角に向かって礼拝をする |

問2 Kさんは、春休みを利用して岩手県について調べ、メモを作成した。これについて、あとの各問いに答えなさい。

メモ

岩手県は、①東北地方の太平洋側に位置しており、西には東北地方の中央を南北に連なる奥羽山脈、東には北上高地があります。太平洋沿岸にある②三陸海岸の南には特徴的な地形が続いています。

産業では農業がさかんで、畜産、酪農や稲作、畑作が行われており、③伝統産業もさかんです。また、県内には世界遺産に登録されている④平泉があります。

(ア) — 線①に関して、東北地方における県名と県庁所在地名が異なっている県の数として最も適するものを、次の1～4の中から一つ選び、その番号を答えなさい。

1. 一つ 2. 二つ 3. 三つ 4. 四つ

(イ) — 線②に関して、次の[]中の「あ」にあてはまる語句を、5字で書きなさい。

三陸海岸の南には複雑に入り組んだ「あ」が見られ、この地形を利用した良港が多く、養殖業もさかんである。しかし、その地形の特徴から、東日本大震災では津波の被害を受けた。

(ウ) — 線③に関して、岩手県を代表する伝統的工芸品として最も適するものを、次の1～4の中から一つ選び、その番号を答えなさい。

1. 南部鉄器 2. 西陣織 3. 加賀友禅 4. 津軽塗

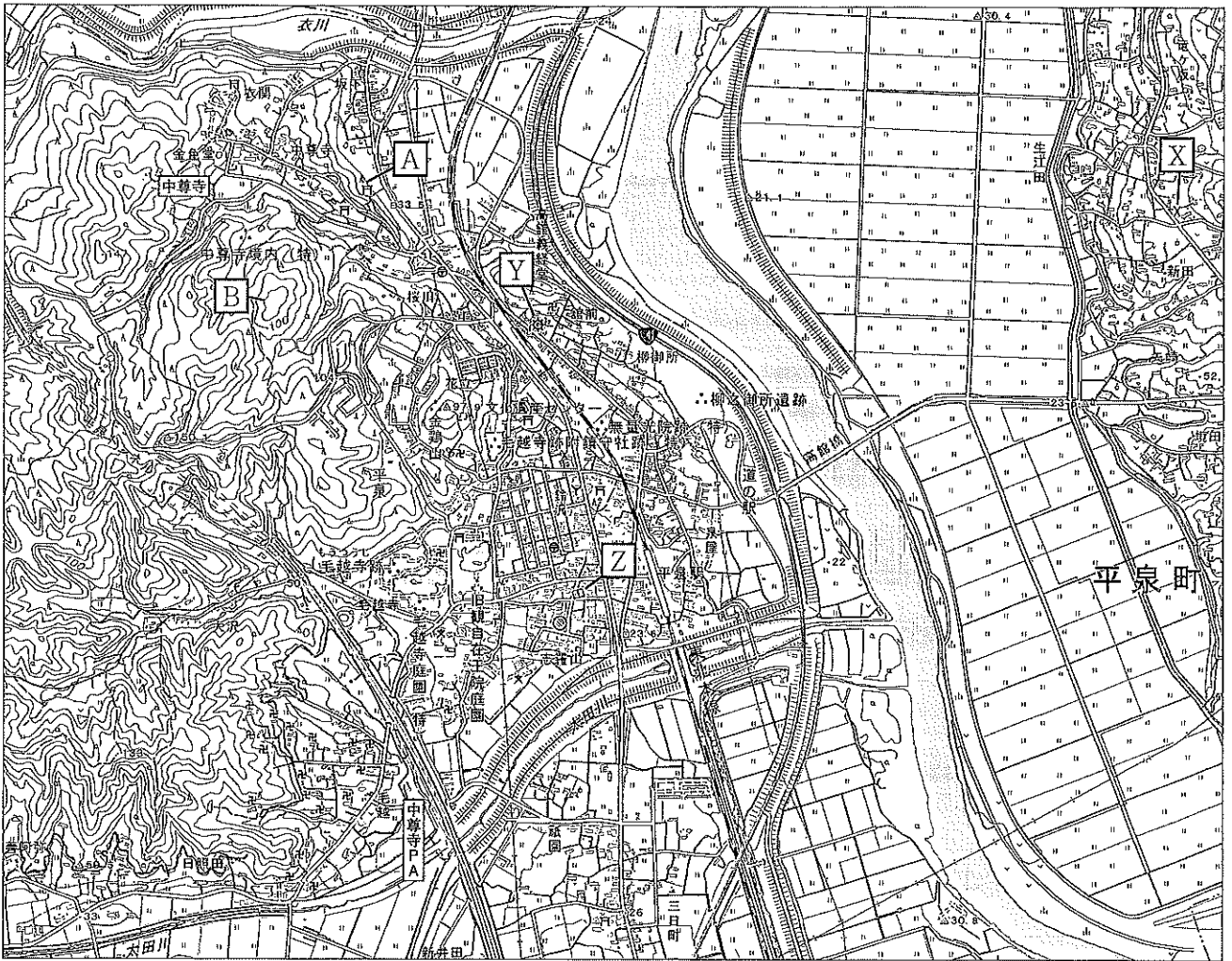
(エ) — 線④に関して、Kさんは、岩手県の平泉町について調べたことを発表するために、一辺の長さが6cmの正方形の地形図Ⅰ、地形図Ⅰで表された範囲を含む地形図Ⅱを用意した。これらに関して、あとの各問いに答えなさい。

地形図Ⅰ



(「5万分の1の地形図 国土地理院作成 (1994年発行)」一部改変)

地形図Ⅱ



〔2万5千分の1の電子地形図 国土地理院作成（令和元年調整）〕一部改変

- (i) 次の [] 中の [い] にあてはまるものとして最も適するものを、あとの1～4の中から一つ選び、その番号を答えなさい。

地形図Ⅰ及び地形図Ⅱの中尊寺^{ちゅうそんじ}は、[い] 浄土信仰の広がりの中、奥州藤原氏によって建てられた。2011年には世界文化遺産に登録された。

1. 阿弥陀如来^{あみだにょらい}にすがり、死後に極楽へ生まれ変わることを願う
2. 座禅により、自分の力で悟り^{さと}を開くことをめざす
3. 「南無妙法蓮華經^{なむびょうほうれんげきょう}」という題目を唱えれば救われると考える
4. 都に大仏を造立し、仏教を深く信仰し、仏教の力により国を治める

- (ii) 地形図Ⅰの [P] で示した神社から見たときの、地形図Ⅱの中尊寺PAの方位として最も適するものを、次の1～4の中から一つ選び、その番号を答えなさい。

1. 南東
2. 南西
3. 北東
4. 北西

(iii) 地形図Ⅱ上に、地形図Ⅰで表された範囲を示したとき、この範囲を示す正方形の一辺の長さとして最も適するものを、次の1～4の中から一つ選び、その番号を答えなさい。

1. 3 cm 2. 9 cm 3. 12 cm 4. 15 cm

(iv) 地形図Ⅱの[X], [Y], [Z]で示した地点に建つそれぞれの建物の組み合わせとして最も適するものを、次の1～8の中から一つ選び、その番号を答えなさい。

- | | | |
|--------------|----------------|----------------|
| 1. [X] : 交番 | [Y] : 工場 | [Z] : 博物館(美術館) |
| 2. [X] : 交番 | [Y] : 発電所(変電所) | [Z] : 博物館(美術館) |
| 3. [X] : 交番 | [Y] : 工場 | [Z] : 図書館 |
| 4. [X] : 交番 | [Y] : 発電所(変電所) | [Z] : 図書館 |
| 5. [X] : 消防署 | [Y] : 工場 | [Z] : 博物館(美術館) |
| 6. [X] : 消防署 | [Y] : 発電所(変電所) | [Z] : 博物館(美術館) |
| 7. [X] : 消防署 | [Y] : 工場 | [Z] : 図書館 |
| 8. [X] : 消防署 | [Y] : 発電所(変電所) | [Z] : 図書館 |

(v) 地形図Ⅱの[A]で示した地点と地形図Ⅱの[B]で示した地点の標高の差として最も適するものを、次の1～4の中から一つ選び、その番号を答えなさい。

1. 30 m 2. 50 m 3. 70 m 4. 90 m

問3 Kさんは、室町時代までの政治や社会に関するできごとの中からいくつかを選び、おきた順に並べた表を作成した。これについて、あとの各問いに答えなさい。

政治や社会に関するできごと	
①	縄目の文様がつけられた厚手で黒褐色の土器が使われた。
②	聖徳太子(厩戸皇子)が推古天皇の摂政として政治を行った。
	中国の都を手本として奈良に③平城京がつくられた。
④	長岡京から平安京に都が移された。
⑤	源頼朝が征夷大將軍になり、鎌倉に幕府を開いた。
⑥	足利尊氏が征夷大將軍になり、京都に幕府を開いた。

(ア) — 線①に関して、この頃の日本の様子と世界の様子を説明したものの組み合わせとして最も適するものを、あとの1～4の中から一つ選び、その番号を答えなさい。

日本の様子	世界の様子
A: 各地に古墳がつけられ、特に近畿地方に大規模な前方後円墳がつけられるようになった。	a: ローマが地中海一帯を統一し、帝国を築いた。
B: 人々は主に狩りや採集を行い、不要になった土器や、食べた貝の殻などを貝塚に捨てていた。	b: ナイル川流域に文明が生まれ、太陽暦や象形文字が使われるようになった。

1. Aとa 2. Aとb 3. Bとa 4. Bとb

(イ) — 線②に関して、次の[]中の[あ]、[い]にあてはまるものの組み合わせとして最も適するものを、あとの1～4の中から一つ選び、その番号を答えなさい。

聖徳太子(厩戸皇子)は、[あ]を制定し、[い]を示し、天皇を中心とした国づくりを目指した。

1. あ: 十七条の憲法 い: 役人が従うべききまりや心構え
 2. あ: 十七条の憲法 い: 裁判を公正に裁くための基準
 3. あ: 御成敗式目(貞永式目) い: 役人が従うべききまりや心構え
 4. あ: 御成敗式目(貞永式目) い: 裁判を公正に裁くための基準

(ウ) — 線③に関して、このとき以降のできごとを説明した次の1～5について、古いものから順に並べたときに4番目にあたるものの番号を答えなさい。

1. 菅原道真の進言により、遣唐使の派遣が停止された。
 2. 尚巴志が沖縄本島の三つの勢力を統一し、琉球王国を建国した。
 3. 口分田の不足を補い、耕地を拡大するために、墾田永年私財法が出された。
 4. 唐で密教を学んだ空海が高野山に金剛峯寺を建て、真言宗を開いた。
 5. 東大寺南大門に、運慶や快慶らによって金剛力士像がつけられた。

(エ) — 線④に関して、あとの各問いに答えなさい。

(i) 次の[]中の[う]、[え]にあてはまるものの組み合わせとして最も適するものを、あとの1～4の中から一つ選び、その番号を答えなさい。

[う]は、[え]によって征夷大將軍に任命され、蝦夷を平定し、胆沢城を築いた。

1. う: 平清盛 え: 桓武天皇 2. う: 平清盛 え: 聖武天皇
 3. う: 坂上田村麻呂 え: 桓武天皇 4. う: 坂上田村麻呂 え: 聖武天皇

- (ii) 次の資料Ⅰは、この時代に活躍した人物の様子を伝える文書の一部である。これについて説明したものと最も適するものを、あとの1～4から一つ選び、その番号を答えなさい。

資料Ⅰ

今日は藤原威子いしが後一条天皇ごいちじょうの皇后となる日である。威子みちながは藤原道長の三女であり、一家から三人の皇后が立つ例はこれまでにないことである。

(『小右記』)

1. 天皇の位を譲ったあとも上皇として実権を長く握り続けている様子を示している。
2. 娘を天皇きさきの后にし、政治の実権を長く握り続けている様子を示している。
3. 武力を背景に、朝廷の争いを解決し、朝廷の高い位を独占している様子を示している。
4. 武士が行う政治から公家くげを重視する政治が行われている様子を示している。

- (オ) — 線⑤に関して、この時代のできごとを並べた次の□中のa～cについて、古いものから順に並べたものを、あとの1～6の中から一つ選び、その番号を答えなさい。

- | | |
|--|---|
| a. 六波羅探題 <small>ろくはらたんたい</small> が設置された。 | b. 元軍 <small>げんぐん</small> が二度にわたって北九州に襲来した。 |
| c. 承久 <small>じょうきゅう</small> の乱がおこった。 | |

1. a→b→c 2. a→c→b 3. b→a→c 4. b→c→a 5. c→a→b 6. c→b→a

- (カ) — 線⑥に関して、あとの各問いに答えなさい。

- (i) この時代の世界のできごととして最も適するものを、次の1～4の中から一つ選び、その番号を答えなさい。

1. 北アメリカの植民地の人々がイギリスからの独立宣言を発表した。
2. コロンブスがスペインの援助で航海に出発し、西インド諸島に到達した。
3. フランスのナポレオンが武力でヨーロッパ諸国を征服していった。
4. クロムウェルがイギリス国王の軍を破り、共和政を樹立した。

- (ii) 次の資料Ⅱについて説明した、あとの□中の□お□にあてはまるものとして最も適するものをAまたはBから選び、その記号を書き、□か□にあてはまる語句を、漢字2字で書きなさい。

資料Ⅱ

正長元年しょうちやうヨリサキ者(ハ)*カンへ四カンカウ(ゴウ)ニヲキメアルヘカラス(オ)(イ)

*カンへ四カンカウ：神戸四か郷(ウ) (邑地むらじ、坂原さかはら、大柳生やぎゅう、小柳生)

資料Ⅱは、正長の土一揆の際、奈良市の郊外にある岩にほられた碑文の内容を書き出したものである。この一揆は、現在の滋賀県で運送業を営んでいた□お□から始まり、近畿地方の農民にまで広がった。農民たちが□か□の実施を幕府に求めたが認められなかったため、自分たちで京都の高利貸しを襲い、借金を帳消しにさせた。

- A. 土倉 B. 馬借

問4 Kさんは、戦国時代から江戸時代の終わりまでのできごとの中からいくつかを選び、カードⅠ～Ⅲを作成した。これについて、あとの各問いに答えなさい。

カードⅠ

①織田信長おだのぶながのあとを継いだ②豊臣秀吉とよとみひでよしによって、各地の戦国大名が平定された。その後、徳川家康とくがわいえやすが江戸に幕府を開いた。

カードⅡ

③徳川家光いえみつの頃になると江戸幕府の支配は安定したが、18世紀以降、④幕政の改革が何度か行われた。

カードⅢ

⑤19世紀頃になると、外国の使節が日本沿岸にあらわれ、⑥ペリーが来航すると、⑦江戸幕府の支配は揺らいだ。

(ア) — 線①に関して、次の[]中の[あ]、[い]にあてはまるものの組み合わせとして最も適するものを、あとの1～4の中から一つ選び、その番号を答えなさい。

織田信長は、[あ]人によって伝えられた鉄砲を効果的に用いて、[い]で甲斐の武田氏を破った。

- | | | | |
|------------|--------------------------------|------------|------------------------------|
| 1. あ：スペイン | い：桶狭間 <small>おけはざま</small> の戦い | 2. あ：スペイン | い：長篠 <small>ながしの</small> の戦い |
| 3. あ：ポルトガル | い：桶狭間の戦い | 4. あ：ポルトガル | い：長篠の戦い |

(イ) — 線②に関して、資料Ⅰは、豊臣秀吉によって1588年に出された法令の一部である。資料Ⅰ中の[う]、[え]にあてはまるものの組み合わせとして最も適するものを、あとの1～4の中から一つ選び、その番号を答えなさい。

資料Ⅰ

諸国の[う]が、刀、脇ざし、弓、やり、鉄砲そのほかの武具などをもつことをかたく禁止する。その理由は、必要のない道具をたくわえて年貢を出ししぶり、ついには[え]をくわだて、武士に対してよくないことをするからである。

- | | | | |
|---------|---------|---------|---------|
| 1. う：百姓 | え：一揆 | 2. う：町人 | え：一揆 |
| 3. う：百姓 | え：打ちこわし | 4. う：町人 | え：打ちこわし |

(ウ) — 線③に関して、あとの各問いに答えなさい。

(i) この人物について説明したものとして最も適するものを、次の1～4の中から一つ選び、その番号を答えなさい。

- 犬をはじめとする動物などの保護を命じる法令をたびたび出した。
- 高騰する物価を引き下げのために、株仲間の解散を命じた。
- 大名の妻子を江戸に住まわせ、大名に1年おきに江戸と領地を往復させる制度を設けた。
- 幕府の学問所を設け、そこでは朱子学以外の学問を教えることを禁じた。

(ii) この人物が活躍した頃に外国との交流の窓口となっていた藩について説明した、次の[]中の [お] にあてはまるものとして最も適するものを、次の1～4の中から一つ選び、その番号を答えなさい。

朝鮮との交流の窓口となった [お] は、朝鮮の釜山プサン わかんに倭館を設けて家臣を常駐させ、外交や貿易を行った。

1. 松前藩まつまえ 2. 対馬藩つしま 3. 薩摩藩さつま 4. 土佐藩とさ

(エ) — 線④に関して、この頃に栄えた文化について説明した、次の[]中の [か]、[き] にあてはまるものの組み合わせとして最も適するものを、あとの1～4の中から一つ選び、その番号を答えなさい。

[か] が東海道沿いの五十三の宿場町の様子を描いた [き] は、錦絵にしきという多色刷りの版画として売り出されて人気を集めた。

1. か：歌川広重うたがわひろしげ き：水墨画 2. か：歌川広重 き：浮世絵
3. か：菱川師宣ひしかわもろのぶ き：水墨画 4. か：菱川師宣 き：浮世絵

(オ) — 線⑤に関して、資料Ⅱは、この頃にイギリスと清しんによって結ばれた条約の一部である。これについて説明した、あとの[]中の [く] にあてはまるものとして最も適するものをAまたはBから選び、その記号を書き、[け] にあてはまる語句を、漢字6字で書きなさい。

資料Ⅱ

- 貿易を行うために、イギリス人が広州コワンチョウ、厦門アモイ、福州フーチョウ、寧波ニンポー、上海シャンハイの5港に住むことを認める。
— [く] をイギリスに譲り、イギリスが永久に統治する。
— 賠償金をイギリスに支払う。

資料Ⅱは、アヘン戦争の講和条約の一部を表している。日本は、この戦争で、イギリスが清に勝利したことを知り、[け] を緩め、外国船に対して薪や水、食料の補給を許すという方針を示した。

- A. 南京ナンキン B. 香港ホンゴン

(カ) — 線⑥に関して、あとの各問いに答えなさい。

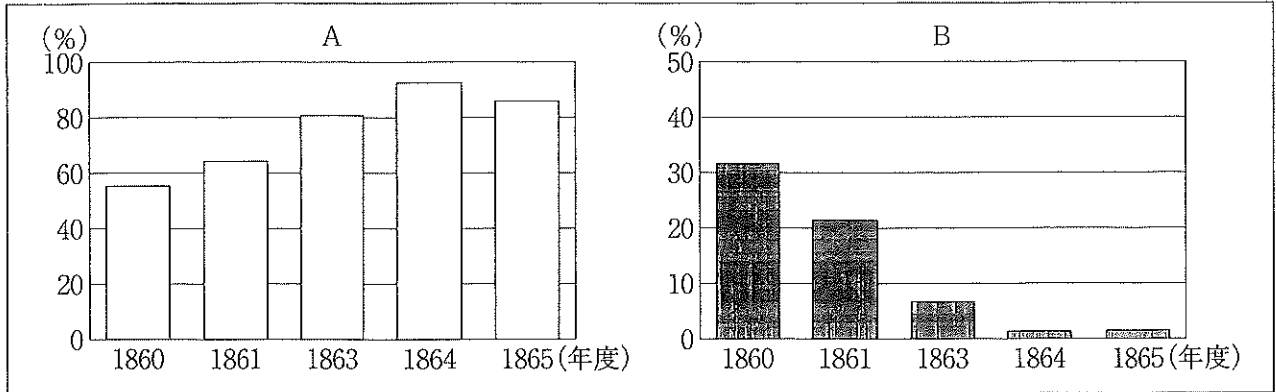
(i) この頃のできごとを並べた次の[]中の a～c について、古いものから順に並べたものを、あとの1～6の中から一つ選び、その番号を答えなさい。

- a. 安政の大獄あんせい たいごくが始まり、幕府の政策に反対する大名や武士、公家くげが処罰された。
b. 日米和親条約が結ばれ、下田と函館はこだての2港を開くことが決められた。
c. 大老井伊直弼い い なおすけが水戸藩の元藩士らによって桜田門外きくらだで暗殺された。

1. a→b→c 2. a→c→b 3. b→a→c 4. b→c→a 5. c→a→b 6. c→b→a

(ii) 次のグラフは、1860年度から1865年度までの日本の国別貿易額の割合について、AまたはBのいずれか一方で、アメリカとの貿易額の割合を表し、もう一方で、イギリスとの貿易額の割合を表している。これについて説明した、あとの〔 〕中の〔 こ 〕、〔 さ 〕にあてはまるものの組み合わせとして最も適するものを、1～4の中から一つ選び、その番号を答えなさい。

グラフ



(『横浜市史』をもとに作成)

グラフからは、1860年から1865年の間で、〔 こ 〕の貿易額の割合が大きく減少していることがわかる。これは、〔 こ 〕が、日本の開国直後に〔 さ 〕がおきたため、アジアへの進出がしばらく難しい状況となった。

- | | | | |
|-----------|----------|-----------|---------|
| 1. こ：アメリカ | さ：外国との戦争 | 2. こ：アメリカ | さ：国内で内戦 |
| 3. こ：イギリス | さ：外国との戦争 | 4. こ：イギリス | さ：国内で内戦 |

(*) 線⑦に関して、次の〔 〕中の〔 し 〕にあてはまるものとして最も適するものをA～Cから一つ選び、その記号を書き、〔 す 〕にあてはまる語句を、漢字4字で書きなさい。

江戸幕府第15代将軍〔 し 〕は、薩摩藩や長州藩を中心^{ちやうしゅう}に倒幕運動が高まる中、〔 す 〕を行って、政権を朝廷に返上することで、倒幕を回避しようとした。

- | | | |
|-------------------------|-------------------------|-------------------------|
| A. 徳川綱吉 ^{つなよし} | B. 徳川慶喜 ^{よしのぶ} | C. 徳川吉宗 ^{よしむね} |
|-------------------------|-------------------------|-------------------------|

(問題は、これで終わりです。)