

1 世界の姿

地球の姿を見てみよう

月 日

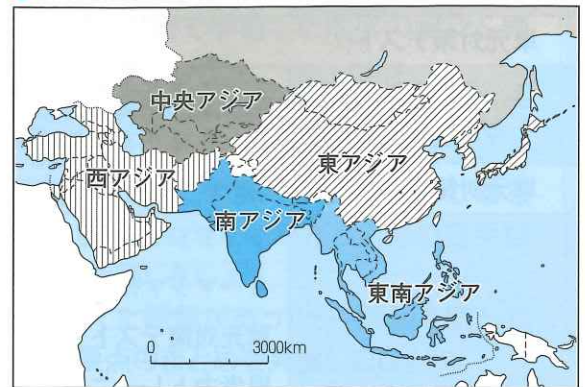
1 地球の姿→①

- 陸と海 地球上の陸と海の面積の割合は3：7で、海のほうが広い→地球は「水の惑星」と呼ばれる。
- 六大陸と三大洋
 - 陸地 **六大陸**(世界最大の大陸。ユーラシア大陸・世界最小の大陸。アフリカ大陸・北アメリカ大陸・南アメリカ大陸・オーストラリア大陸・南極大陸)と、多くの島々。
 - 海洋 **三大洋**(太平洋・大西洋・インド洋)と、それらに付属した小さな海。太平洋は、すべての陸地面積の合計よりも広い。
日本海(にほんかい)や地中海(ちちゅうかい)など。
- 世界の6つの州 南極大陸以外の5つの大陸にある国や地域は、**アジア州**、**ヨーロッパ州**、**アフリカ州**、**北アメリカ州**、**南アメリカ州**、**オセアニア州**の大きく6つの州に分けることができる。→②

①六大陸と三大洋




②アジア州の細かい区分




2 世界のさまざまな国々

- 多くの国々 日本を含め190ほどある。
- 国名の由来 **インド**…**インダス川**の名前による。フィリピン…16世紀のスペインのフェリペ皇太子(のちに国主)の名前による。エクアドル…「赤道」の意味。
- 国旗に表れた国の特色 かつてイギリスの植民地だったオセアニア州の国々の中には、イギリスの国旗である「ユニオンジャック」を自国の国旗の一部に取り入れている国がある。イスラム教徒が多い国々の国旗には、イスラム教のモチーフである三日月と星が描かれたものが多い。→③
- 国境の決まり方 大きく2種類に分けられる。
 - 自然物を利用した国境線** 山、川、湖、海など。
 - 直線的な国境線** アフリカ州に多いまっすぐな国境線緯線(いせん)や経線などを利用。 ←ヨーロッパ諸国による**植民地支配の名残**。→④
- いろいろな条件の国
 - 海洋国(島国)** まわりを海に囲まれている国。
日本、ニュージーランド、イギリスなど。
 - 内陸国** 海に面していない国。
モンゴル、スイス、ネパールなど約40か国。
- 大きい国と小さい国 世界で最も大きな国はロシア連邦。最も小さい国はバチカン市国。日本の国土の面積は、大きいほうから数えて61番目。とくにヨーロッパには、日本よりも小さい国が多い。
- 人口の多い国 世界の人口は約77億人(2019年)。中華人民共和国(中国)が14億人をこえて、最も多い。州ごとでは、アジア州、アフリカ州、ヨーロッパ州の順に人口が多い。**人口密度**…人口を面積で割った値。

③国旗の特色



オーストラリア



ニュージーランド

☐南半球特有の南十字星デザインも多い。

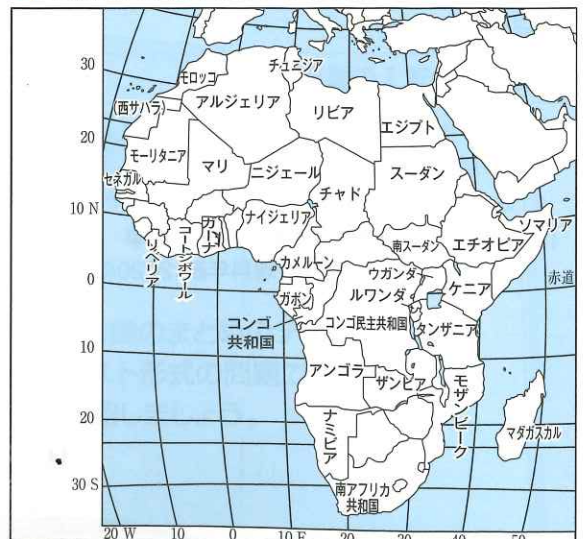


トルコ



パキスタン

④直線的な国境線が多いアフリカ州



☐経緯線にそった国境線が多い。

ポイントチェック

次の各問いに答えなさい。

1 地球の姿

- ① 地球上の陸と海の面積の割合は、何対何か。
- ② ①のことから、地球は何と呼ばれているか。
- ③ 地球上にはいくつの大陸があるか。
- ④ 世界最大の大陸を何というか。
- ⑤ 世界最小の大陸を何というか。
- ⑥ 三大洋のうち、最も大きいものを何というか。
- ⑦ 世界を6つの地域に区分したとき、日本はどこの州にふくまれるか。
- ⑧ ⑦の州をさらに細かく区分したとき、日本がふくまれるのはどこか。
- ⑨ 国の数が最も多い州はどこか。

2 世界のさまざまな国々

- ⑩ 国名がインダス川に由来する国はどこか。
- ⑪ 国名が16世紀のスペイン皇太子フェリペの名に由来する国はどこか。
- ⑫ 「赤道」という意味から国名が付けられた南アメリカ州の国はどこか。
- ⑬ 世界で最も大きな面積の国はどこか。
- ⑭ 世界で最も小さな面積の国はどこか。
- ⑮ アフリカ州に多く見られるまっすぐな国境線は、何を利用して引かれたものか。
- ⑯ まわりを海に囲まれている国のことを何というか。
- ⑰ 海に面していない国のことを何というか。
- ⑱ 1 km^2 あたりの人口で表される、人口を面積で割った値を何というか。

① _____

② _____

③ _____

④ _____

⑤ _____

⑥ _____

⑦ _____

⑧ _____

⑨ _____

⑩ _____

⑪ _____

⑫ _____

⑬ _____

⑭ _____

⑮ _____

⑯ _____

⑰ _____

⑱ _____