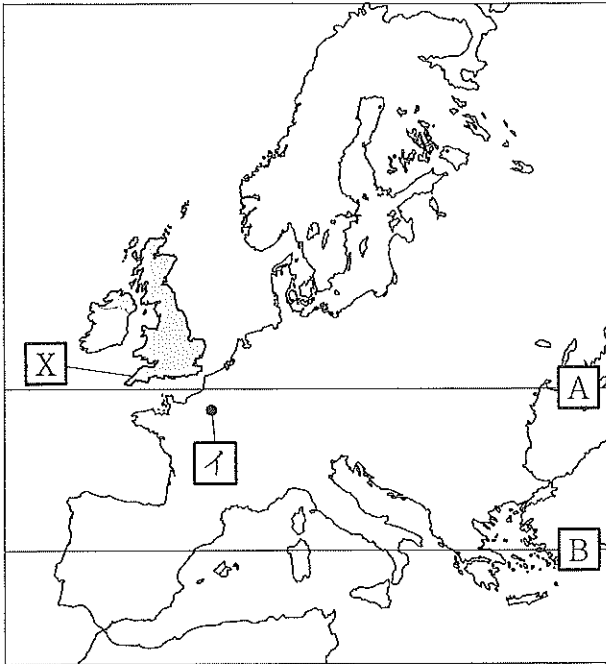


問1 Kさんは、地理の学習について次のレポートを作成した。これについて、あとの各問いに答えなさい。

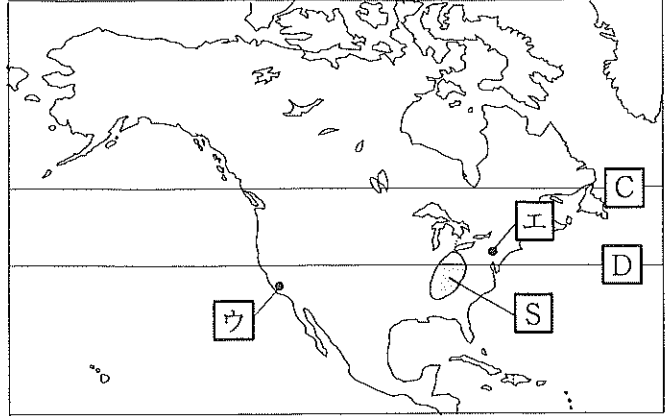
レポート

私は、いくつかの世界地図をもとに、地球の姿や世界の諸地域の産業について調べてみました。略地図Ⅰ・Ⅱは、ヨーロッパ州とアメリカ州を抜粋したものです(ただし、2つの略地図の縮尺は異なっています)。また、略地図Ⅲは、東京からの距離と方位が正しい地図です。

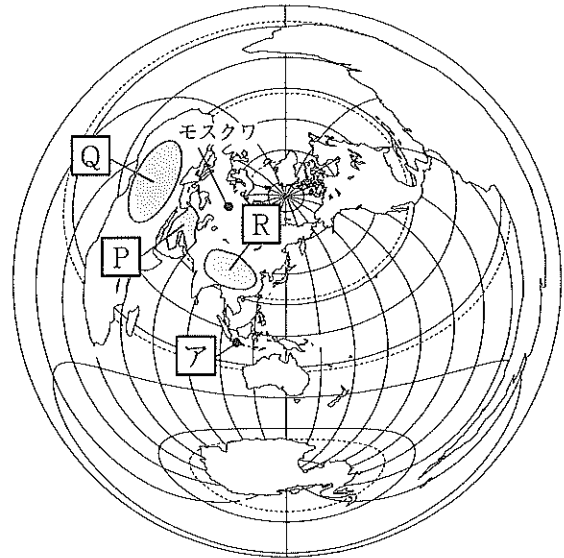
略地図Ⅰ



略地図Ⅱ



略地図Ⅲ



1 世界地図について

世界の姿をさまざまな地図で表すことができるが、球体の地球を平面で表すため、形や面積など全てを1枚の地図上に正確に表すことはできません。①それぞれの地図の特徴をいかし、目的に応じて使い分けます。

2 緯度・経度について

緯度と経度を使って、地球上の国や都市の位置を表すことができ、②同じ緯度を結んだ線を緯線、同じ経度を結んだ線を経線といいます。また③経度は、各国の標準時の基準にもなっています。

3 Xについて

Xは、イングランド、ウェールズ、スコットランド、北アイルランドの4つの国で構成されている国です。④気候は日本と同様に温帯に属していますが、特徴があります。

4 世界各地で行われる農業について

食料を得るため、世界各地で人々は農業を行っていますが、⑤その地域の自然環境や生活文化と、その地域で行われる農業の間には深い関係があります。

- (ア) — 線①に関して、次の文中の「あ」、「い」にあてはまるものの組み合わせとして最も適するものを、あとの1～6の中から一つ選び、その番号を答えなさい。

東京から略地図Ⅲ中のモスクワまでの最短距離よりも、東京から略地図Ⅰ中の「X」までの最短距離の方が「あ」です。また、「X」は東京から見て、およそ「い」の方位に位置しています。

1. あ：短い い：北東 2. あ：短い い：北西 3. あ：短い い：西
4. あ：長い い：北東 5. あ：長い い：北西 6. あ：長い い：西

- (イ) — 線②に関して、秋田県や岩手県を通る北緯40度の線と同じ緯度を示したものは、略地図Ⅰの「A」、「B」および略地図Ⅱの「C」、「D」の線のうち、それぞれどの線か。組み合わせとして最も適するものを、次の1～4の中から一つ選び、その番号を答えなさい。

1. 略地図Ⅰ：「A」 略地図Ⅱ：「C」 2. 略地図Ⅰ：「A」 略地図Ⅱ：「D」
3. 略地図Ⅰ：「B」 略地図Ⅱ：「C」 4. 略地図Ⅰ：「B」 略地図Ⅱ：「D」

- (ウ) — 線③に関して、次の表は、略地図Ⅰ～Ⅲに示した都市「ア」～「エ」の、標準時の基準となる経度と、東京が2月19日午後3時のときの現地時間を示したものである。この現地時間に誤りがある都市はどれか。表の1～4の中から一つ選び、その番号を答えなさい。

表

| | 都市名 | 標準時の基準となる経度 | 現地時間 |
|---|-------|-------------|-----------|
| 1 | 都市「ア」 | 東経 105 度 | 2月19日午後1時 |
| 2 | 都市「イ」 | 東経 15 度 | 2月19日午前7時 |
| 3 | 都市「ウ」 | 西経 120 度 | 2月18日午後8時 |
| 4 | 都市「エ」 | 西経 75 度 | 2月19日午前1時 |

- (エ) — 線④に関して、略地図Ⅰの「X」の国にみられる気候について、次の文中の「う」、「え」にあてはまるものの組み合わせとして最も適するものを、あとの1～4の中から一つ選び、その番号を答えなさい。

「X」の国は、大西洋から吹いてくる偏西風と暖流の影響などで、夏は比較的涼しく、冬は緯度が高いわりに暖かく、雨は「う」という特徴があります。このような気候は「え」気候とよばれています。

1. う：一年を通して降る え：西岸海洋性 2. う：一年を通して降る え：地中海性
3. う：夏に降水量が少ない え：西岸海洋性 4. う：夏に降水量が少ない え：地中海性

- (オ) — 線⑤に関して、次の文のうち、略地図Ⅱ・Ⅲに示した「P」～「S」の各地域について、正しく説明したものとして最も適するものを、次の1～4の中から一つ選び、その番号を答えなさい。

1. 「P」の地域は、羊の遊牧がさかんである。これは、「P」の地域に多く住むイスラム教徒が豚肉を食べないことにも関係がある。
2. 「Q」の地域では、食料や家畜の飼料として利用されるところもろこしがさかんに栽培されている。
3. 小麦は、米に比べて気温の低いところや降水量の少ないところでも栽培ができるため、「R」の地域でさかんに栽培されている。
4. 米は、小麦に比べて高い気温と豊富な水が必要なため、流域面積が世界最大の河川が流れる「S」の地域でさかんに栽培されている。

問2 Kさんは、地理の学習について次のレポートⅠ、レポートⅡを作成した。これらについて、あとの各問いに答えなさい。

レポートⅠ：宮崎県の気候と農業

1 気候について

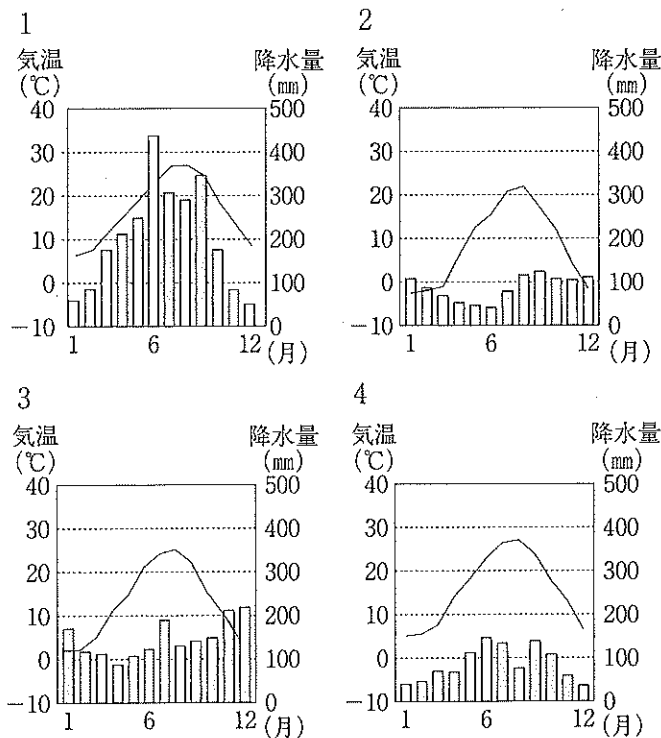
①宮崎県の気候は、夏の季節風の影響を強く受けています。

2 農業について

宮崎県は、マンゴーなどの果物の栽培に向いていることがわかりました。また、②豚、肉用牛、ブロイラー（肉用の^{にわとり}鶏）の飼育がさかんであることもわかりました。

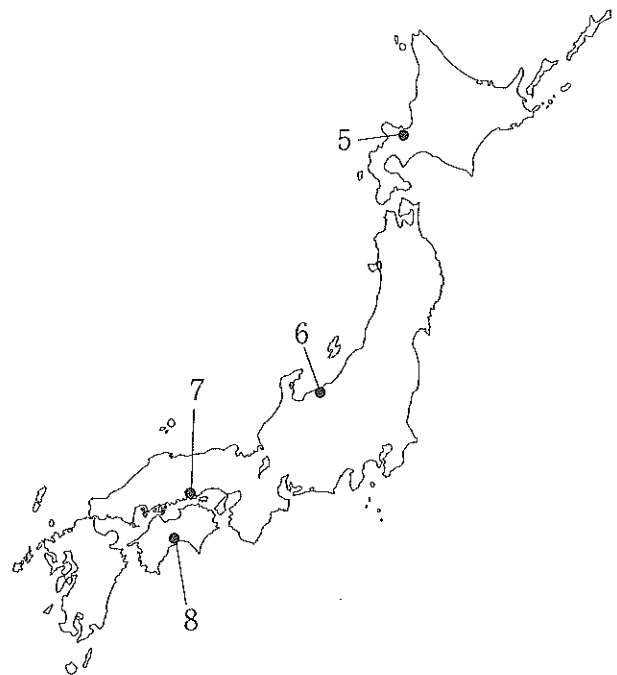
(ア) 線①に関して、宮崎県宮崎市の気温と降水量を表した図として最も適するものを1～4の中から、また、宮崎県の気候と同じ特徴をもつと考えられる都市の位置を略地図中の5～8の中からそれぞれ一つずつ選び、その番号をそれぞれ書きなさい。

図



(「理科年表」2022年版より作成)

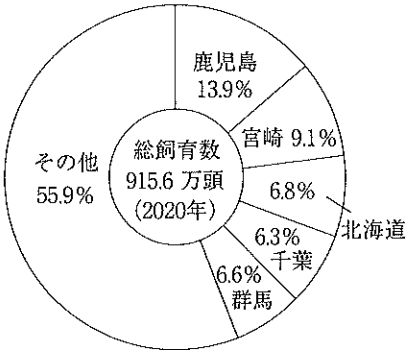
略地図



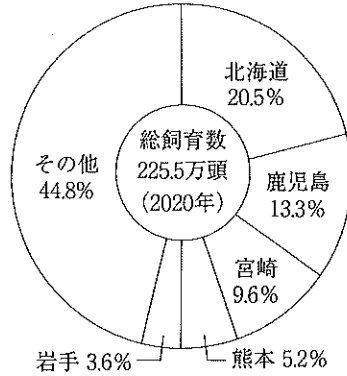
(イ) — 線②に関して、次のグラフは、豚、肉牛、ブロイラー（肉用鶏）の飼育数と上位5道県の割合を示したものである。グラフから読み取れることとして最も適するものを、あとの1～4の中から一つ選び、その番号を答えなさい。

グラフ

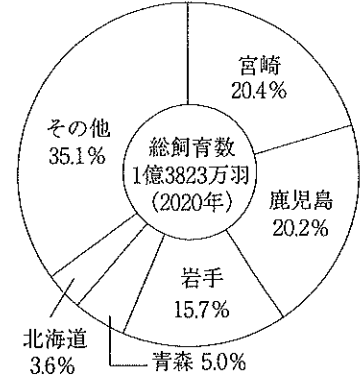
豚の飼育数と都道府県割合



肉牛の飼育数と都道府県割合



ブロイラーの飼育数と都道府県割合



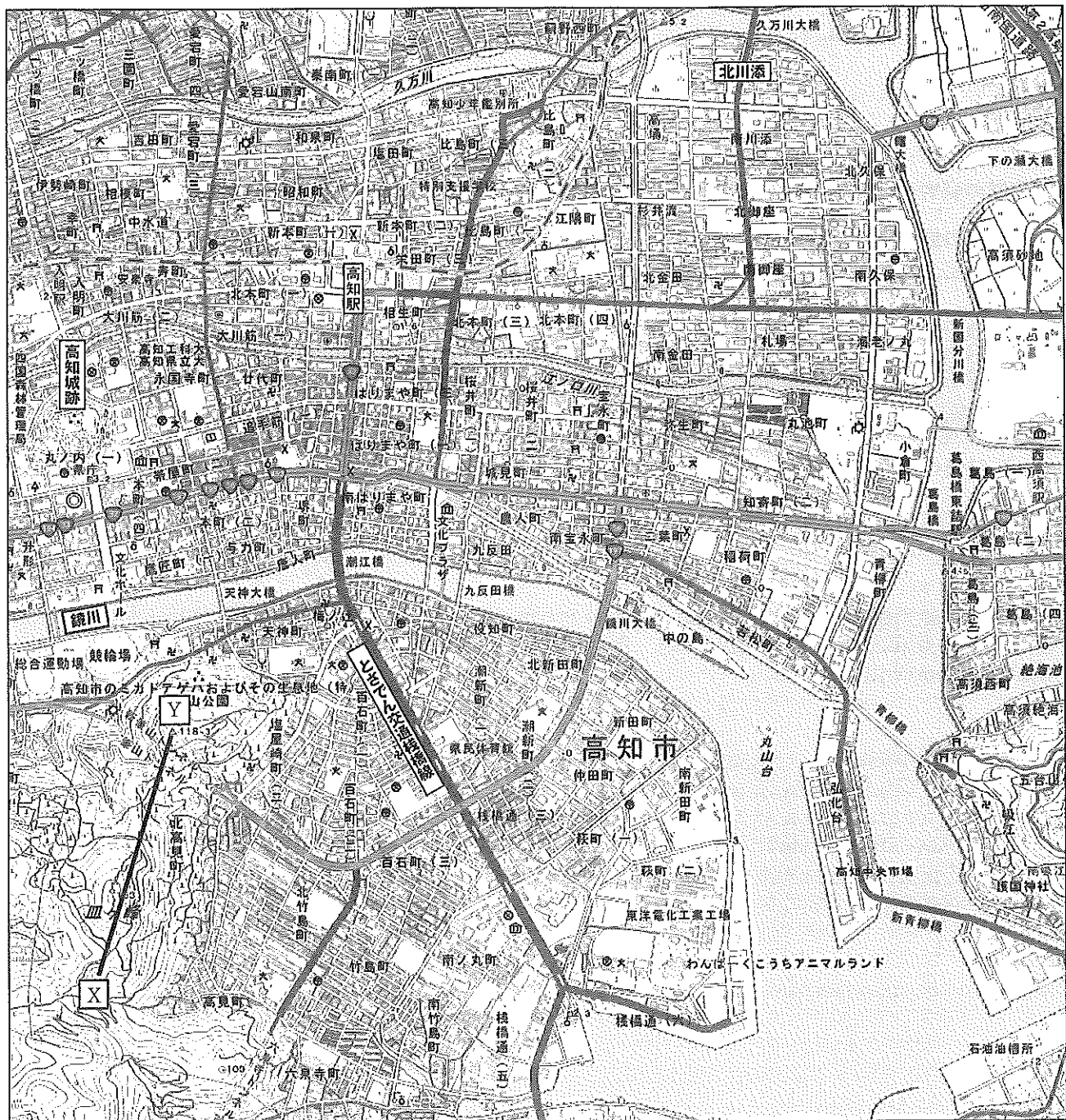
(『世界国勢図会 2021/22年版』をもとに作成)

1. 豚の飼育数について、上位5道県の中で、関東地方の県における飼育数の合計は、九州地方の県における豚の飼育数の合計よりも多い。
2. 肉牛の飼育数について、上位5道県の中で、九州地方の県における飼育数の合計は、北海道の飼育数より30万頭以上多い。
3. ブロイラーの飼育数について、上位5道県の中で、九州地方の県における飼育数の合計は、全国の総飼育数の40%以上を占めている。
4. 宮崎県の豚の飼育数と肉牛の飼育数の合計は130万頭以上である。

レポートⅡ：高知市について

私は夏休みに高知市を旅行しました。高知駅に到着後、地形図を見ながら、まず市役所に行き、高知市について市役所の人から話をうかがいました。市役所を出て前の道を南に進むと鏡川があり、川に沿って東に向かい、最初にあった「あ」を渡りました。橋を渡ってそのまま進むと、とさでん交通^{さんばし}橋線という路面電車が通る道に出たので、この道を南東に向かうと、右側に「い」が見えました。さらに進むと警察署があり、そのとなりに「自由民権記念館」がありました。地形図では、「自由民権記念館」は「う」の記号で表されています。また、市役所から「自由民権記念館」までは、地形図上でおよそ10cmありました。

地形図



(国土地理院 2万5千分の1地形図「高知」(令和元年)より作成)

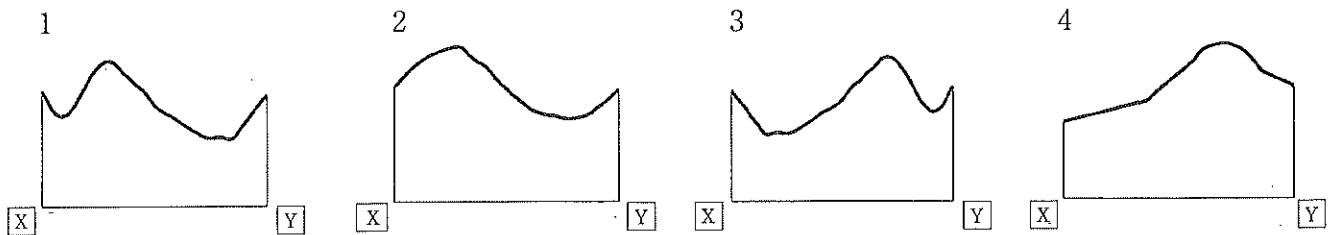
(ウ) 文中の「あ」～「う」にあてはまるものの組み合わせとして最も適するものを、次の1～8の中から一つ選び、その番号を答えなさい。

- | | | |
|-----------|--------|--|
| 1. あ：天神大橋 | い：高等学校 | う： <input checked="" type="checkbox"/> |
| 2. あ：天神大橋 | い：高等学校 | う： <input type="checkbox"/> |
| 3. あ：天神大橋 | い：小学校 | う： <input checked="" type="checkbox"/> |
| 4. あ：天神大橋 | い：小学校 | う： <input type="checkbox"/> |
| 5. あ：潮江橋 | い：高等学校 | う： <input checked="" type="checkbox"/> |
| 6. あ：潮江橋 | い：高等学校 | う： <input type="checkbox"/> |
| 7. あ：潮江橋 | い：小学校 | う： <input checked="" type="checkbox"/> |
| 8. あ：潮江橋 | い：小学校 | う： <input type="checkbox"/> |

(エ) 文中の——線③に関して、市役所から「自由民権記念館」までの実際の距離として最も適するものを、次の1～4の中から一つ選びその番号を答えなさい。

1. 250m 2. 500m 3. 2500m 4. 5000m

(オ) 地形図中の「X」－「Y」の間の略断面図として最も適するものを、次の1～4の中から一つ選び、その番号を答えなさい。



(カ) 地形図から読み取れることについて説明した次の文 a～c の正誤の組み合わせとして最も適するものを、あとの1～8の中から一つ選び、その番号を答えなさい。

a. 鏡川は、高知市内を西から東に向かって流れ、河口付近で流れを南に変えている。
 b. 「北川添」の周辺には、水田が見られる。
 c. 高知城跡の南側には、裁判所や消防署がある。

- | | |
|----------------|----------------|
| 1. a：正 b：正 c：正 | 2. a：正 b：正 c：誤 |
| 3. a：正 b：誤 c：正 | 4. a：正 b：誤 c：誤 |
| 5. a：誤 b：正 c：正 | 6. a：誤 b：正 c：誤 |
| 7. a：誤 b：誤 c：正 | 8. a：誤 b：誤 c：誤 |

問3 Kさんは、室町時代までの歴史と、それを示す神奈川県内の遺跡や建物について、時代の古いものから順にカードⅠ～カードⅤにまとめた。これらについて、あとの各問いに答えなさい。

カードⅠ

さんとのだい
三殿台遺跡(横浜市)

復元住居や立地から、①農業が広く行われるようになったころの生活のようすを知ることができます。

カードⅡ

さがみのくに こくぶんじ
相模国の国分寺跡(海老名市)

仏教の力で国を守るという考えのもと、国ごとに②国分寺・国分尼寺が建てられました。

カードⅢ

くみょう
弘明寺(横浜市)

空海が訪れて供養をおこなったと伝えられます。③1044年には本堂が建立されました。

カードⅣ

つるがわかほちまんぐう
鶴岡八幡宮(鎌倉市)

山と海に囲まれた地形をいかし、鎌倉を武家の政治の中心とする④幕府が開かれました。

カードⅤ

小田原城(小田原市)

小田原北条氏(後北条氏)の本拠地として知られていますが、⑤応仁の乱以前に造られたとされています。

(ア) — 線①に関して、次の文a～dのうち、農業が広く行われるようになった時代のできごとの組み合わせとして正しいものを、あとの1～4の中から一つ選び、その番号を答えなさい。

- a 九州北部にあった奴国の王が漢(後漢)に使いを送り、皇帝から金印をさずけられた。
b 聖徳太子が遣隋使や留学生を送り、隋の政治制度や文化を学ばせた。
c 大和政権(ヤマト王権)の大王が宋の皇帝に使いを送った。
d 邪馬台国の女王卑弥呼が魏に使いを送り、「親魏倭王」の称号や銅鏡をさずけられた。

1. aとc 2. aとd 3. bとc 4. bとd

(イ) — 線②に関して、あとの各問いに答えなさい。

(i) 次の文中の 、 にあてはまるものの組み合わせとして最も適するものを、あとの1～4の中から一つ選び、その番号を答えなさい。

国ごとに国分寺や国分尼寺を建てるように命じたのは 天皇です。このころ、6歳以上の農民にあたえられていた口分田が不足しましたが、 が定められたことにより、土地の開発が促進されました。

1. あ：桓武 い：こんでんえいわんしぎひほう 墾田永年私財法 2. あ：桓武 い：ほんでんしゅうじゆ 班田収授の法
3. あ：聖武 い：墾田永年私財法 4. あ：聖武 い：班田収授の法

(ii) これらが建てられた時代以降のできごとについて説明した次の文Ⅰ～Ⅲを、年代の古いものから順に並べたものを、あとの1～6の中から一つ選び、その番号を答えなさい。

- | |
|------------------------------|
| Ⅰ 最澄により、比叡山延暦寺が建てられた。 |
| Ⅱ 藤原氏により、京都の宇治に平等院鳳凰堂が建てられた。 |
| Ⅲ 平将門が、関東地方で朝廷に反乱をおこした。 |

1. Ⅰ→Ⅱ→Ⅲ 2. Ⅰ→Ⅲ→Ⅱ 3. Ⅱ→Ⅰ→Ⅲ
 4. Ⅱ→Ⅲ→Ⅰ 5. Ⅲ→Ⅰ→Ⅱ 6. Ⅲ→Ⅱ→Ⅰ

(v) — 線③に関して、このころの日本の文化について説明した文X、Yと、大陸のようすについて説明した文a、bの組み合わせとして最も適するものを、あとの1～4から一つ選び、その番号を答えなさい。

| | |
|--------|--|
| 日本の文化 | X 「古事記」や「日本書紀」などの歴史書が作られた。 Y 紫式部によって、「源氏物語」が書かれた。 |
| 大陸のようす | a 百済や高句麗を滅した新羅が、朝鮮半島を支配した。 b 唐が滅んで宋が成立したが、唐のように広大な地域を支配することはできなかった。 |


1. Xとa 2. Xとb 3. Yとa 4. Yとb

(エ) — 線④に関して、この前後におこったできごとを説明した次の1～4について、古いものから順に並べたとき、古いほうから3番目のできごとを選び、その番号を答えなさい。

1. 武士を統制するための御成敗式目(貞永式目)を制定した。
2. 承久の乱をしずめた幕府は、朝廷や西日本の武士を監視するために六波羅探題を設置した。
3. 壇ノ浦の戦いで、平氏が滅亡した。
4. 平清盛が武士として初めて太政大臣になった。

(オ) — 線⑤に関して、下の資料は、このころにおきた正長の土一揆の後に、現在の奈良市郊外にある岩に農民たちがほった碑文とその内容を書き出したものである。この碑文で農民たちが宣言した内容について述べたあと文中の「う」にあてはまる内容を、10字以内で書きなさい。

資料



神戸四か郷の農民たちは、正長元年以前の「う」ことを宣言している。


問4 Kさんは、応仁の乱から幕末までの歴史について次のレポートを作成した。これについて、あとの各問いに答えなさい。

レポート

私は、応仁の乱から幕末までの日本の歴史について、調べ学習を行いました。


応仁の乱がきっかけとなり、戦国時代になりました。図1は応仁の乱の後に京都で行われた①祭りのようすを描いたものです。各地の戦国大名が争いましたが、その中から②豊臣秀吉が力をつけ、全国を統一しました。秀吉の死後、徳川家康が政治の実権を握って江戸に幕府を開き、以後、約260年間にわたり江戸時代が続くことになります。

図1



江戸時代、幕府は対外的には③鎖国と呼ばれる体制をしき、国内では社会が安定し文化や産業が栄えました。図2は16世紀後半から17世紀初めにかけて上方を中心に栄えた、④元禄文化の時期の代表的な絵画です。

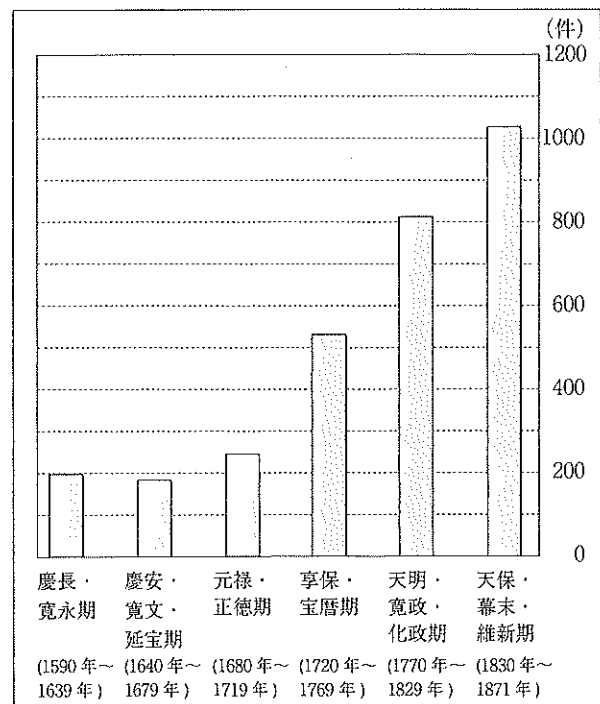
図2



しかし、ききんが起ると各地で百姓一揆の数も増え、幕府による政治はしだいに不安定になり、⑤19世紀の前半には、大塩平八郎が反乱を起しました。グラフは、江戸時代の百姓一揆の発生件数の推移を示したものです。

⑥18世紀末から19世紀になると、外国船が日本の近海に何度も出現するようになり、幕府は対応をせまられるようになりました。そして、薩摩藩や長州藩などが、幕府のもとでは日本は諸外国に対抗できないと考え、倒幕を目指すようになりました。倒幕への激しいうごきの中、江戸幕府15代将軍徳川慶喜は、政権を朝廷に返す大政奉還を行いました。こうして、江戸幕府は滅びました。

グラフ



(横山十四男『百姓一揆と義民伝承』をもとに作成)

(ア) — 線①に関して説明した、次の文中の 、 にあてはまる語句の組み合わせとして最も適するものを、あとの1～4の中から一つ選び、その番号を答えなさい。

応仁の乱によって京都は荒廃しましたが、 と呼ばれる裕福な商工業者たちの力によって復興しました。この復興の象徴が です。

1. あ：座 い：かぶき踊り 2. あ：座 い：^{ぎおん}祇園祭
 3. あ：^{まちしゅう}町衆 い：かぶき踊り 4. あ：町衆 い：祇園祭

(イ) — 線②の人物が行ったことについて説明した次の文X、Yの正誤の組み合わせとして最も適するものを、あとの1～4の中から一つ選び、その番号を答えなさい。

X 全国の田畑を測量して、面積や収穫高などを記録し、農民から確実に年貢を集めた。
 Y 城下町での商人の活動を保護するため、楽市楽座を実施した。

1. X：正 Y：正 2. X：正 Y：誤 3. X：誤 Y：正 4. X：誤 Y：誤

(ウ) — 線③に関して、当時の外国との関係について説明した次の文中の 、 にあてはまる語句の組み合わせとして最も適するものを、あとの1～4の中から一つ選び、その番号を答えなさい。

この時期の貿易は、幕府によって統制されていて、朝鮮との交流は が、琉球王国との交流は が窓口となって行うほか、中国やオランダとの貿易は長崎だけで行われていました。

1. う：^{つしま}対馬藩 え：^{さつま}薩摩藩 2. う：対馬藩 え：^{まつまえ}松前藩
 3. う：松前藩 え：対馬藩 4. う：松前藩 え：薩摩藩

(エ) — 線④に関して、次の文中の にあてはまる語句を漢字3字で書きなさい。また、 にあてはまる語句として最も適するものを、あとのA～Cの中から一つ選び、その記号を書きなさい。

町人の風俗を題材に描かれた絵画は と呼ばれています。^{げんろく}元禄文化を代表する図2の「^{みかえ}見返り美人図」は、 の祖と言われる が描いたものです。

- A ^{ひしかわもろのお}菱川師宣 B ^{うたがわひろしげ}歌川広重 C ^{かつしかほくさい}葛飾北斎

(オ) — 線⑤に関して、大塩の乱が起こる前のできごとについて説明した文 X、Yと、レポート中のグラフから読み取れることについて説明した文 a、b の組み合わせとして最も適するものを、あとの1～4の中から一つ選び、その番号を答えなさい。

| | |
|---------|--|
| できごと | <p>X 水野忠邦により、物価の安定を図るため、株仲間が解散された。</p> <p>Y 松平定信により、生活に困窮する旗本や御家人を救うため、棄捐令<small>きえん</small>が出された。</p> |
| 読み取れること | <p>a 一年あたりの百姓一揆の発生件数は、元禄・正徳期と比べると、天明・寛政・化政期は3倍以上である。</p> <p>b 一年あたりの百姓一揆の発生件数は、享保・宝暦期と比べると、天保・幕末・維新时期は2倍以上である。</p> |

1. Xとa 2. Xとb 3. Yとa 4. Yとb

(カ) — 線⑥に関して、この時期の日本と欧米列強とのできごとについて説明した次のⅠ～Ⅲを、年代の古いものから順に正しく並べたものを、あとの1～4の中から一つ選び、その番号を答えなさい。

| |
|---|
| <p>Ⅰ アヘン戦争が起こり、清がイギリスに敗れて、不平等な条約を結ばされた。</p> <p>Ⅱ 幕府は、オランダや新以外の外国船が日本に接近しないよう、異国船打払令<small>いこくせんうちばらい</small>を定めた。</p> <p>Ⅲ アメリカ合衆国の代表としてペリーが来航し、日本に開国を要求した。</p> |
|---|

1. Ⅰ → Ⅱ → Ⅲ 2. Ⅰ → Ⅲ → Ⅱ 3. Ⅱ → Ⅰ → Ⅲ 4. Ⅱ → Ⅰ → Ⅲ

問5 中国(中華人民共和国)の上海へ旅行に行ったKさんは、上海と中国を題材とするレポートを作成した。
これについて、あとの各問いに答えなさい。

レポート

1 上海について

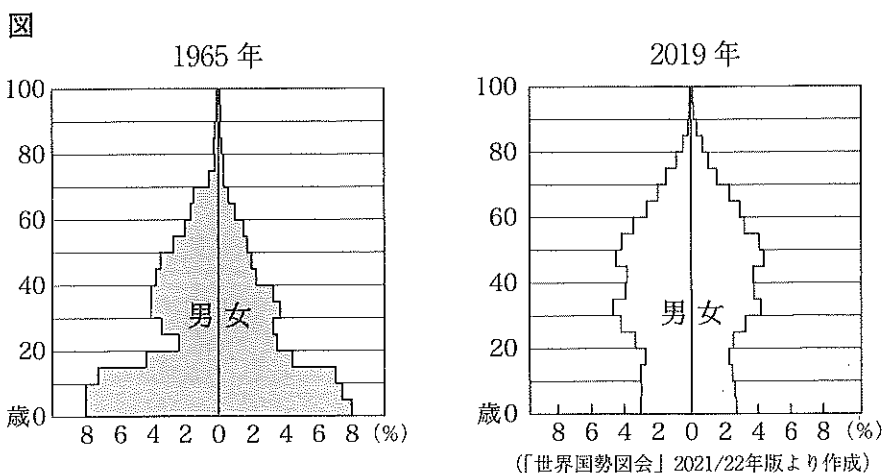
- 上海は中国東部の沿岸に位置する都市です。私は、上海浦東国際空港まで、直行便で **あ** かかる飛行機を使いました。その飛行機は、日本時間の3月1日午後3時に羽田国際空港を出発し、予定通り、現地時間の3月1日午後5時30分に、上海浦東国際空港に到着しました。
- 上海の現地時刻は、中国の首都である北京の標準時となる **い** の経線を基準としているため、日本との時差は1時間です。
- 上海は、1840年の①アヘン戦争後に結んだ南京条約によって開かれました。第二次世界大戦前には西ヨーロッパ諸国や日本の租界が置かれ、ヨーロッパ風の建物が建てられました。

2 中国の発展について

- 中国は **a** 多くを占める漢民族のほか、ホイ族やモンゴル族など、50以上の少数民族が住む多民族国家 です。**b** 中国共産党が、資本主義国家の中華人民共和国を成立させました。
- 世界有数の農業国であり、米、小麦の生産量が世界1位(2019年)のほか、大豆、綿花、とうもろこしなどの生産量も多く、世界の上位を占めています。かつては **c** 人民公社による集団経営が行われていましたが、1980年代からはそれぞれの責任で作物を栽培する生産責任制が取り入れられました。
- 工業においては、**d** 先進国から資本や技術を取り入れるため、沿岸部に経済特区を設け、とくに家電製品を中心とする電気機械工業が発展しました。
- 急激な経済発展がすすんでいて、高層マンションなど都市の再開発が盛んな一方で、伝統的な街並みをどう保存するかは課題だと感じました。

3 中国の人口の変化について

○図は、1965年と2019年における中国の年齢層ごとの人口構成を示したものです。中国では、人口が増えすぎるのを抑えるため、1979年に **お** が始まりました。その結果、2019年のグラフで **か** の世代の人口のバランスが悪くなっています。



(ア) レポート中の 、 にあてはまる時間と経度の組み合わせとして最も適するものを、あとの1～6の中から一つ選び、その番号を答えなさい。

| | | | |
|--------------------------------|-----------|-----------|-----------|
| <input type="text" value="あ"/> | X 2時間 30分 | Y 3時間 30分 | Z 4時間 30分 |
| <input type="text" value="い"/> | a 東経 120度 | b 東経 150度 | |

1. Xとa 2. Xとb 3. Yとa 4. Yとb 5. Zとa 6. Zとb

(イ) — 線①について説明した次の文中の 、 にあてはまる語句の組み合わせとして最も適するものを、あとの1～4の中から一つ選び、その番号を答えなさい。

18世紀後半には、イギリスの東インド会社が中国との貿易をほぼ独占していました。当初、イギリスは中国産の を買って代金の銀を払っていたため、大量の銀を失っていました。そこで、イギリスは、 産のアヘンを中国へ、中国産の をイギリスへ、イギリス産の織物を へそれぞれ輸出して、大きな利益をあげました。

1. う：茶 え：アメリカ 2. う：茶 え：インド
 3. う：香辛料 え：アメリカ 4. う：香辛料 え：インド

(ウ) レポート中の — 線 a～d のうち、誤りのあるものを、次の1～4の中から一つ選び、その番号を答えなさい。

1. a 2. b 3. c 4. d

(エ) レポート中の にあてはまる語句を、6字で書きなさい。また、 にあてはまるものを、次のA～Dの中から一つ選び、その記号を書きなさい。

- A. 66歳～75歳 B. 56歳～65歳 C. 46歳～55歳 D. 36歳～45歳

(問題は、これで終わりです。)

社会 <解答と解説>

| 解答 | 配点 |
|---|---|
| 問1 (ア) 5 (イ) 4 (ウ) 3 (エ) 1 (オ) 1 | 問1 各3点×5 = 15点 計15点 |
| 問2 (ア) 雨温図:1 位置:8 (イ) 3 (ウ) 1 (エ) 3 (オ) 1 (カ) 34 | 問2 各3点×6 = 18点 (ア)完答 計18点 |
| 問3 (ア) 2 (イ)(i) 3 (イ)(ii) 2 (ウ) 4 (エ) 2 (オ) (例)借金を帳消しにする | 問3 (オ)6点 他各3点×5 = 15点 計21点 |
| 問4 (ア) 4 (イ) 2 (ウ) 1 (エ)お:浮世絵 か:A (オ) 4 (カ) 3 | 問4 各4点×6 = 24点 (エ)完答 計24点 |
| 問5 (ア) 3 (イ) 2 (ウ) 2 (エ)お:一人っ子政策 か:D | 問5 (エ)お6点 他各4点×4 = 16点 計22点 合計100点 |

問1 世界地理

- (ア) 正距方位図法で2点間の距離を比べるには、中心点からそれぞれの都市までを直線で結び、その長さを比較します。略地図Ⅲにおいて、東京からモスクワまで結んだ直線と、東京から[X]まで結んだ直線は、[X]までの方が長いので、距離が長いと言えます。また、略地図Ⅲでは、[X]は東京から見て左上に位置しているの、最も適する方位は北西です。
- (イ) 北緯40度の緯線が通るのは、ヨーロッパではイタリア・スペイン、北アメリカ大陸ではニューヨーク付近です。
- (ウ) 東京の経度は東経135度であることを用いて、経度差から東京との時差を求めます。経度差15度が1時間の時差に相当します。都市[A]のジャカルタは経度差が30度のため-2時間、都市[イ]のパリは経度差が120度のため-8時間、都市[ウ]のロサンゼルスは経度差が255度のため-17時間、都市[エ]のニューヨークは経度差が210度のため-14時間となります。東京の時刻を24時間表記で15:00ととらえ、それぞれの時差を計算すると、3が前日の22:00となるので誤りです。
- (エ) [X]の国はイギリスで、暖流である北大西洋海流と偏西風の影響で1年を通して降水があります。同様の気候が、アメリカ合衆国の西海岸やニュージーランドでもみられます。
- (オ) [P]の中央アジアから西アジアの地域は乾燥帯が多いため、羊の飼育が盛んに行われています。なお、[Q]のサハラ砂漠周辺は乾燥帯のため、植物が生育しにくい地域です。[R]の中国南部からインドにかけての地域はモンスーンの影響で降水量が多く、米の栽培に適しています。選択肢4の流域面積が最大の川はアマゾン川であり、南アメリカ大陸を流れるので、この選択肢は適していません。

問2 日本地理

- (ア) 宮崎県は九州地方の太平洋側に位置します。太平洋側の気候は夏に季節風の影響で降水量が多くなるのが特徴です。反対に日本海側では、冬の季節風と日本海の湿った空気の影響で、冬に大量の降雪をとまいます。
- (イ) 選択肢1は、九州地方の県の割合が23.0%、関東地方の割合が12.9%のため、適していません。選択肢2は、九州地方が約63万頭、北海道が約46万頭のため、適していません。選択肢3は、九州地方の県における割合の合計が40.6%であり、適しています。選択肢4は、豚の飼育頭数が約83万頭、肉牛の飼育頭数が約22万頭のため、適していません。
- (ウ) 市役所の地図記号(◎)を地形図左から見つけ、問題文の指示に従って道順をたどります。地形図の上方向の方向が北なので、東であれば右方向、南東であれば右下方向にそれぞれ進むと考えます。なお、小学校の地図記号は(㊦)です。
- (エ) 25000分の1の地形図なので、実際の距離は10cm×25000÷100 = 2500mです。

(オ) 等高線から、**X**と**Y**の標高がほぼ同じことがわかるので、4は適していません。また、**X**寄りに標高が最も高い地点(163m)があることから、3も適していません。さらに、**X**と**Y**の間には谷になっているところが2箇所あるので1が正しいです。

(カ) 地図は上方向が北となり、下方向が南となります。高知城跡の下方向に今と~~×~~があり、順に裁判所と~~消防署~~郵便局を表しています。また、「北川添」の周辺にある山は荒地を表しています。

問3 中世までの歴史

(ア) 問題文の「農業が広く行われるようになった時代」は弥生時代を指します。aとdは弥生時代、bは飛鳥時代、cは古墳時代です。

(イ) (i) 国分寺・国分尼寺が建てられたのは奈良時代です。また、墾田永年私財法は、開墾した土地が自分のものになる取り決めです。

(ii) I～IIIはいずれも平安時代のできごとですが、Iは桓武天皇が都を平安京に移した時期、IIは藤原氏による摂関政治が行われていた時期、IIIは武士が登場した10世紀のできごとなので、時代の古いものから順に並べるとI→III→IIとなります。

(ウ) — 線③の時代は平安時代です。まず日本の文化について、Xは奈良時代です。Yは平安時代の国風文化の作品です。ひらがなを使った文学が発展しました。大陸のようすのうち、aの新羅が朝鮮半島を統一したのは7世紀で、10世紀には高麗が成立しているので適していません。

(エ) 選択肢1は1232年、選択肢2は1221年、選択肢3は1185年、選択肢4は1167年のできごとです。

(オ) この碑文は、室町時代に起こった正長の土一揆について示したものです。現在の滋賀県で借金苦に耐えかねた人びとが酒屋などを襲い、徳政として借金の帳消しを求めました。碑文の内容から神戸四か郷では徳政により負債が破棄されたことがわかります。資料中の「ヲキ目(負目)」とは、借金のことをさします。

問4 室町時代から幕末までの歴史

(ア) 京都の街を復興した裕福な商工業者を町衆と言います。祇園祭は平安時代から行われていましたが、応仁の乱があった1467～77年の間は途絶えていました。その後町衆を中心に、1500年に再興されました。座は室町時代にできた同業者の集まり、かぶき踊りは安土桃山時代に出雲阿国によって始まりました。

(イ) X: 太閤検地の説明なので正しいです。

Y: 楽市楽座は織田信長の政策として知られるので、誤りです。

(ウ) 江戸時代の鎖国中は、朝鮮半島と対馬藩、琉球王国と薩摩藩、蝦夷地と松前藩がそれぞれ交流を行いました。

(エ) 浮世絵は菱川師宣が確立し、町人の風俗を題材に描かれました。歌川広重と葛飾北斎は化政文化を代表する画家で、歌川広重は『東海道五十三次』、葛飾北斎は『富嶽三十六景』を描きました。

(オ) 元禄・正徳期の一年あたりの百姓一揆の発生件数は約240件÷40年=6.0件/年であるのに対し、天明・寛政・化政期の一年あたりの百姓一揆の発生件数は約810件÷60年=13.5件/年となっており、aは適していません。また、享保・宝暦期の一年あたりの百姓一揆の発生件数は約530件÷50年=10.6件/年であるのに対し、天保・幕末・維新期の一年あたりの百姓一揆の発生件数は約1030件÷42年=24.5件/年となっているので、bは適しています。また、Xの水野忠邦の天保の改革は、大塩の乱(1837年)以降のできごとなので、適していません。

(カ) 江戸幕府が異国船打払令を出したのは1825年、清とイギリスが戦ったアヘン戦争は1840年、ペリーが浦賀に来航したのは1853年のできごとです。

問5 総合問題

(ア) 上海の現地時刻は北京の標準時と同じで、東京と北京の時差が1時間であることから、経度差は15度です。東京(東経135度)の方が東に位置していることから、北京は東経120度の経線を基準としているとわかります。東京が日本時間の3月1日午後3時であるとき、上海の時刻はそこから1時間を引けばいいので、飛行機が発発する時の上海の現地時刻は3月1日午後2時であるといえます。上海の現地時刻で飛行機の出発時刻と到着時刻を考えると、その差は3時間30分です。

- (イ) イギリスが行ったインド・中国との間の貿易を、三角貿易と言います。中国からイギリスへは茶が多く輸出されていました。
- (ウ) ——線bの「資本主義国家」が誤りで、中国は社会主義国家です。成立したころの中華人民共和国では、国が立てた計画に基づいて生産を行っていました。
- (エ) 一人っ子政策は1979年に開始された中国の人口抑制策で、夫婦に子供を一人しかつくりたいことを政府が推奨するものです。人口増加の伸びはある程度抑制されましたが、人口構成の不均衡や、甘やかされて育ったわがままな子(小皇帝)の増加などの弊害が出ています。また、一人っ子政策が1979年に開始されたことから、2019年で40歳になる人口が、他の世代よりも大幅に減っています。